



Урок № 96.

Названия и последовательность чисел от **11** до **20**

Автор : Гилева Наталия Владимировна
учитель начальных классов
МКОУ «Перегрёбинская СОШ №1»
Октябрьского района Тюменской
области

2020



Устный счёт

Составь задачи



5 литров



3 литра




2 литра
МОЛОКА



Устный счёт

- Сколько надо прибавить к **5**, чтобы получить **6**?
- Какое число увеличили на **1**, если получили **4**?
- Какой знак надо поставить вместо звездочки:
8 * 1 = 7 ?
- Какое число уменьшили на **1**, если получили **6**?
- К какому числу прибавили **1**, если получили **9**?
- Найдите сумму чисел **4** и **1**.

2, 4, 6, 10 +




Устный счёт



0 1 2 3 4 5 6 7 8 9 10



Нумерация



Десять.



Десяток.



одиннадцать



двенадцать



тринадцать

11

Один над десятком

12

Два над десятком

13

Три над десятком



$$10 + 10 = 20$$



2. Сколько красных флажков на нитке? синих?




Сколько всего флажков? Как по-разному можно ответить на этот вопрос?

$$1 \text{ десяток} + 1 \text{ десяток} = 2 \text{ десятка}$$



Реши задачу №3

7 л.




3 б.

1) $7 + 3 = 10$ (д.) всего

2) $7 - 3 = 4$ (б.) меньше

Ответ: на 4 б. меньше , чем лип.





Реши задачу №4



Ваня

4 д.

Вася

? д.


на ? д. б.

? д.

1) $4 + 2 = 6$ (д.) Вася

2) $6 + 4 = 10$ (д) всего


Ответ: 10 д. всего



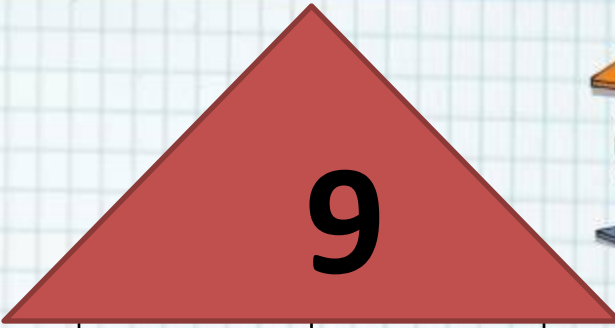
Самостоятельная работа

№ **5, 7** стр. **47**







5	
	6
8	
	7



7	
	5
	6
1	



Оцени себя



Вы можете использовать
данное оформление
для создания своих презентаций,
но в своей презентации вы должны указать
источник шаблона:

Фокина Лидия Петровна
учитель начальных классов
МКОУ «СОШ ст. Евсино»
Искитимского района
Новосибирской области

Сайт <http://pedsovet.su/>

СПАСИБО АВТОРАМ ФОНОВ И КАРТИНОК



Интернет-ресурсы:

Школьный клипарт <http://s3.pic4you.ru/allimage/y2013/10-24/12216/3925122.png>

Линейки <http://s1.pic4you.ru/allimage/y2012/08-20/12216/2356205.png>

Лист в клеточку <http://s1.pic4you.ru/allimage/y2012/08-20/12216/2356208.png>

Скрепка http://img-fotki.yandex.ru/get/6610/134091466.1c/0_8f975_cc74afe5_S

Циркуль http://img-fotki.yandex.ru/get/6521/108950446.113/0_cd1e6_7c1b8dea_S

