


13


35

1




Найди на рисунке предметы, которые носят ПАРАМИ.

2



Чем различаются ботинки в паре? На левый ботинок поставь красную фишку, а на правый — синюю. Назови пару предметов, которые не бывают левыми и правыми.

3



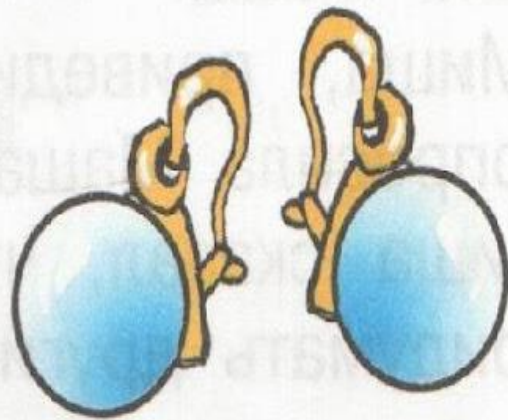
Расскажи соседу по парте, в каких видах спорта спортсмены выступают парами.

1



Найди на рисунке предметы, которые носят ПАРАМИ.

2



Чем различаются ботинки в паре? На левый ботинок поставь красную фишку, а на правый — синюю. Назови пару предметов, которые не бывают левыми и правыми.

3



Расскажи соседу по парте, в каких видах спорта спортсмены выступают парами.



