

Страна «Геометрия»







У меня сегодня всё получится!

1) иметь зоркий глаз;

2) уметь слушать и слышать;

3) быть внимательным..



4 см

6 см

4 см

6 см




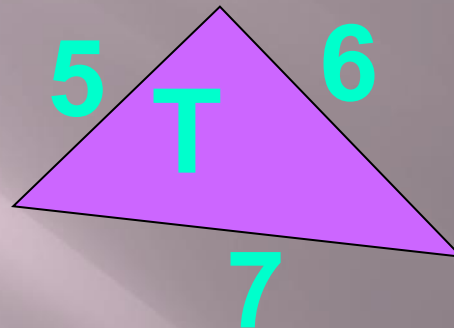

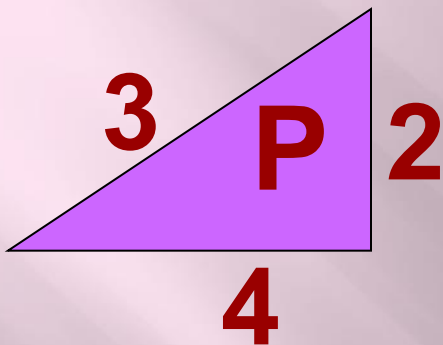
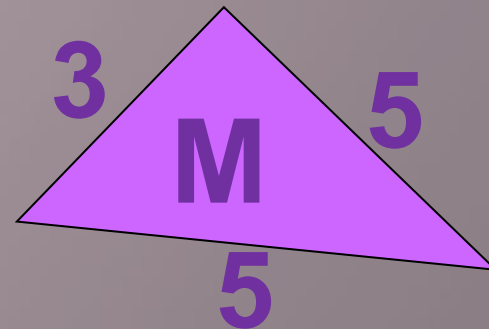
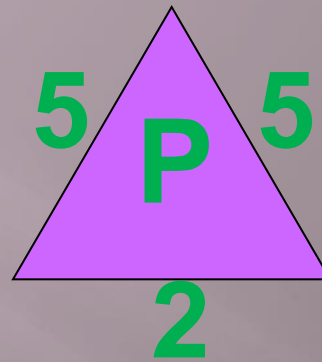
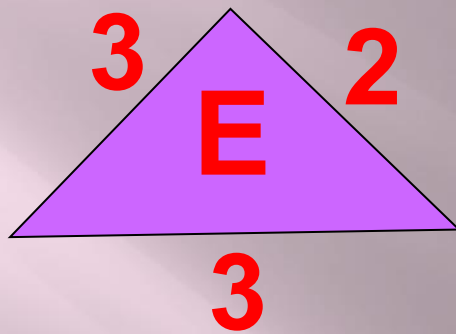
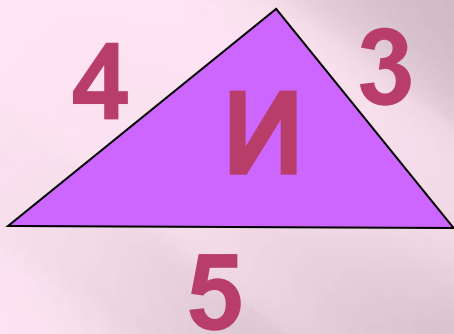
Как найти длину ломаной?
Как называется эта фигура?
Сколько звеньев у ломаной?
если известна длина звеньев?

Как найти сумму
длин всех сторон
многоугольника? **6 см**



А если мы соединим
концы проволоки,
то, что у нас получится?






СУММА ДЛИН СТОРОН МНОГОУГОЛЬНИКА

6	8	9	12	13	15	18	12



ТЕМА НАШЕГО УРОКА:

**« ПЕРИМЕТР
МНОГОУГОЛЬНИКА»**



зadание на
стр.42 учебника




**Периметр многоугольника – это
сумма длин всех его сторон**

Решите задачу на
стр. 42, №3




- Самостоятельная работа






Вы считаете, что урок прошёл для вас плодотворно, с пользой. Вы научились находить длину ломаной и периметр многоугольника и можете помочь другим.



Вы считаете, что научились находить длину ломаной и периметр многоугольника, но вам ещё нужна помощь.



Вы считаете, что было трудно на уроке.

Спасибо!

