


# Величины. Масса.

(стр. 6, № 1, 2, 3; стр. 7, № 4, 5, 6, 7, 8)



Математика, 1 класс, 3 часть  
Л.Г. Петерсон

***Величина** – это такое свойство предмета, которое можно измерить и результат выразить числом.*



2 Найди массу лисёнка в зайчатах и белочках:

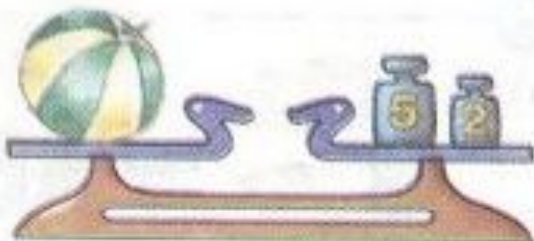


$$л = 3 з$$



$$л = 5 б$$

4



$$5 \text{ кг} + 2 \text{ кг} = \boxed{7} \text{ кг}$$

Масса арбуза –  $\boxed{7}$  килограммов.

5

Какова масса дыни и тыквы?



$$\boxed{5} \text{ кг} + \boxed{2} \text{ кг} + \boxed{2} \text{ кг} = \boxed{9} \text{ кг}$$

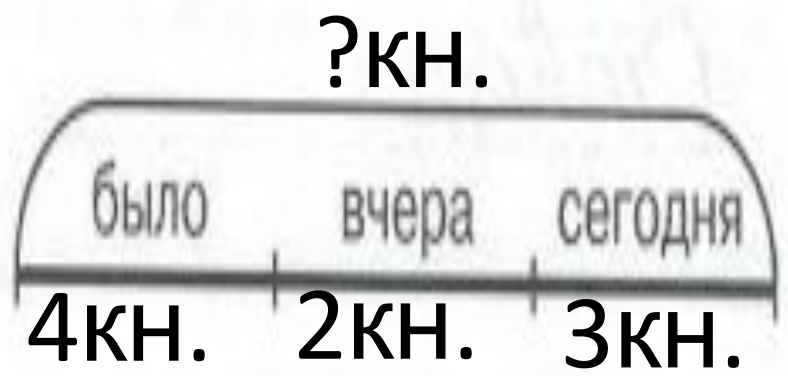


$$\boxed{2} \text{ кг} + \boxed{3} \text{ кг} + \boxed{1} \text{ кг} = \boxed{6} \text{ кг}$$

$$\begin{array}{l} \textcircled{6} \quad 6 \text{ кг} - 3 \text{ кг} = \boxed{3} \text{ кг} \quad 2 \text{ кг} + \overset{3}{1} \text{ кг} + 5 \text{ кг} = \boxed{8} \text{ кг} \\ 5 \text{ кг} + 3 \text{ кг} = \boxed{8} \text{ кг} \quad 9 \text{ кг} - \overset{3}{6} \text{ кг} + 4 \text{ кг} = \boxed{7} \text{ кг} \\ 8 \text{ кг} - 2 \text{ кг} = \boxed{6} \text{ кг} \quad 2 \text{ кг} + \overset{9}{7} \text{ кг} - 5 \text{ кг} = \boxed{4} \text{ кг} \end{array}$$

**7** Нарисуй отрезок длиной 7 см. Увеличь его на 2 см.

8 У Тани было 4 книги. Мама купила ей вчера 2 книги, а сегодня – ещё 3 книги. Сколько книг стало у Тани?



$4+2+3=9(\text{кн.})$																							
<i>Ответ:</i> 9 книг.																							