

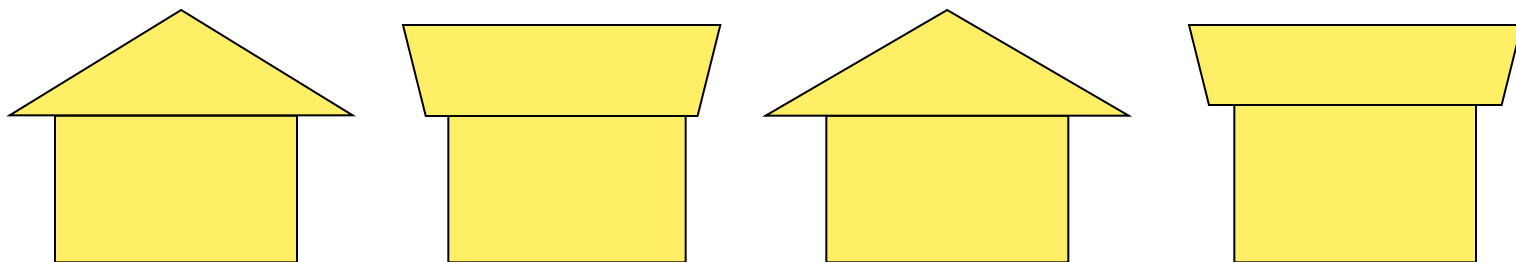


Знаки: больше($>$),
меньше($<$), равно($=$).





Презентация по математике
1 класс УМК «ГНШ»
Подготовила: Сагдиева А.Р.




*Не нарушая закономерности,
дорисуйте недостающие предметы*



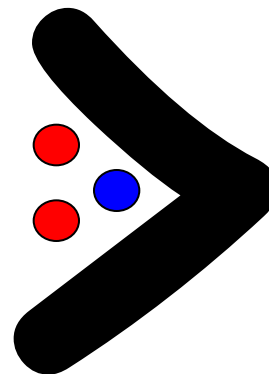
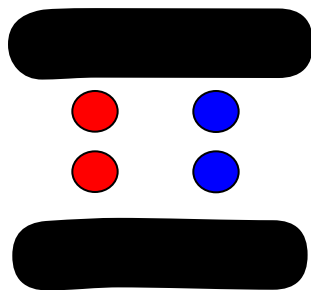
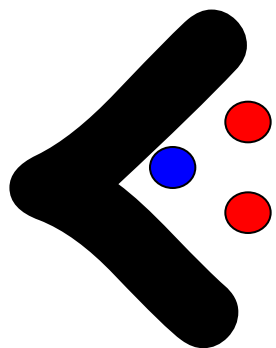
Сколько предметов изображено на
каждой картинке?



На что похожи эти знаки?



Знаки «больше», «меньше» и «равно»

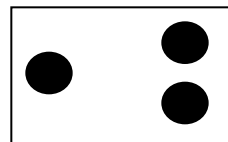






$$1 < 2 \quad 2 = 2$$

$$2 > 1$$



Расставь знаки



$$2 > 1$$

$$1 = 1$$

$$1 > 0$$

$$1 < 2$$

$$0 < 2$$



Спасибо за внимание!

