


У Ани было



Она
съела

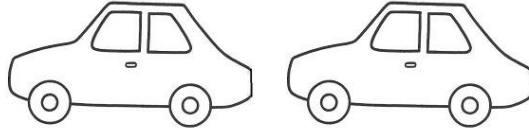



**Сколько груш
осталось?**

Артём

нарисовал

а потом ещё



Сколько всего машин нарисовал
Артём?

у
Антонa



а у Серёжи на



больше.

Сколько машин у Серёжи?

у



Юли

а у Светы на



меньше.

Сколько пирамидок у
Светы?