

Назовите эти числа в
порядке увеличения,
а потом в порядке
уменьшения.

8

4

1

9

7

2

10



5

3



6

1 2 3 4 5 6 7 8 9 10

Вспомни!



Сколько на чертеже ломаных? Сколько многоугольников?



Помоги белочке посчитать грибы в корзине.





Тема урока:

Число 0



0

На что похожа цифра 0 ?

*Ноль собой весьма хорош:
На бараночку похож
И на бублик, и на шар,
И на круглый самовар.*



РАБОТАЕМ С УЧЕБНИКОМ

Страница 70 - 71


Число 0

0

- На первой тарелке 3 ягоды, на второй тарелке ягод нет. Как это записать с помощью цифры?



Какое равенство подходит к картинкам? Составь рассказы по двум другим равенствам.



$$3 - 3 = 0$$

$$5 - 5 = 0$$

$$8 - 8 = 0$$

Если из числа вычесть тоже
самое число, получится 0

$$6 - 6 = 0$$

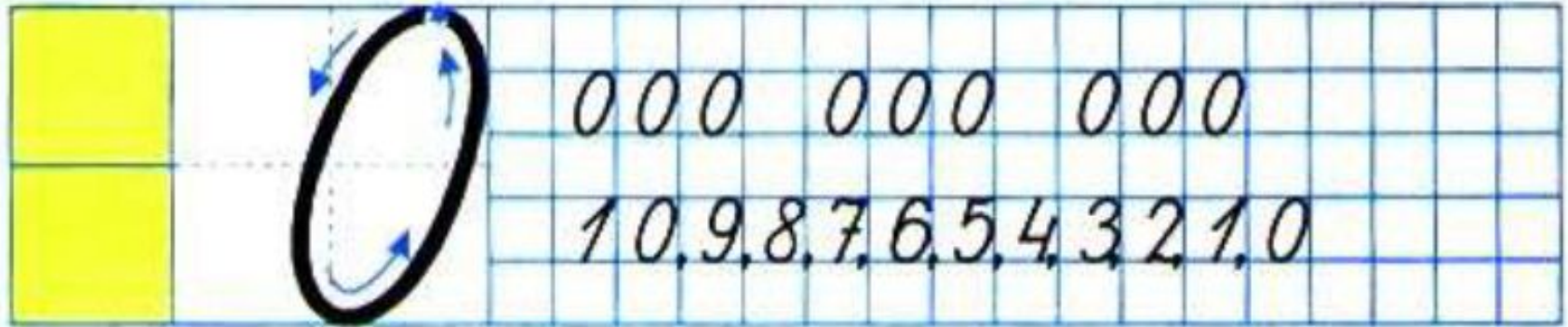
Работа в парах.

Учебник стр. 71

РАБОТАЕМ В ТЕТРАДИ

страница 26





С каким числом
познакомились?

Скажите чего у нас в классе 0?

Запомните все, что без точного счета Не сдвинется с места любая работа!

Д / з : карточки с примерами в тетради