

МОУ «Петъяльская средняя общеобразовательная школа»
Волжского района Республики Марий Эл

Задания для устного счёта

***3 класс, 3-4 четверть
УМК «Школа России»***



Разработала: Лесникова З.
Н.,
учитель начальных
классов

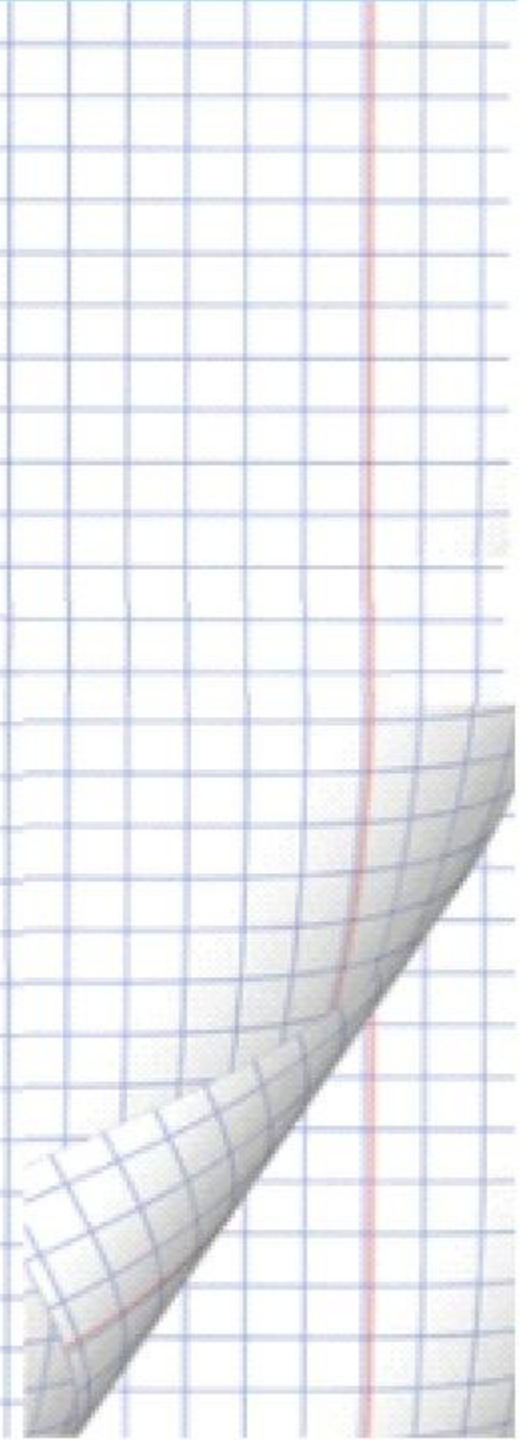
45:8

32:6

19:7

52:9

58:7



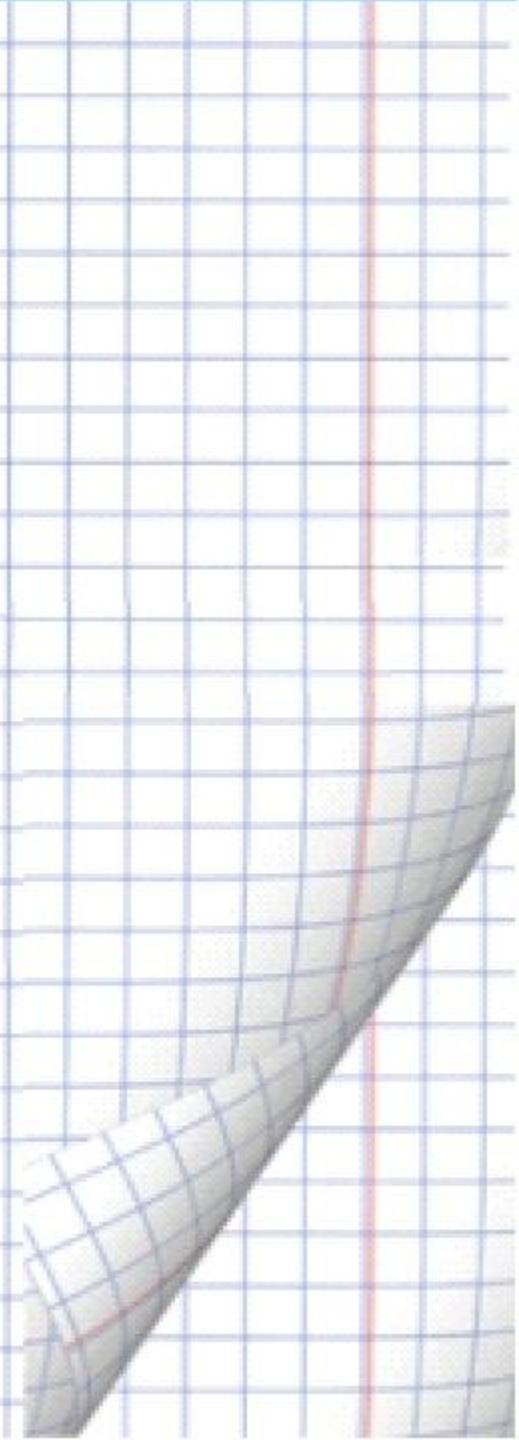
72:12

60:15

96:16

84:14

64:16



$17*5$

$26*4$

$29*3$

$53*4$

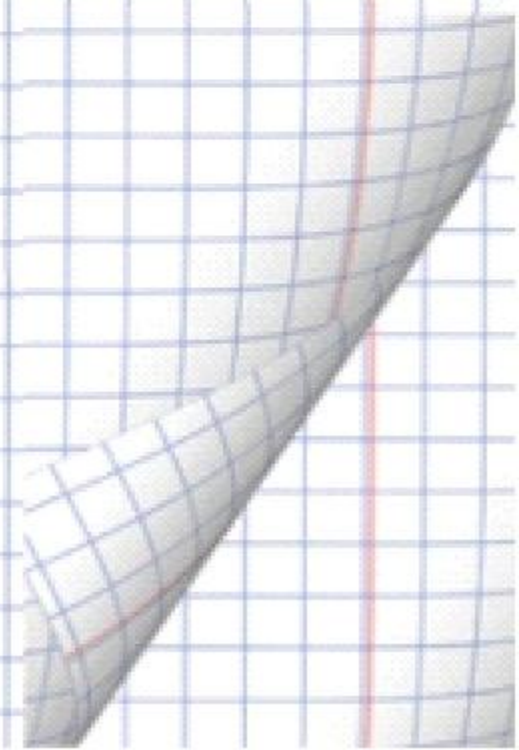
$27*4$

$39*3$

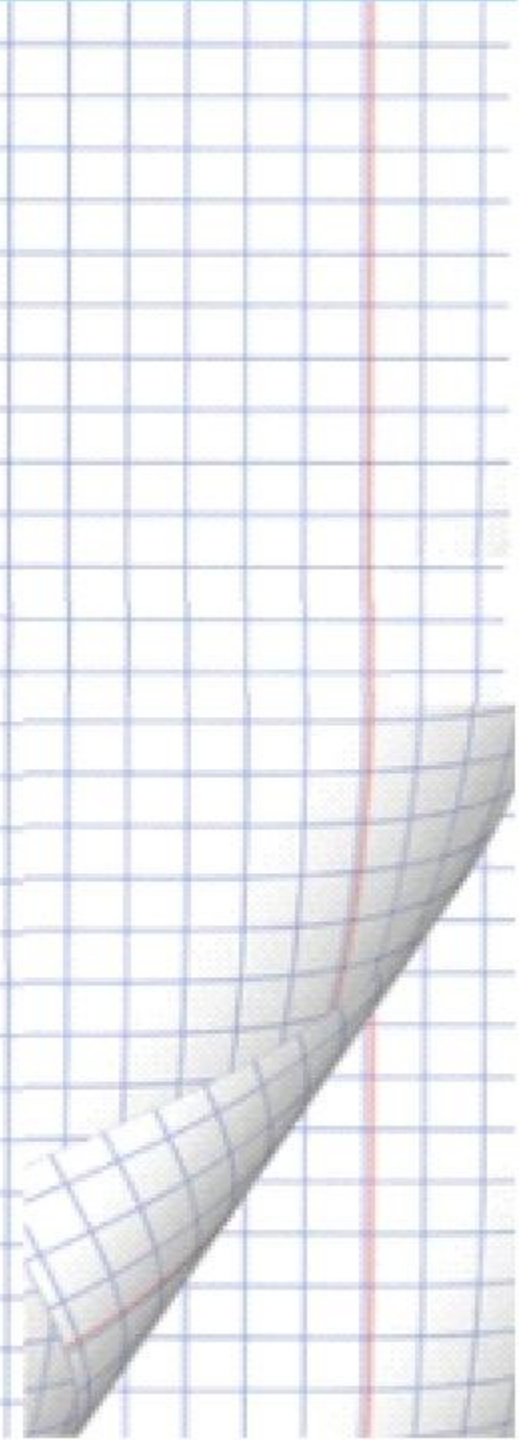
$45*2$

$16*6$

$28*4$

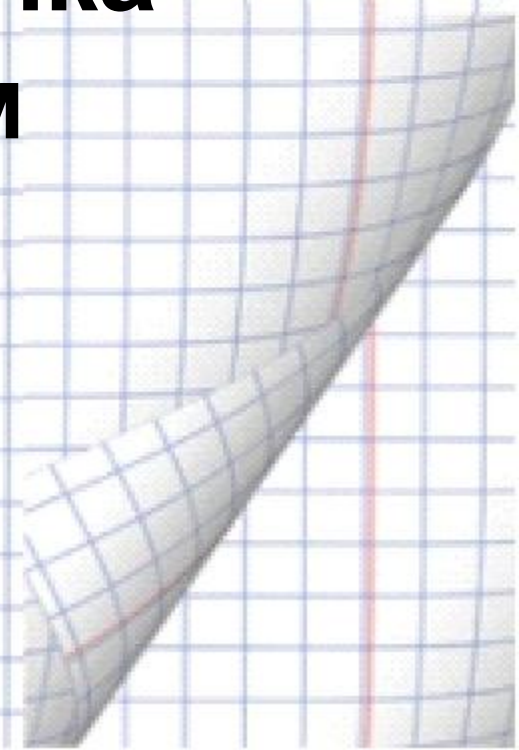


74 40
90- 53
28 19



**Шоколадка стоит 90 рублей,
а пачка печенья в 5 раз
дешевле.**

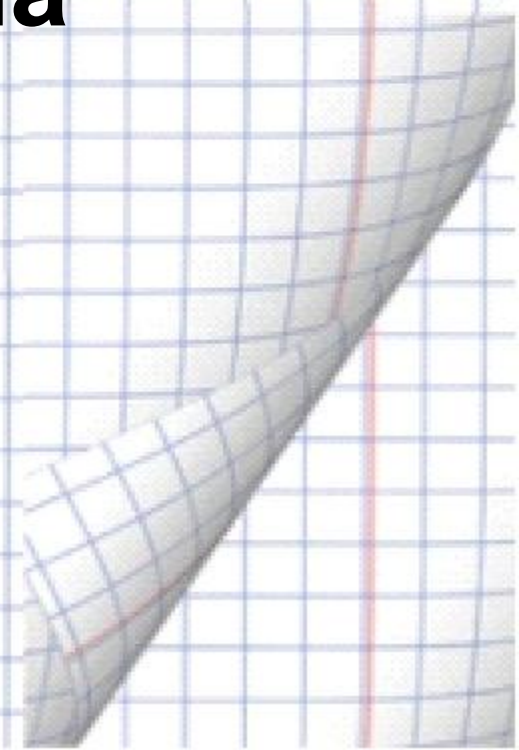
**На сколько рублей пачка
печенья дешевле, чем
шоколад?**



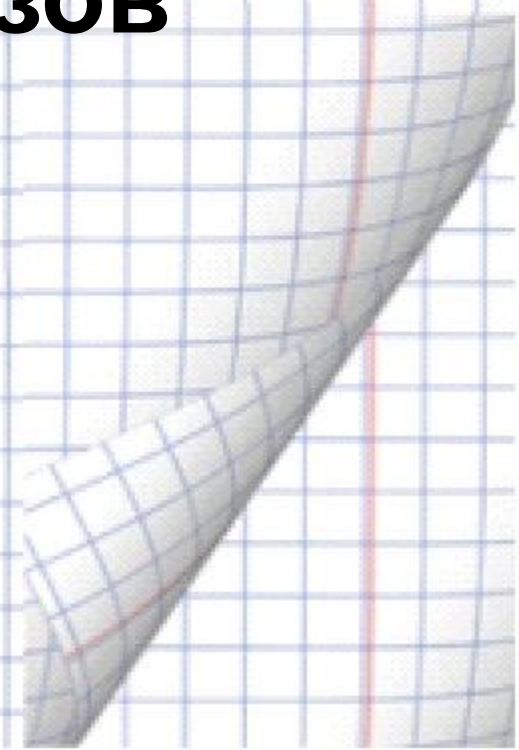
В 1 классе 24 ученика, во 2 классе на 5 учеников меньше, чем в 1 классе, а в 3 классе на 2 ученика больше, чем во 2 классе. Найдите количество учеников в трёх классах вместе.



**Ручка стоит 18 рублей, а
карандаш в 3 раза дешевле.
Сколько рублей должна
заплатить Ира, если она
купила 4 ручки и 5
карандашей?**



**В магазин привезли 70
арбузов. До обеда продали
13 арбузов,
а после обеда в 3 раза
больше. Сколько арбузов
осталось в магазине к
вечеру?**



Расположи числа в порядке возрастания:

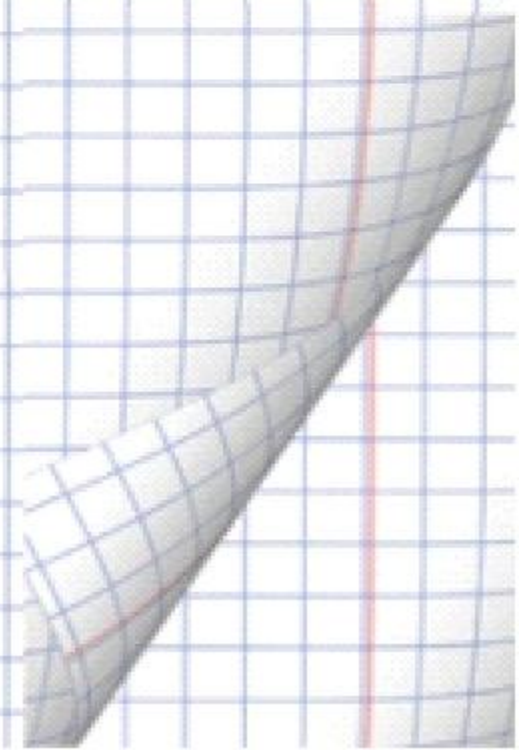
389, 709, 327, 800, 980, 398

**Замени суммой разрядных
слагаемых.**

Назови соседей этих чисел.



**Начерти прямоугольник,
ширина которого 4 см, а
длина на 7 см больше. Найди
площадь и периметр.**



1ч 35мин=...мин

**2нед 3 дня=...
дней**

2м 3см=...см

7см² = ...мм²

4см 7мм= ... мм

1км =... м

**1год 2 мес= ...
мес**

