


**Автор: Надина Наталья  
Михайловна  
учитель начальных классов  
МБОУ «Курташкинская СОШ»**




О чём можно сказать *много?* *один?*


1



Рассмотри рисунок.  
Сколько деревьев в лесу? Сколько ёлочек на поляне? Сколько грибов у девочки в корзине? в руке?



- чём можно сказать *много*?
- чём можно сказать *один? одна? одно?*




Самолёт летит **один**.

Пешеход идёт **один**.

Солнце на небе оно –

Можно сосчитать – **одно**.



Вот один, иль единица,  
Очень тонкая, как спица.

Начнём считать:  
Один, одна –  
Моя страна.  
Здесь наш родной,  
Любимый дом.  
Отчизна, Родина –  
Она  
У каждого из нас **одна**.





У каждого в жизни  
Единственный раз  
Бывает свой **первый**.  
Свой памятный класс,  
И **первый** учебник,  
И **первый** урок,  
И **первый** залиvistый  
Школьный звонок.  
И **первый** наставник –  
Ваш **первый** учитель, -  
Кто дверь вам открыл  
На дорогу открытий.

# Отгадай



Стоит Антошка на одной ноге,  
Зимой и летом одним цветом,  
Его плотник остриним откликает,  
Много рук, а долотом  
нога одна.  
Строит дом с  
одним окном.






**У домика утром два зайца сидели  
И дружно весёлую песенку пели.  
Один убежал, а второй вслед  
глядит.  
Сколько у домика зайцев сидит?**



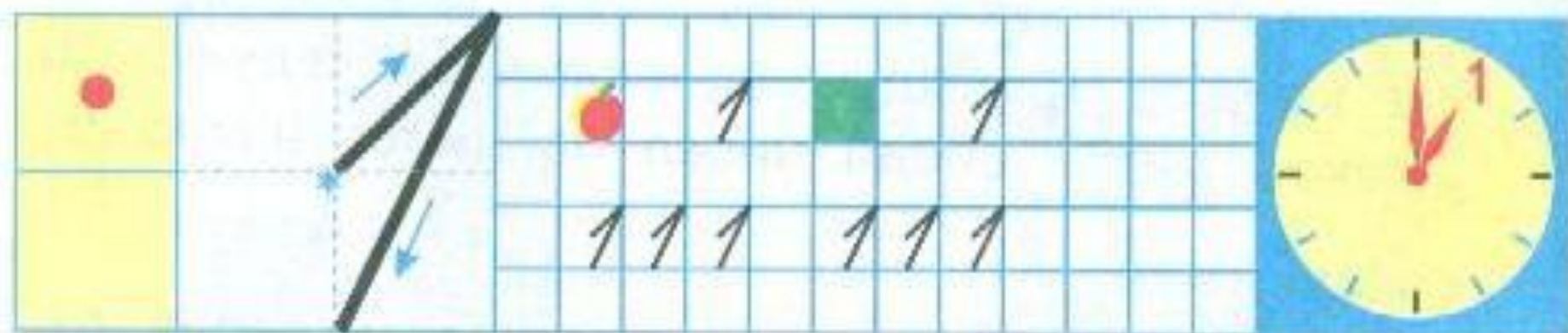
# ФИЗМИНУТКА

**На одной ноге постой-ка,  
Будто ты солдатик стойкий.  
Ногу левую – к груди,  
Да смотри - не упади.  
А теперь постой на левой,  
Если ты солдатик смелый.**


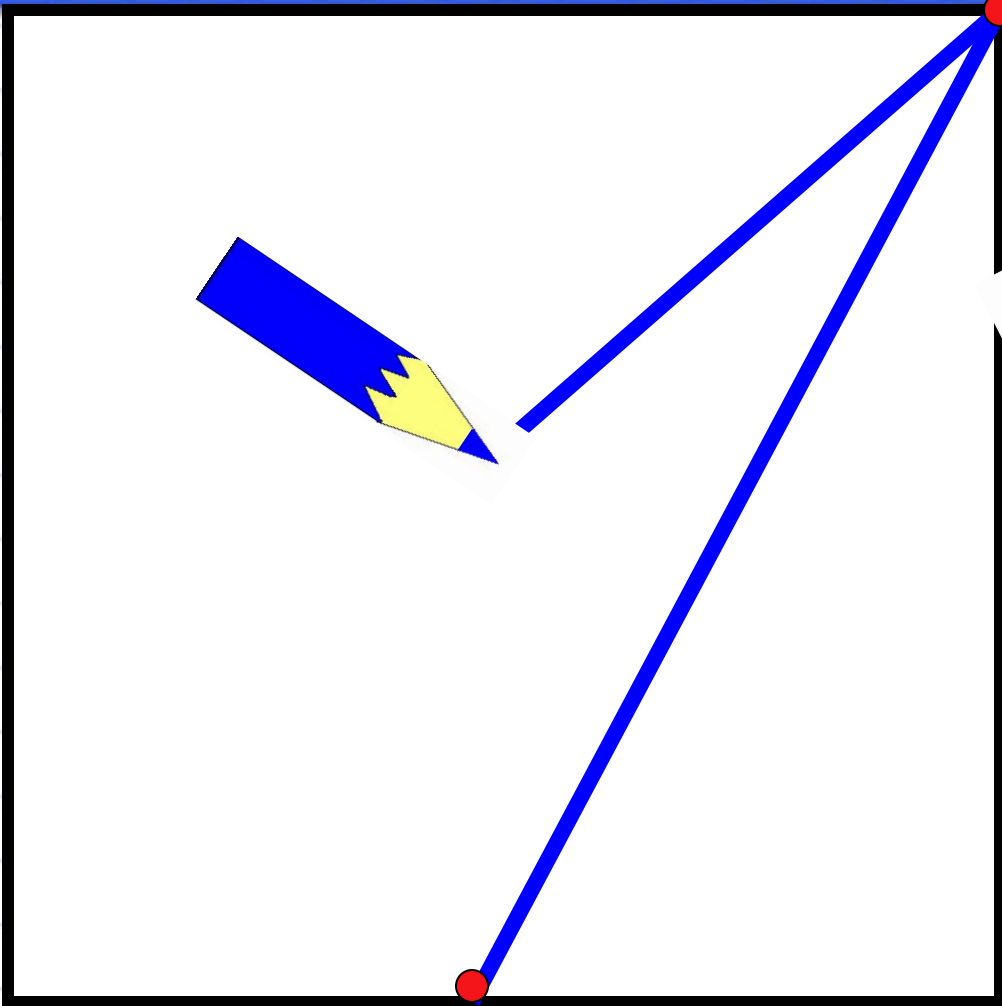


Университетский





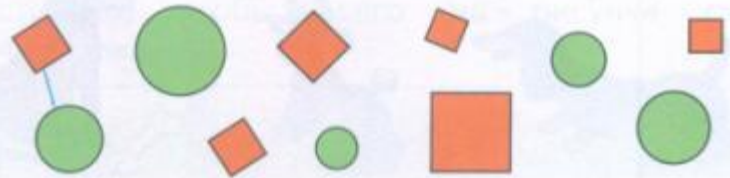
Сколько нарисовано яблок? квадратов? точек? Какое время показывают часы? Какой цифрой это обозначают? Научись её писать.





Много. Один. 1 2


● Образуй пары: круг — квадрат.



Чего больше? Закрась ответ:  или .  
 На сколько больше? На .

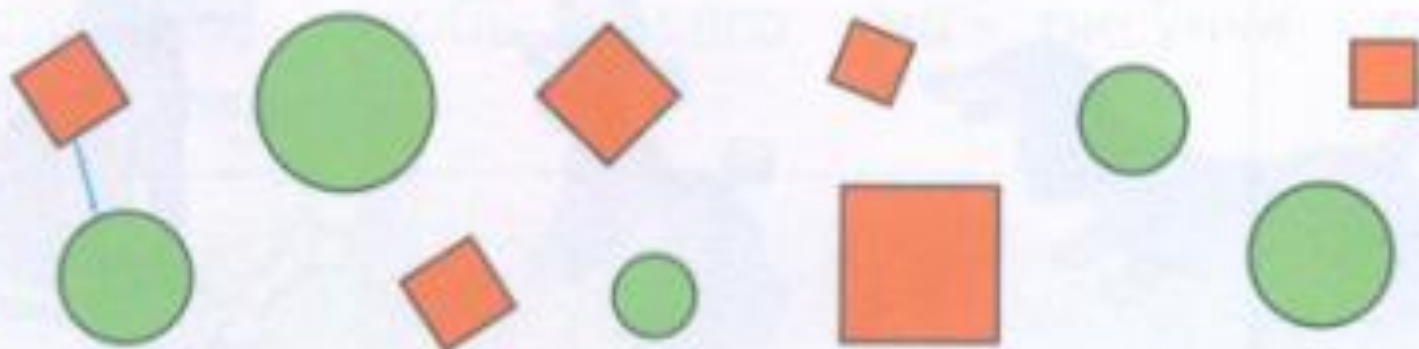


● Один или два? Раскрась нужную карточку.







Много. Один. 1 2

● Образуй пары: круг — квадрат.

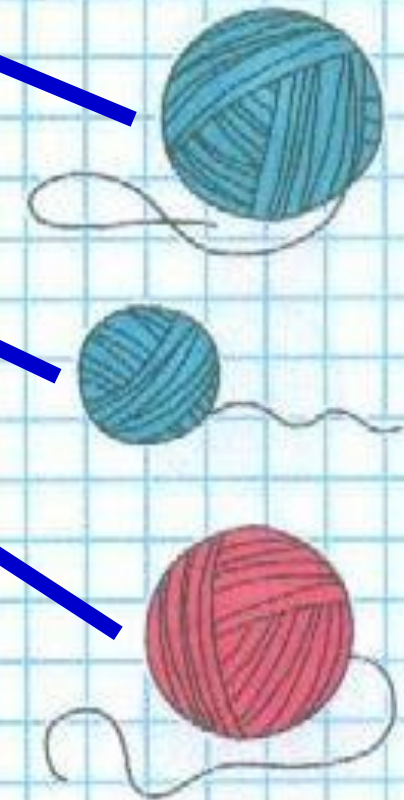


Чего больше? Закрась ответ:  или .  
На сколько больше? На .



Определи по рисунку, кто с каким клубком играет, если у  и  клубки одинакового цвета, а у  и  — одинакового размера.

Закончи рассуждения:  и  играют с клубками синего цвета, значит,  ... .



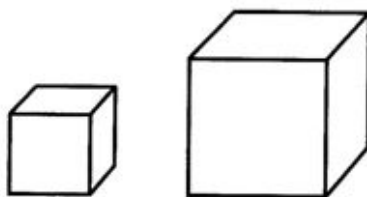


# Самостоятельная работа


1. Раскрась игрушку, которая нарисована справа.



2. Раскрась большой кубик.



3. По дороге едут машины. Первую машину раскрась синим цветом, а последнюю – красным.



4. Нарисуй столько шариков, сколько ёлочек.



**Используемая литература:**

- <https://nsportal.ru/nachalnaya-shkola/matematika/2012/09/15/matematika-1-klass-urok-11-chislo-1-tsifra-1-odin-i-mnogo>
- <http://www.uchportal.ru/load/47-1-0-34805>
- <http://lusana.ru/presentation/22549>