
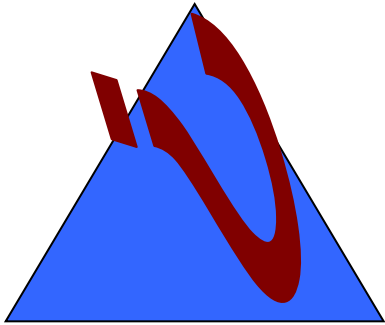



И
С
ШИЩК




Е
Й
О



$$380 - 220 =$$



160



$$160 - 120 = 40$$



Расставьте буквы в порядке
убывания ответов

$15:3+12+4\times 7$ Л

$15:3+(12+4)\times 7$

О

$15:(3+12)+4\times 7$ И

$(15:3+12+4)\times 7$

Д


Доли

Сравним данные изображения.
Чем они отличаются?



Определим часть от целого


Каждая долька – это $\frac{1}{8}$
яблока



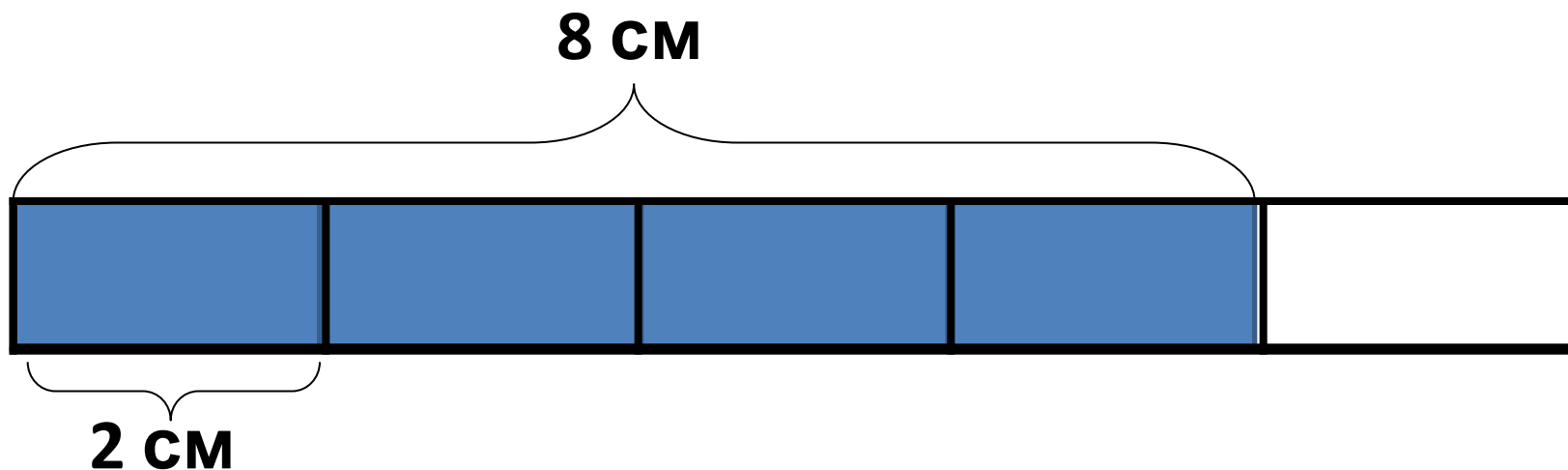
Каждая долька – это $\frac{1}{5}$
яблока



Нахождение
нескольких
долей
целого



Стр.64



Длина отрезка 10см. Сколько см в $\frac{4}{5}$ долях отрезка?



$$2/5 \text{ KM} = \mathbf{400 \text{ M}}$$

$$2/4 \text{ M} = \mathbf{50 \text{ CM}}$$

$$3/5 \text{ CM} = \mathbf{6 \text{ MM}}$$

$$5/10 \text{ DM} = \mathbf{1 \text{ CM}}$$

ВЫЧИСЛИТЕ!



НАЙДИ ПЛОЩАДЬ $\frac{3}{4}$ ДОЛЕЙ
КАЖДОГО КВАДРАТА

НАЙДИТЕ:

4/7 ОТ ЧИСЛА 28

16

2/6 ОТ ЧИСЛА 36

12

3/8 ОТ ЧИСЛА 72

27

РАБОТА в парах

