

Участок обнесли изгородью. Найди длину изгороди, если длина дачного участка 5м, а ширина - 4м.



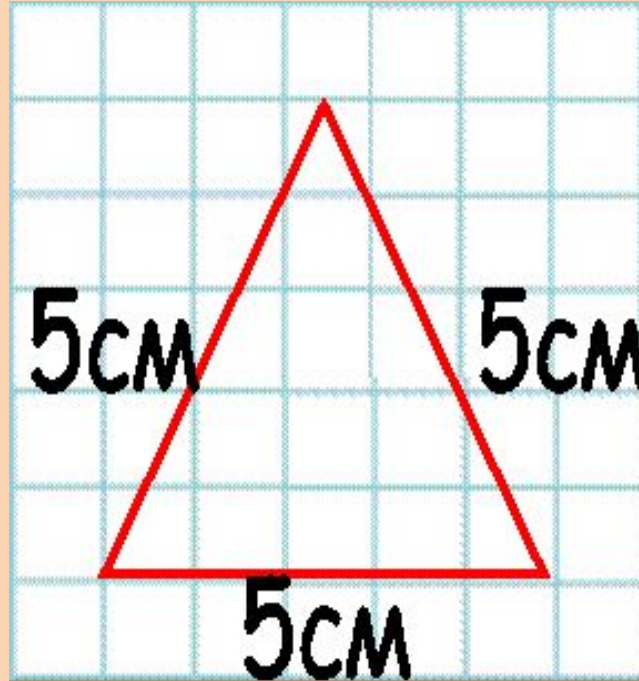
9м

20м

18м

1 м

Найти периметр треугольника со стороной 5 см.



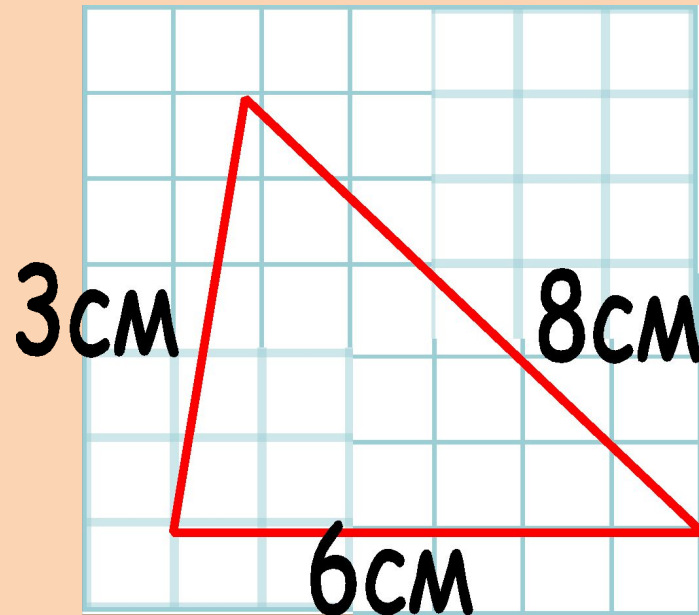
15 см

45 см

20 см

30 см

Найти периметр треугольника со сторонами
3 см, 6 см, 8 см.



72 см

144 см

17 см

34 см

Найти периметр крышки коробки прямоугольной формы со сторонами 5см и 3см.



15см

16см

2 см

8 см

Периметр грядки с клубникой квадратной формы 24 м.
Найди сторону этой грядки.




525 см

20 см

6 см

4 см

Периметр салфетки квадратной формы 64 см.
Найди сторону салфетки.



16 м

14 м

15 м

32 м

Узнай периметр квадрата со стороной 3 см.




9 см

12 см

6 см

33 см

Чему равен периметр листа квадратной формы,
если его сторона - 5 см.



15 см

10 см

25 см

20 см

Самостоятельная работа

Обязательно сделай схематический чертёж!!!

№1. Найди P (периметр) квадрата со стороной 2 см.

№2. Найди P (периметр) треугольника, если стороны имеют следующие длины: 3 см, 4 см, 6 см.

№3. Найди P (периметр) прямоугольника, если длина равна 5 см, а ширина 3 см.

