

**ПЛОЩАДЬ.
ЕДИНИЦЫ ПЛОЩАДИ
3 КЛАСС**

Учитель начальных
классов: Самусенко Е.В.

Устный счёт

6 18 17 12 41

24 30 16 11 28

7 36 27 35 71

Найдите ошибки в примерах.

$$35 : 7 = 5$$

$$70 : 7 = 10$$

$$7 \bullet 7 = 49$$

$$2 \bullet 9 = 18$$

$$42 : 7 = 5$$

$$27 : 3 = 8$$

$$8 \bullet 7 = 54$$

$$5 \bullet 7 = 35$$

$$63 : 9 = 3$$

$$40 : 7 = 5$$

Сторона квадрата 2 см. Чему равен периметр?
Найди правильное решение.

$$2+2+2+2=8(\text{см})$$

$$2+4=6(\text{см})$$

$$4+4+4+4=16(\text{см})$$

$$2 \bullet 4=8(\text{см})$$

Во сколько раз клубничек меньше, чем малинок?



в 3 раза



Во сколько раз груш меньше, чем бананов?



в 4 раза



В школьном буфете Дима купил 5 пирожков по 8 рублей.
У него было 50 рублей. Сколько сдачи получил Дима?



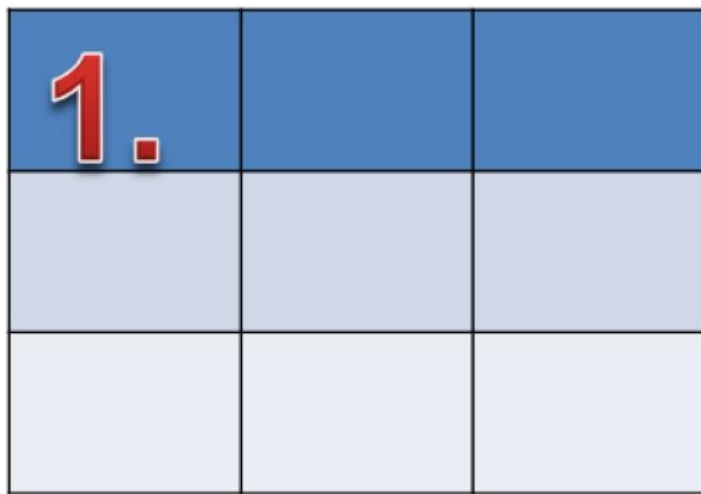
8 рублей

$$50 - 8 \cdot 5 = 10 \text{ (руб.)}$$

10 рублей

Назовите одинаковые фигуры.


1.




3.



5.



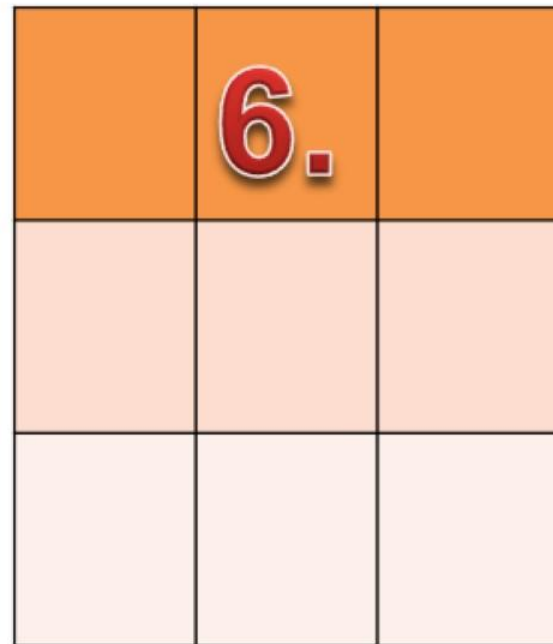
2.




4.



6.





КОНЕЦ