

Тема урока: «Знакомимся с задачей»



Выполнила: учитель начальных классов
Емельянова Екатерина Николаевна
МБОУ Ягодинская СОШ

за



ЗАДАЧА

$$3+3=6$$

$$2+5=7$$

$$9-3=6$$

$$8-2=6$$




$$5-2=3$$

$$1+3=4$$



Мишутка нашёл 6 грибов, а белочка 2 гриба. Сколько всего грибов нашли звери?

Мишутка нашёл 6 грибов, а белочка 2 гриба. Мишутка и белочка- звери, потому что их тело покрыто шерстью.



Задач

Условие

Вопрос

Решение

Ответ



У Светы 4 куклы.

У Пети 5 машин, а у Вани 4 машины. Сколько всего машин у мальчиков?



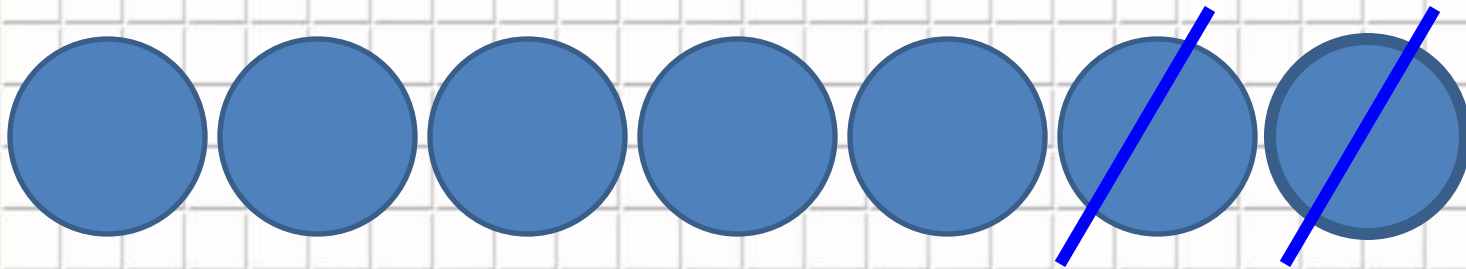
УСЛОВИЕ

У Пина было 7 шариков. 2 шарика ему лопнул Лосяш. Сколько шариков осталось?

ВОПРОС




У Пина было 7 шариков. 2 шарика ему лопнул Лосяш.
Сколько шариков осталось?




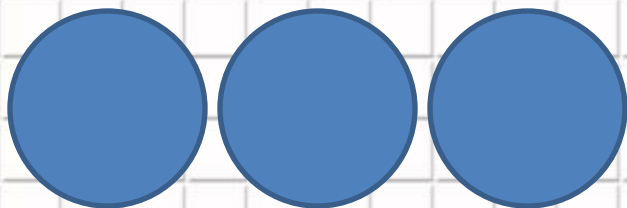
$$7-2=9$$

У Пети 5 машин, а у Вани 4
машины. Сколько всего машин у
мальчиков?



$$5+4=9$$

Нюша написала 3 стиха, а Бараш
5 стихов. Сколько стихов
написали вместе Нюша и
Лосяш?



$$3+5=9$$



Интернет - ресурсы

Шаблон презентации

http://yandex.ru/images/search?img_url=http%3A%2F%2F900igr.net%2Fdatas%2Fliteratura%2FGabdulla-Tukaj%2F0015-015-Gabdulla-Tukaj.jpg&uinfo=sw-1280-sh-1024-ww-1263-wh-923-pd-1-wp-5x4_1280x1024&

Картинка Смешарики

http://yandex.ru/images/?uinfo=sw-1280-sh-1024-ww-1263-wh-923-pd-1-wp-5x4_1280x1024

Дача

<http://ivano-frankovskaya.inetgiant.com.ua/dolina/tags/dacha>

