


**Тема: « Вычислительный приём
вида $35 - 7$ ».**


Автор: учитель начальных классов Шаламай Л.В.



кот Матроски



дядя Фёдор



собака Шарик

Расположите числа в порядке возрастания.

19	42	22	90	66	51	34
же	вам	ла	чи!	да	у	ем

19

ЖЕ

22

ЛА

34

ЕМ

42

ВАМ



51

У

66

ДА

90

ЧИ!



Зимний лес




Чтобы его преодолеть, надо узнать:
сколько в лесу деревьев, если
лиственных- 30, а хвойных-20?

50 деревьев



Сколько шишек заготовила белка,
если разгрызла 7, а осталось 30?

37 шишек



Уменьши на
1

29

75

40

33

18

34

19

75

28

74

39

32

17

33

79

74

17 - И

28 - З

32 - Ч

33 - Ш

39 - Й


74 - А

18 - К



ЗАЙЧИШКА


PEKA



Работа в тетради.



Сколько лет дяде Фёдору, если Шарику 5 лет, Матроскину 7 лет, а дядя Фёдор старше собаки, но младше кота. Сколько лет дяде Фёдору?





$$35 + 3 = 38$$

$$61 - 10 = 51$$

$$35 - 7 = ?$$

$$46 - 3 = 43$$

$$45 + 10 = 55$$



$$35 - 7 = 28$$


$$5 \quad 2$$

$$(35 - 5) - 2 = 28$$

$$36 - 8 =$$

6 2

$$45 - 7 =$$

5 2

$$73 - 4 =$$

3 1

$$63 - 7 =$$

3 4

ПРОВЕРКА:

28

38

69

57



Выполни действия :

$$37 - 9 =$$

$$71 - 6 =$$

$$46 - 8 =$$

$$67 - 9 =$$

$$37 - 9 = 28$$

$$71 - 6 = 65$$

$$46 - 8 = 38$$

$$67 - 9 = 58$$



СПАСИБО ЗА УРОК

!



**Автор: учитель начальных классов Шаламай Л.В.
МА ОУ СОШ №5
ЯНАО, г.Лабытнанги**