


Математика 1 класс

«Решение задач»

Фатхуллина Гульфия Альбертовна
Учитель начальных классов
МАОУ «Лицей №121»


СРАВНИ


Покажи знаки: < > =







||






V






Сколько букашек на листе?





Что произошло?

Сколько осталось?




$$3 - 1 = 2(\text{б.})$$

***Ответ: осталось 2
букашки.***






Сколько земляничек?





Сколько ягод съела улитка?

Сколько осталось?




$$4 - 3 = 1 \text{ (яг.)}$$

***Ответ: осталась 1
ягодка.***



Задача 1

Гуляя в парке, Света нашла 4 дубовых листочка и 6 кленовых. Сколько всего листьев нашла Света?

$$4 + 6 = 10 \text{ (л.)}$$

Ответ: 10 листьев.

Задача 2

На стоянке было 9 машин.
3 машины уехали. Сколько
машин осталось?

$$9 - 3 = 6 \text{ (м.)}$$

Ответ: 6 машин.

Задача 3

Женя пришила 5 красных
пуговиц и 4 зелёных.

Сколько всего пуговиц
пришила Женя?

$$5 + 4 = 9 \text{ (п.)}$$

Ответ: 9 пуговиц.