

Тема урока:


Градус, транспортир,

**Сложение и вычитание
чисел**



Цель урока?

- Цель урока?



**Продолжим учиться
решать...**

Выполнять сложение и

**Называть геометрические
...**

Продолжим учиться решать задачи, выполнять сложение и вычитание, чертить и называть геометрические фигуры.

1.



На ёлке было 5 шаров. После того как Коля повесил ещё несколько, число шаров увеличилось на 3. Сколько шаров стало на ёлке?

$$5+3=8 \text{ (ш)}$$

Ответ: 8

шаров.

2. В Машином новогоднем подарке было 4 мандарина.



Маша съела 1 мандарин, а остальные принесла домой. Сколько мандаринов Маша принесла домой?

$$4-1=3 \text{ (м)}$$

**Ответ: 3
мандарина.**

3. На новогоднем празднике танцевали парами 5 мальчиков и столько же девочек. Сколько всего ребят танцевало?



$$5+5=10$$

Ответ: 10

ребят.

4.



$4 + 2$

$8 - 1$

$7 + 2$

$10 - 1$

$4 + 3$

$8 - 2$

$7 + 3$

$10 - 2$

Сравни примеры в каждом столбике и объясни, почему в одном примере ответ будет больше, чем в другом.

6. $5 + 2 \bigcirc 8$
 $9 - 3 \bigcirc 6$

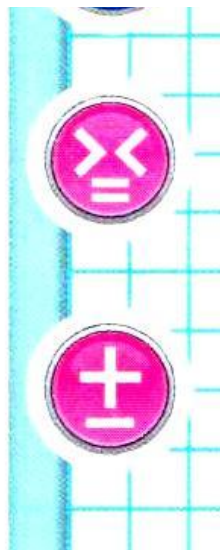
$9 - 1 \bigcirc 7$
 $7 - 2 \bigcirc 4$

$6 + 2 \bigcirc 7$
 $7 + 3 \bigcirc 10$

7. $7 \bigcirc 2 < 8$
 $9 \bigcirc 1 < 10$

$5 \bigcirc 3 > 6$
 $6 \bigcirc 2 > 5$

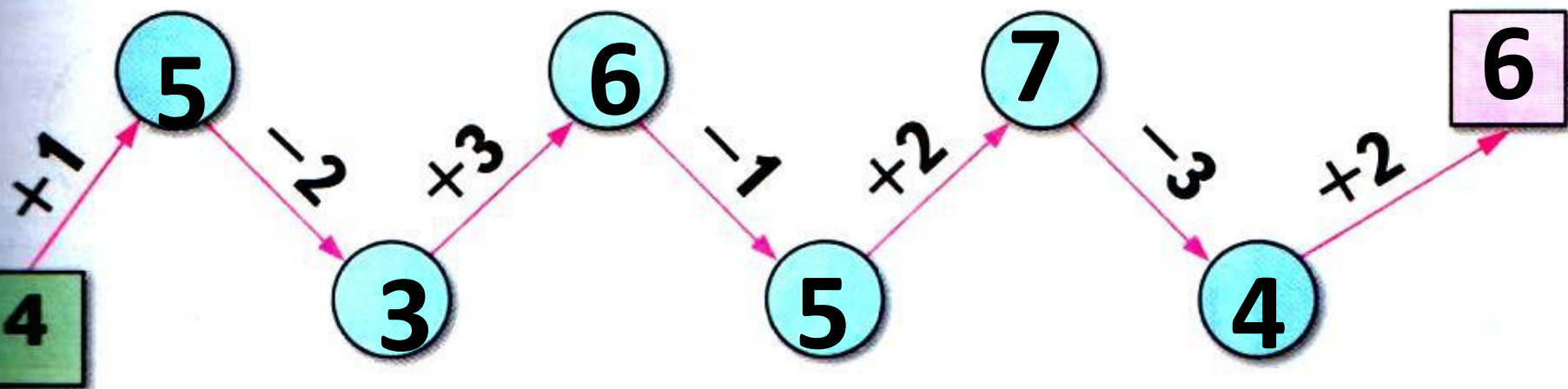
$8 \bigcirc 2 < 7$
 $7 \bigcirc 3 < 5$






8. В подарке были шоколадные конфеты и карамель, всего 7 конфет. Сколько шоколадных конфет было в подарке, если их на одну больше, чем карамели?



«Цепочка»







М. И. Моро С. И. Волкова

Математика

Рабочая тетрадь

$$8 + 4$$

Blank writing area with four horizontal lines.



1

Часть
2


ПРОСВЕЩЕНИЕ
ИЗДАТЕЛЬСТВО
ozon.ru

Стр.
3



- У меня всё получилось.
Я доволен уроком.



- У меня почти всё
получилось, но я делал
ошибки.



- У меня было много
ошибок, мне нужна
помощь.