

***Щеглова Надежда Ивановна***  
**Лицей № 35**  
**открытого акционерного общества**  
**«Российские железные дороги»**  
**г. Ржев**  
**учитель начальных классов,**  
**высшая квалификационная категория**

# Столько же. Больше.

## Меньше



Расскажи по рисункам, как в сказке «Вершки и корешки»


мужик и медведь поровну делили урожай.

Рассмотри рисунок и попробуй объяснить, чего поровну, чего больше, меньше: пчёл или цветков, пчёл или вёдер.



В коробке лежат пряники разной формы. Каких пряников больше всего?

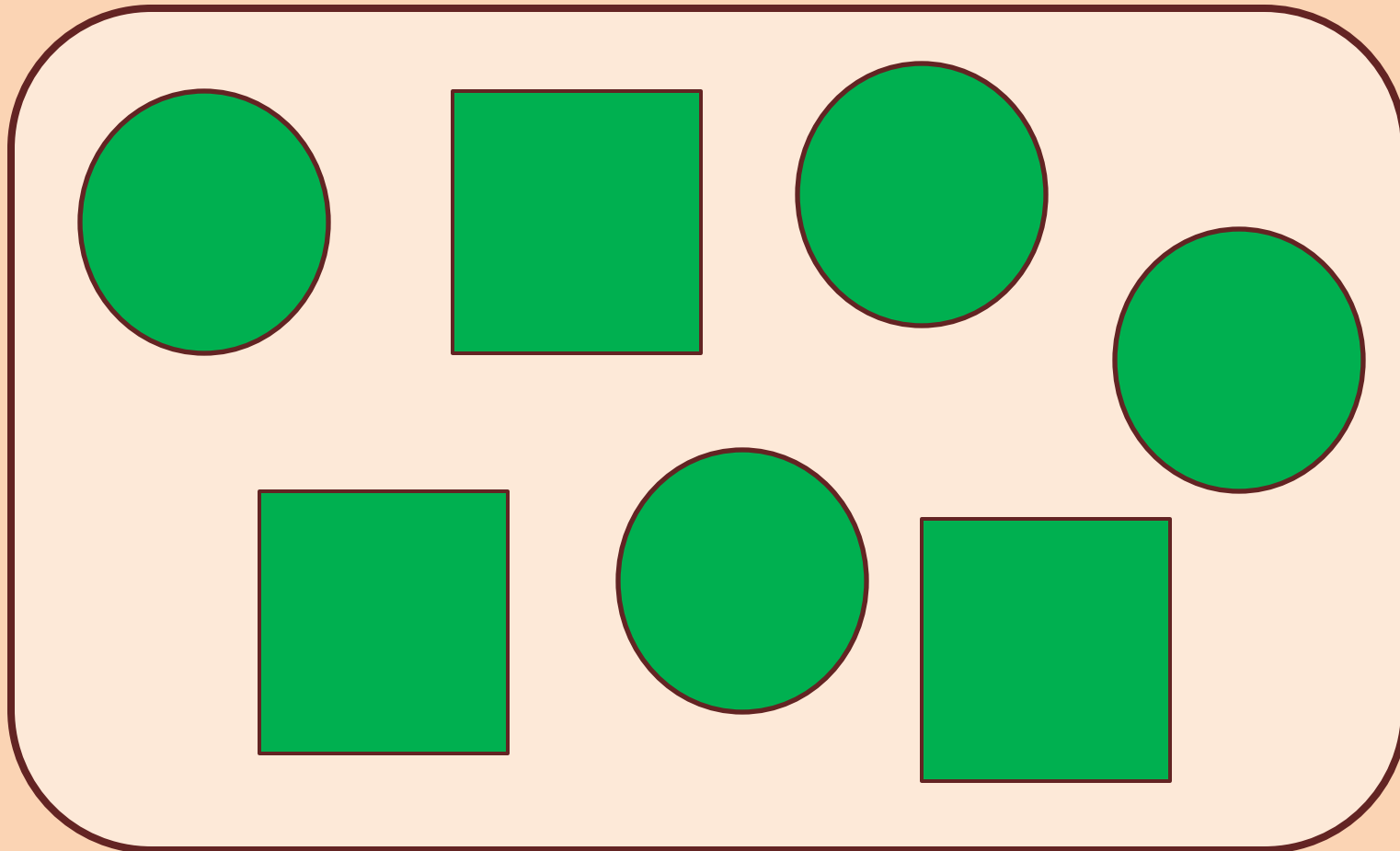
Каких меньше всего? Каких поровну?



Чего больше: девочек или зонтиков?

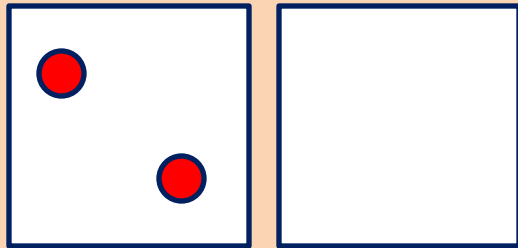


Чего меньше: кругов или квадратов?



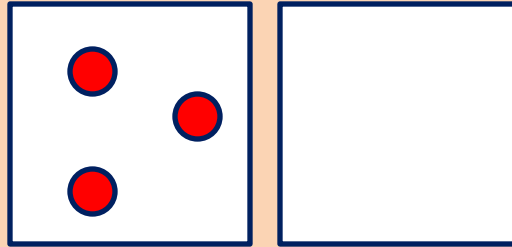
Рассмотри каждую пару квадратов. В квадрате слева поставлено несколько точек. Сколько точек надо поставить в пустом квадрате, чтобы их было:

а) столько же;

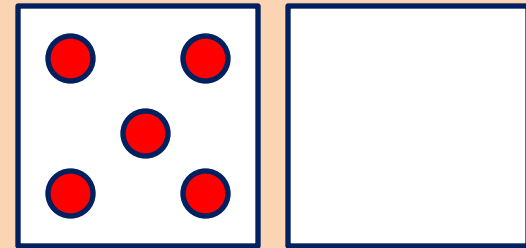


б) больше;

меньше



в)



Использованы отсканированные иллюстрации из учебника «Математика» Дорофеев