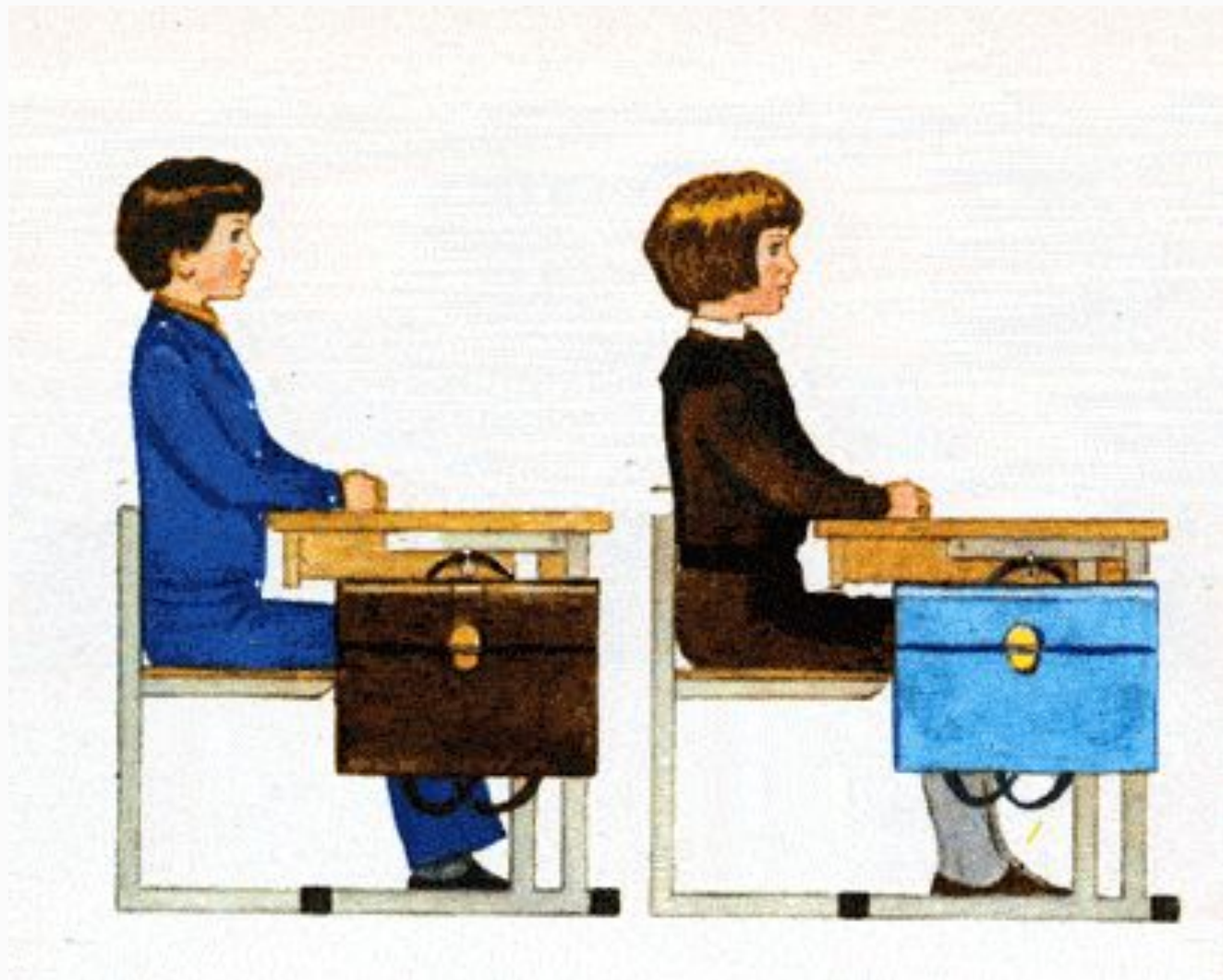


Вычитание вида

10 -



Правильно седи при писъме



Разминка

Сколько букв в слове **перья**?



Решение примеров Табло 1



Решение примеров

$6 + 2 = 8$

$8 - 3 = 5$

$3 + 7 = 10$

$9 - 7 = 2$

$3 + 6 = 9$

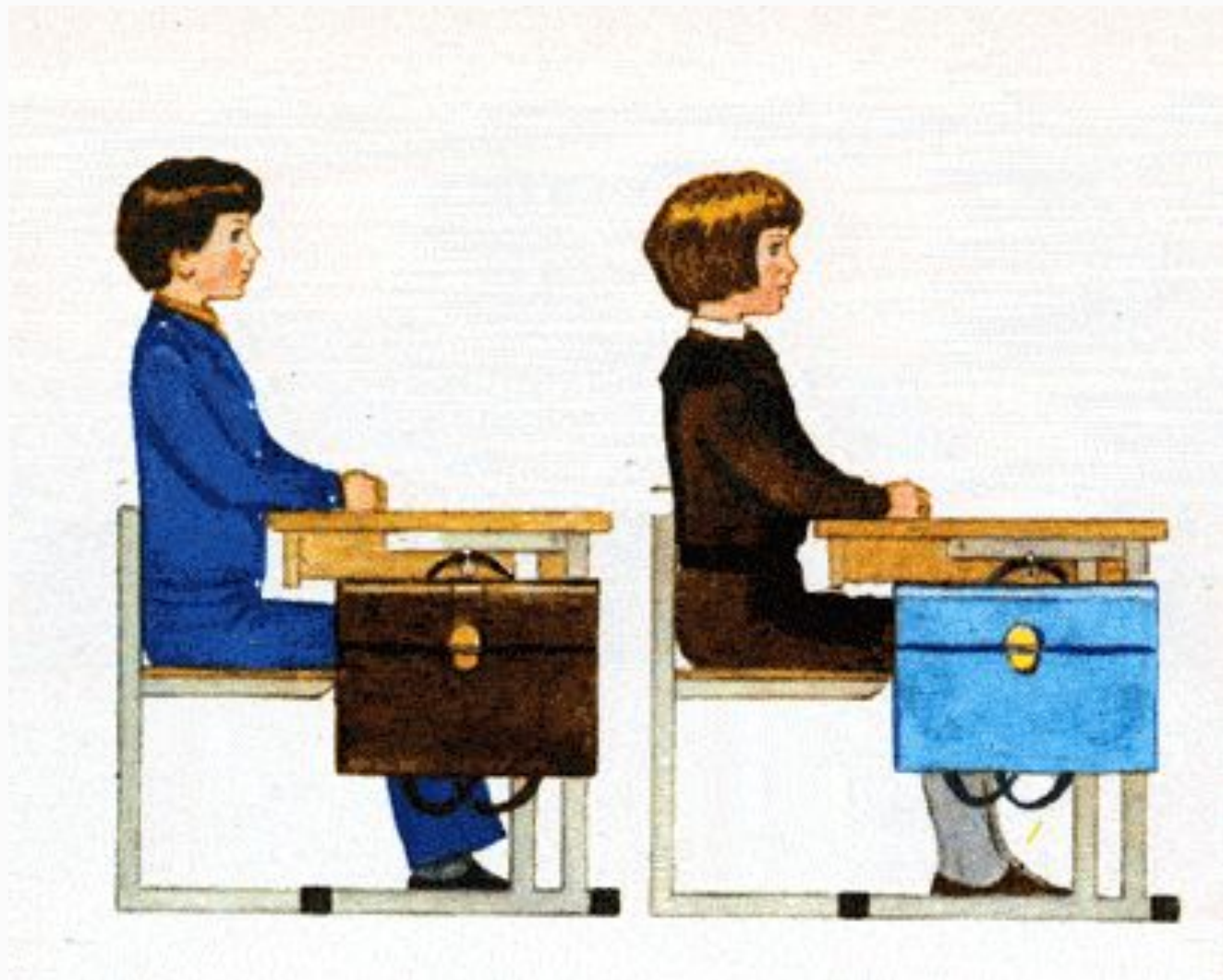
$9 - 4 = 5$

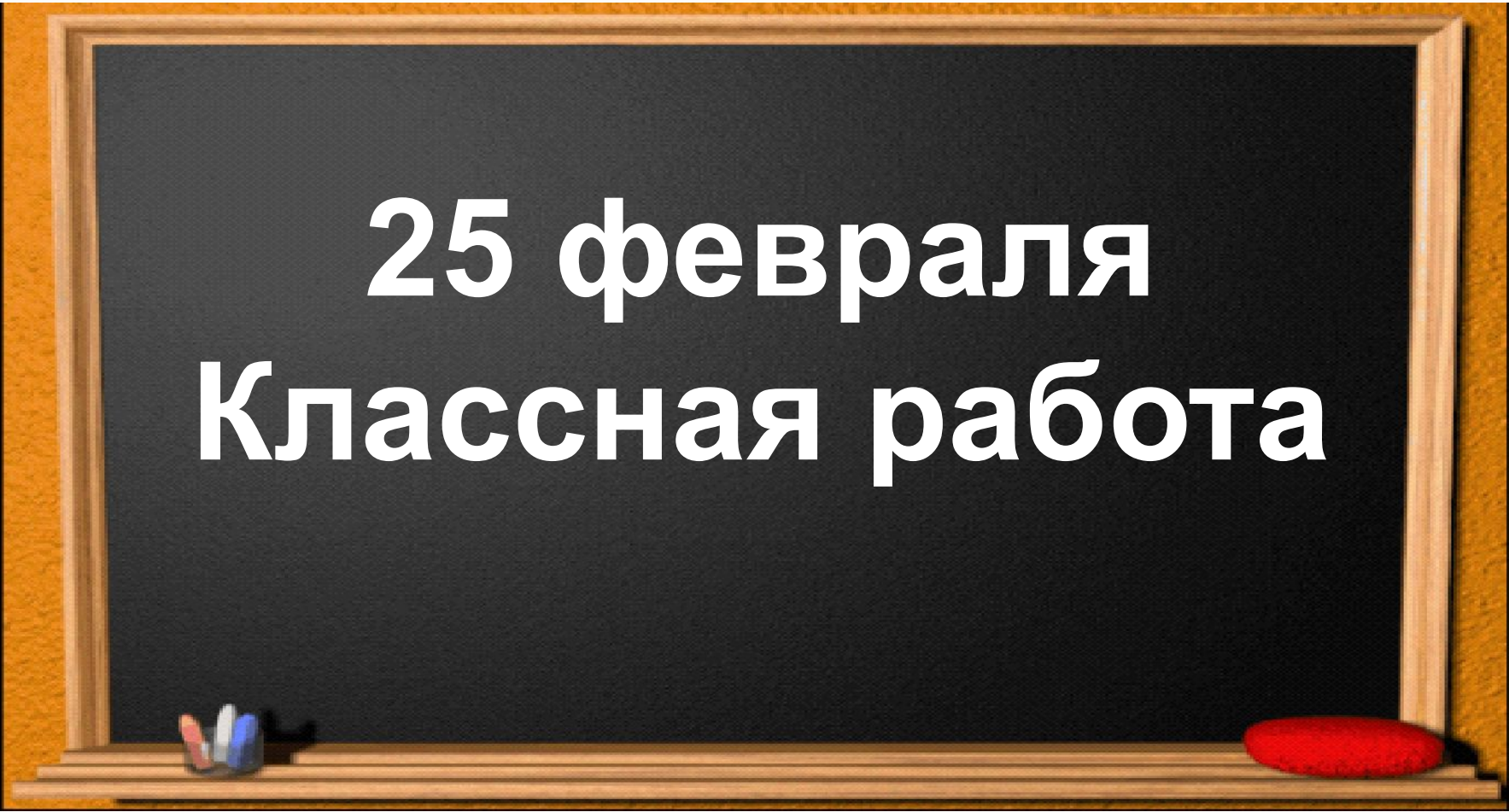
$2 + 4 = 6$

$9 - 2 = 7$

$10 - 2 = 8$

Правильно седи при писъме



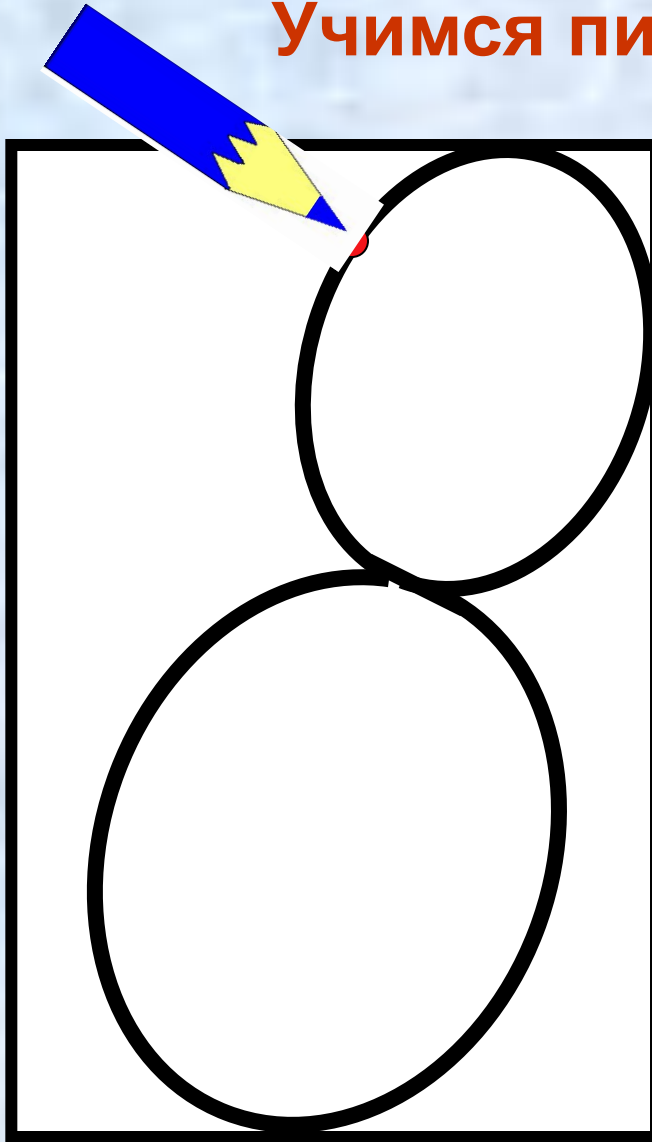


25 февраля
Классная работа

**За одним большим
столом сели рядом с
гномом гном.
Белоснежка с ними
вместе стол накрыла
честь по чести.
У неё во всём порядок!
Только сколько ложек
надо?**





Учимся писать цифру





*У восьмёрки два
кольца без
начала и конца.*

РАБОТА ПО УЧЕБНИКУ



Стр. 35 №5 у

РАБОТА ПО УЧЕБНИКУ



Стр. 34 №1

Проверка

$$9 - 6 = 3$$

$$10 - 9 = 1$$

$$10 - 7 = 3$$

$$8 - 6 = 2$$

$$10 - 3 = 7$$

$$10 - 4 = 6$$

$$3 + 6 - 7 = 2$$

$$8 - 5 + 4 = 7$$



**Шли по крыше три кота (шагают на
месте)**

Три кота Василия

Поднимали три хвоста (руки вверх)

Прямо в небо синее.

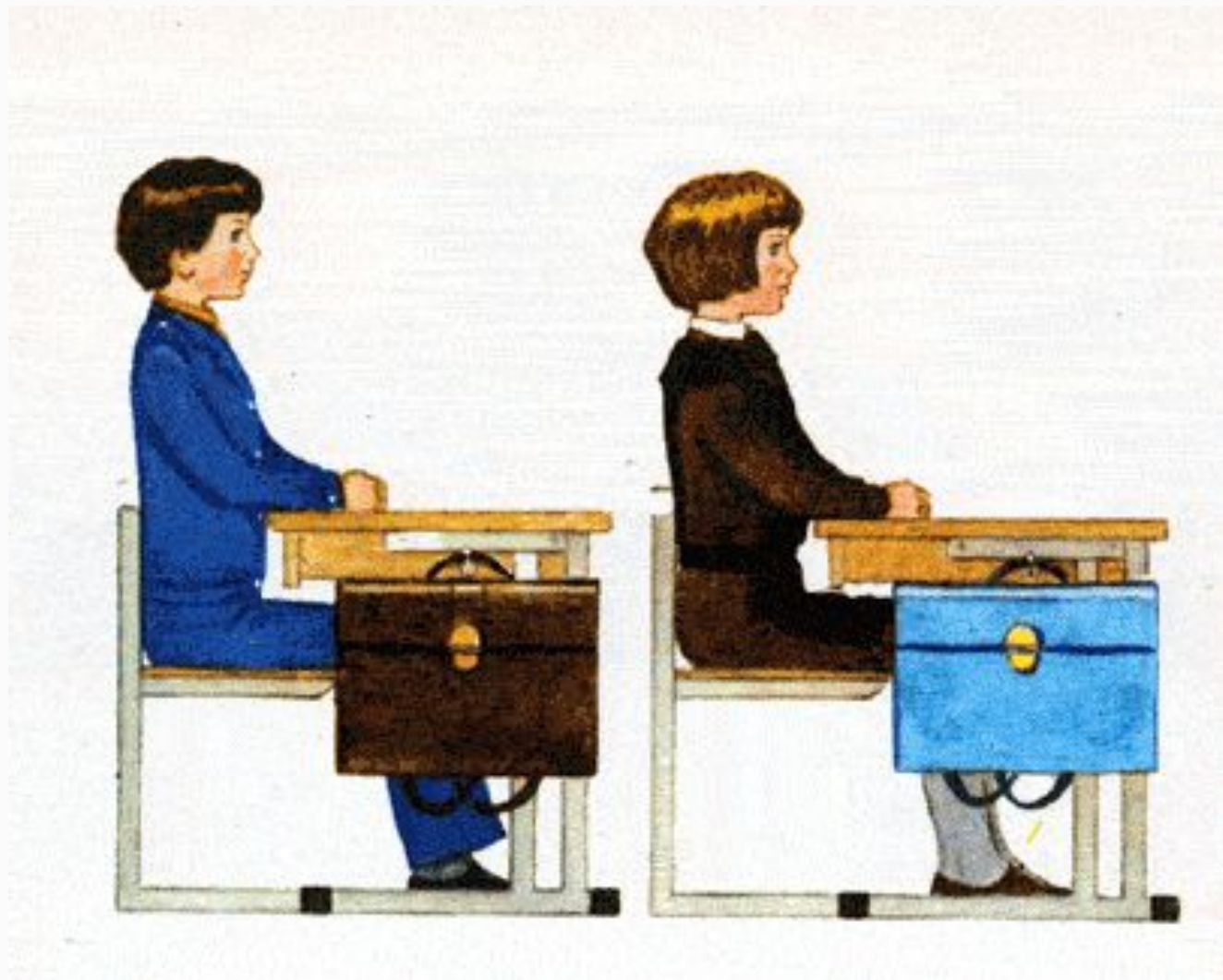
Сели киски на карниз (присели)

Посмотрели сверху вниз (



**И сказали три кота: (встали, руки в
стороны)**

«Вот какая красота!

Правильно седи при писъме



РАБОТА ПО УЧЕБНИКУ



Стр. 34 №3у,2

№2


Н.д.- 5 эт

С.д. - ? На 3 эт.б

$$5 + 3 = 8 \text{ (эт)}$$

Ответ: 8 эт. соседний дом

РАБОТА ПО УЧЕБНИКУ



Стр. 34 №4

№ 4

Д. – ? д.]
К. – 3 д.] — 10 д.

$$10 - 3 = 7 \text{ (д)}$$

Ответ: 7 д. деревянных

Итог урока

- Чем занимались на уроке?
- Что понравилось больше всего?

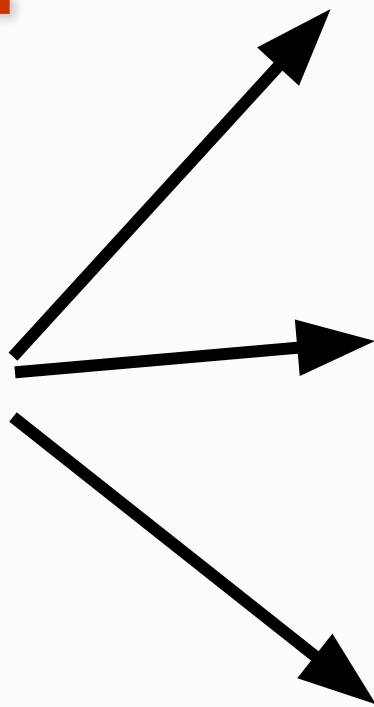


Я

узнал

запомнил

удивился



$8 - \square$


$9 - \square$

1 У школы растут 5 лип и 4 берёзы. Сколько всего ... ?

Ответ:

На сколько больше ... , чем ... ?

Ответ:

2 

| | | | |
|--------------------------|-------------------|-------------------|--------------------|
| 3 | $7 - \square = 2$ | $9 - \square = 3$ | $10 - \square = 8$ |
| <input type="checkbox"/> | $8 - \square = 6$ | $7 - \square = 4$ | $10 - \square = 1$ |

1 На пруду плавали 4 утки и 8 гусей. На берег вышли 3 утки и столько же гусей. Сколько уток и сколько гусей осталось в воде?

Ответ:

Ответ:

| | | |
|-----------|-----------|------------|
| $3 + 7 =$ | $1 + 8 =$ | $10 - 3 =$ |
| $2 + 6 =$ | $9 - 5 =$ | $10 - 6 =$ |

| | | |
|-------|-------------|-------------|
| 3 | $5 - 4 = 1$ | $8 - 5 = 3$ |
| \pm | $6 - 3 = 3$ | $7 - 3 = 4$ |

