

ВЫШЕ ИЛИ НИЖЕ

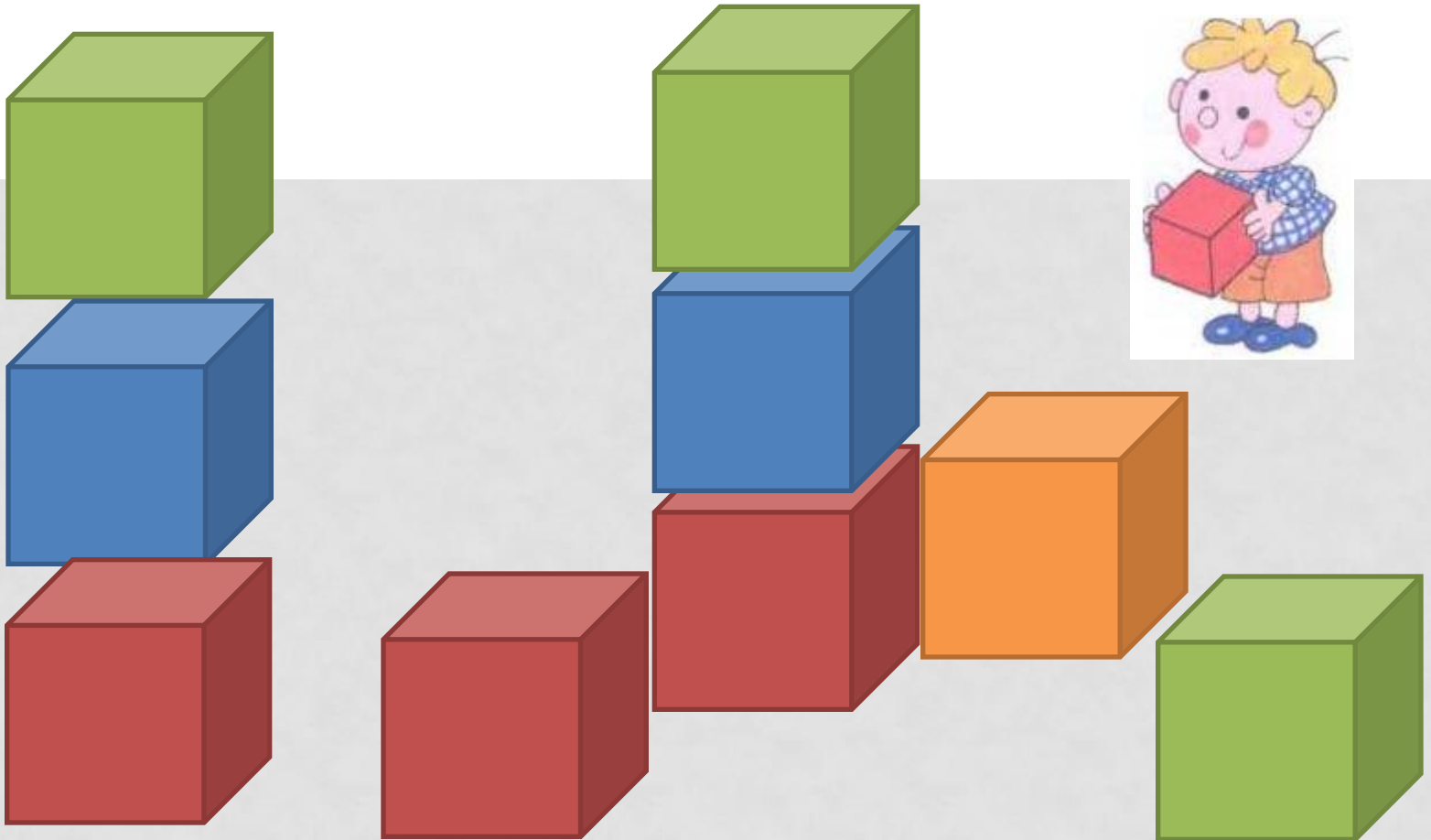


КАКОЙ КУБИК ПЕТЯ ПОСТАВИЛ ВЫШЕ —ЗЕЛЁНЫЙ ИЛИ СИНИЙ, КРАСНЫЙ ИЛИ СИНИЙ, КРАСНЫЙ ИЛИ ЗЕЛЁНЫЙ? КАКОЙ КУБИК НИЖЕ — СИНИЙ ИЛИ ЗЕЛЁНЫЙ?

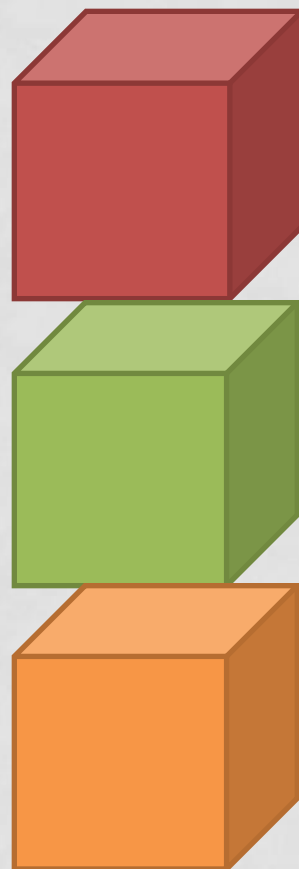
ВЕРНО ЛИ, ЧТО: А) КРАСНЫЙ КУБИК НИЖЕ ЗЕЛЁНОГО, Б) ЗЕЛЁНЫЙ КУБИК МЕЖДУ СИНИМ И КРАСНЫМ?

КАКОЙ КУБИК ПЕТЯ ПОСТАВИЛ НА СИНИЙ КУБИК?

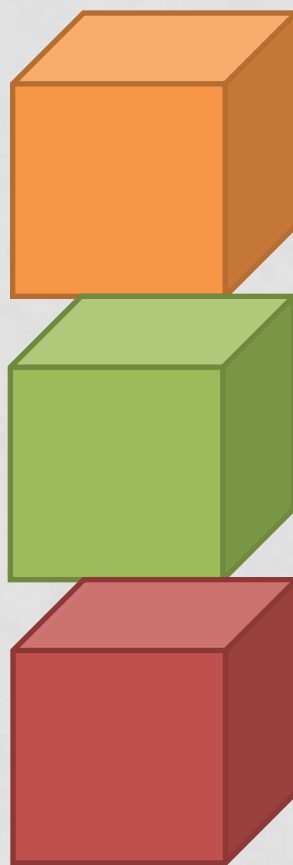
НАЗОВИ ЦВЕТА КУБИКОВ ПО ПОРЯДКУ СНАЧАЛА СНИЗУ ВВЕРХ, А ЗАТЕМ СВЕРХУ ВНИЗ.




ДАВАЙ ТОЖЕ ВОЗЬМЁМ КУБИКИ ИЗ НАБОРА И БУДЕМ СТРОИТЬ БАШНИ. ПОСТАВЬ КУБИКИ ОДИН НА ДРУГОЙ ТАК, ЧТОБЫ КРАСНЫЙ БЫЛ ВЫШЕ ЗЕЛЁНОГО.



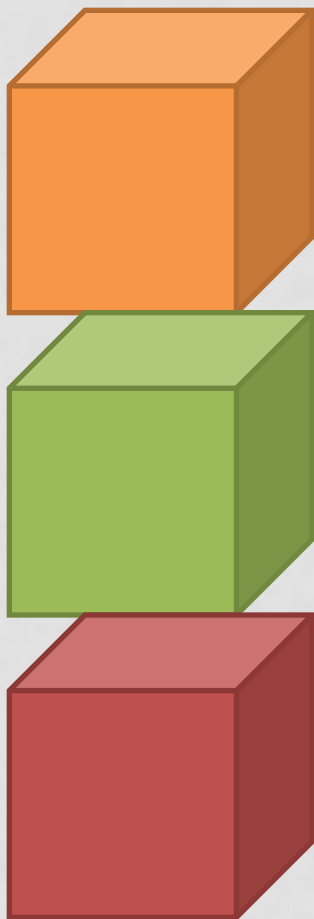
**А ТЕПЕРЬ РАСПОЛОЖИ КУБИКИ ТАК, ЧТОБЫ КРАСНЫЙ
БЫЛ НИЖЕ ЗЕЛЁНОГО.**




ПОСТРОИМ НЕСКОЛЬКО БАШЕН ИЗ КРАСНОГО, ЖЁЛТОГО
И ЗЕЛЁНОГО КУБИКОВ ТАК, ЧТОБЫ:
А) КРАСНЫЙ БЫЛ НИЖЕ ЖЁЛТОГО, А ЖЁЛТЫЙ НИЖЕ
ЗЕЛЁНОГО;



**Б) ЖЁЛТЫЙ БЫЛ ВЫШЕ ЗЕЛЁНОГО, А ЗЕЛЁНЫЙ ВЫШЕ
КРАСНОГО;**



**В) ЗЕЛЁНЫЙ БЫЛ ВЫШЕ КРАСНОГО, А ЖЁЛТЫЙ НИЖЕ
КРАСНОГО;**



Г) ЖЁЛТЫЙ РАСПОЛАГАЛСЯ БЫ МЕЖДУ ДВУМЯ ДРУГИМИ
КУБИКАМИ.

