



Математика 1 класс

Числа от 1 до 10

*Презентацию выполнила учитель
начальных классов*

*ГБОУ Школы №998 г. Москвы
Усачева Татьяна Викторовна*

Числа от 1 до 10



Стоит в поле сестрица-

Жёлтый глазок, белые реснички.

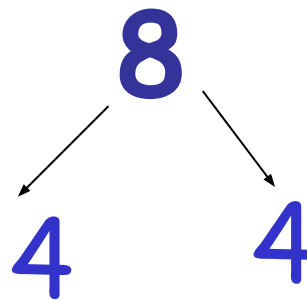
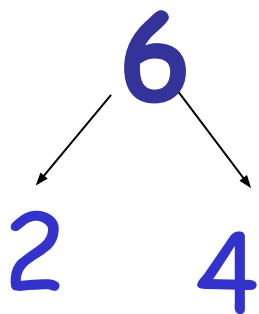
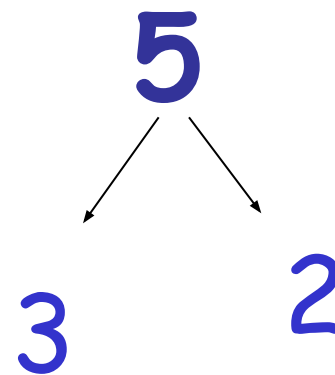
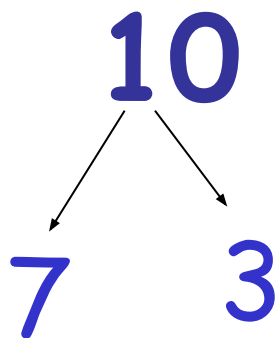
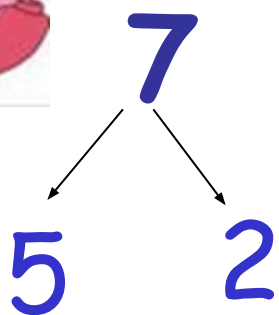


ромашка






Состав числа



Числа от 1 до 10





$$5 - 1$$

$$6 - 2$$

$$6 + 2$$

$$5 + 2$$

Найдите значение числовых выражений



$$5 - 1$$



$$6 + 2$$






$$5 - 1 = 4$$

$$6 + 2 = 8$$

равенства



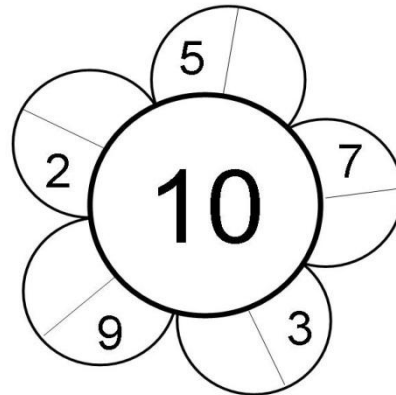
$$8 > 4$$

$$4 < 8$$

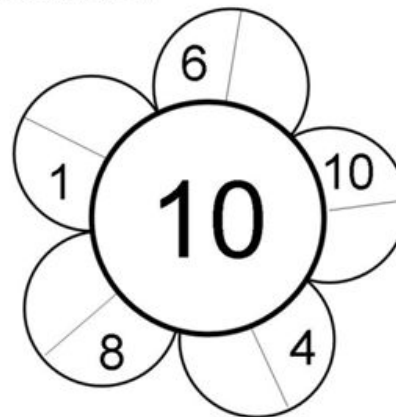
неравенства

Самостоятельная работа

Впиши недостающие числа так, чтобы в каждом лепестке в сумме получилось то же число, что и в серединке цветка.



Впиши недостающие числа так, чтобы в каждом лепестке в сумме получилось то же число, что и в серединке цветка.



***Ребята, спасибо за помощь
и хорошую работу!***



Использованы ресурсы:

- <http://2berega.spb.ru/user/Polikarpowa/file/771463/>
- <http://forum.forumok.ru/index.php?act=Print&client=printer&f=67&t=2153>
- <http://aituts.ru/single.php?id=13>
- <http://ru.4androidapps.net/tag/tools/flii-backup-free-download-73174.html>
- <http://www.raketa.ua/732348/p732348/>
- <http://forum.od.ua/showthread.php?s=15fe87fe64587424de1820884d8fb258&t=395055&page=32>
- <http://kidsstock.ru/letnie-tovary/igrovye-domiki/>
- <http://subscribe.ru/archive/home.child.raskraska/200907/07111405.html>