






**Презентация к уроку  
по теме «Многоугольники 1 класс»  
УМК «Школа России»**

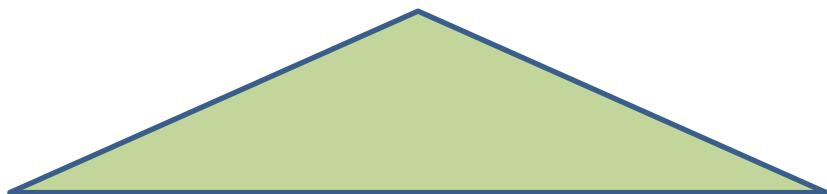


Подготовила  
учитель начальных классов  
гимназии № 399  
Кучеренко Е.А.

**Чем фигуры слева отличаются от фигур справа?**






# Назови каждый многоугольник.

Треугольники.

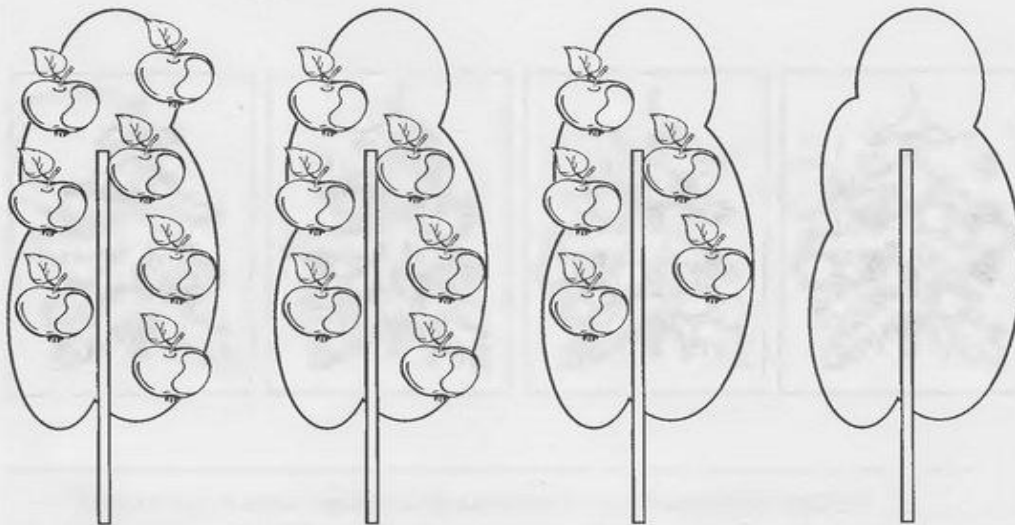


Четырёхугольники.



*Продолжение ряда. Количество и счет*

Нарисуй яблоки на последней яблоне, используя соответствующую закономерность.




Нарисуй цветы в последней вазе, используя соответствующую закономерность.



## УМОЗАКЛЮЧЕНИЯ

Аня ниже Маши, Маша ниже Лены, Кто самая высокая? Раскрась. Кто самая низкая? Обведи.




Росли три дерева: берёза, ель и тополь. Берёза ниже ели, ель ниже тополя. Какое дерево самое высокое - раскрась, самое низкое - обведи.




# Составь запись и схему к рисунку.




$$\square + \square = \square$$



# Составь запись и схему к рисунку.



# Составь запись и схему к рисунку.





**Молодцы!**

