








**Добрый день и в добрый час.  
Много нового ждёт нас.  
И на парте всё в порядке,  
Есть и книжки и тетрадки.**

Среди данных фигур найдите  
прямоугольники.





*16 марта.*

*Тема. Площадь прямоугольника.*

$$S = a \cdot b$$

$S$  – площадь

$a$  – длина

$b$  – ширина

*Одна сторона прямоугольника  
4 см, а вторая – 3см. Чему равна площадь  
прямоугольника?*






# Отгадайте ребус

5'''






~~Ш~~ Щ

ПЛОЩАДЬ







Найдите в каждом ряду числа, которые не являются результатом табличного умножения.

6,18,17,12, 41

24,30,16,11,28

▣ Игра “ Кто быстрее” (дети друг другу задают примеры на умножение)

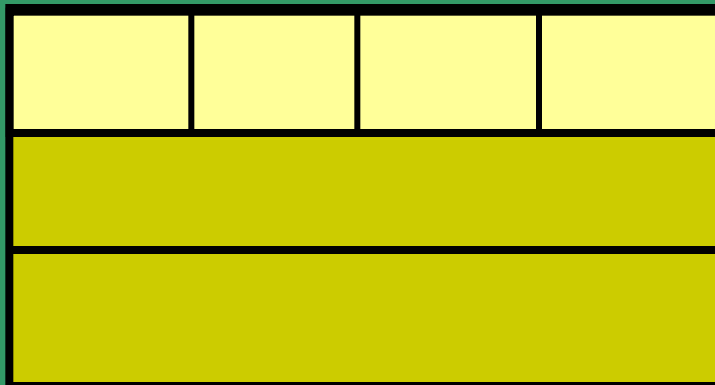
▣  $5 \cdot 7 =$              $6 \cdot 5 =$      $4 \cdot 7 =$

▣  $9 \cdot 6 =$          $7 \cdot 9 =$              $8 \cdot 7 =$

▣  $3 \cdot 7 =$          $8 \cdot 3 =$              $6 \cdot 7 =$

▣  $63 : 9 =$   $54 : 9 =$              $45 : 9 =$

▣  $49 : 7 =$   $42 : 7 =$              $35 : 7 =$



*1 способ*

$$4 * 3 =$$

$$4+4+4=12(\text{см}^2)$$



*2 способ*

$$3 * 4 =$$

$$3+3+3+3=12(\text{см}^2)$$