


\_\_\_\_\_



# **Тема:**

**Сложение и  
вычитание в  
пределах 10.  
Закрепление.**



2

4

6

8

10

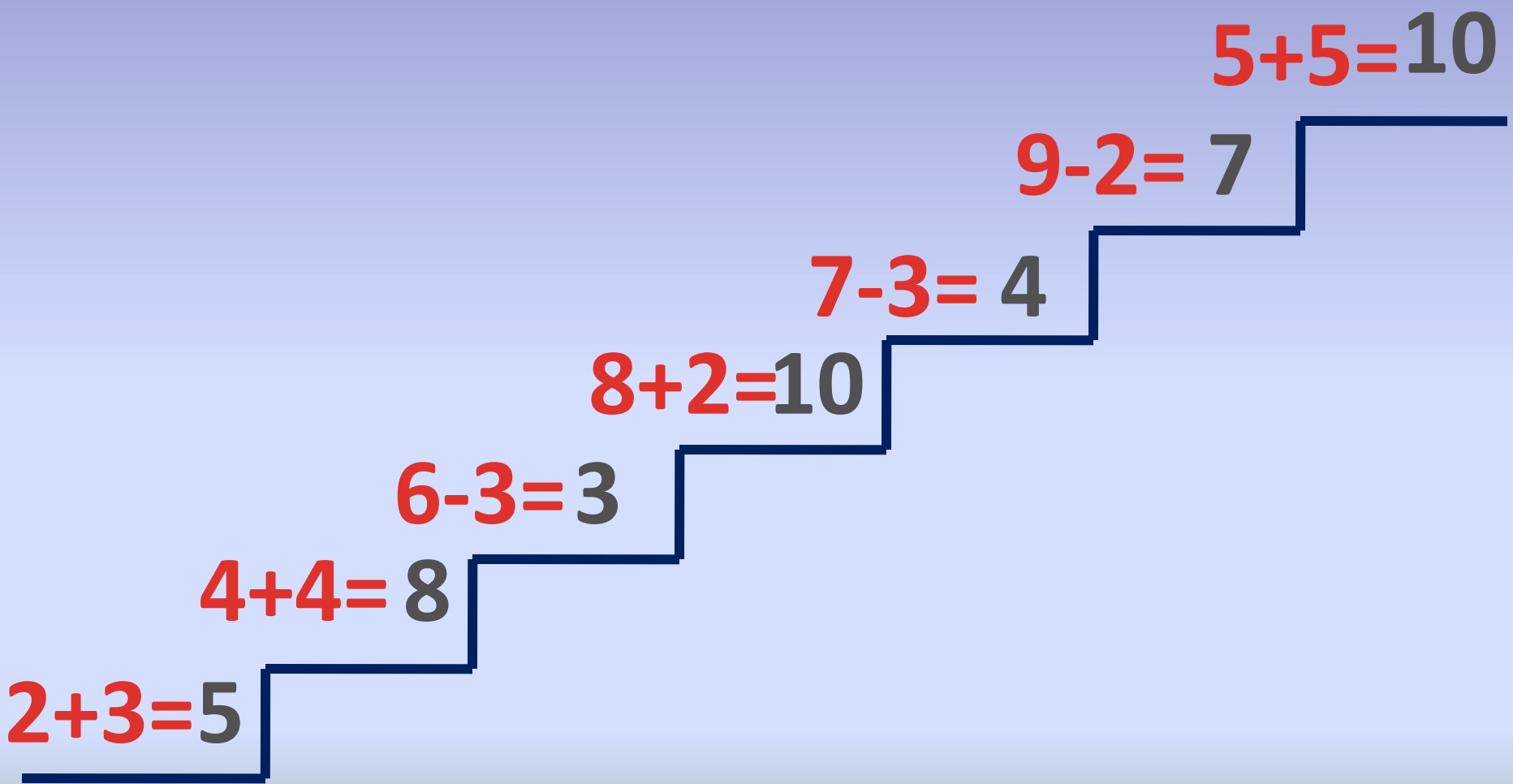
1

3

5

7

9



$2+3=5$

$4+4=8$

$6-3=3$

$8+2=10$

$7-3=4$

$9-2=7$

$5+5=10$

# Лисички



100 Й

СТО

Й

Е  
сн  
а

вЕСН

О

опЯТ

5  
Ь

100

СТО

Л  
Л

С з


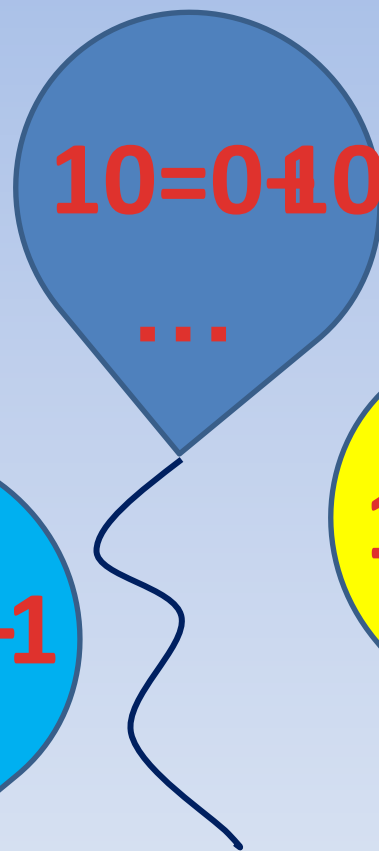

СТРИ

Ж

Ж



# Белочки



# Зайчики



**На тарелке было 7 груш.  
3 груши съели. Сколько  
груш осталось?**





# Задача на смекалку

На столе стояло 3 стакана с малиной. Костя съел 1 стакан малины. Сколько стаканов осталось?



# Работа в парах

$$10 - \dots 2 =$$

$$+ 8$$

$$7 + \dots 3 =$$


$$10$$

$$4 \quad 6 -$$



**Дорогие ребята, большое  
спасибо за то, что вы сорвали  
мои лепестки. Желаю вам  
успехов в учебе.**

**А в награду дарю вам  
новогоднюю елку.**



# Рефлексия

Работал, но не  
активно

Был пассивен,  
но буду

ст



Активно  
работал