


ТАБЛИЦА УМНОЖЕНИЯ



*Автор работы: Малашкевич Париса
Вячеславовна, МАОУ СОШ № 167 г.
Екатеринбург*

4

6

8

9

10

12

14

15

16

18

20

21

24

25

27

28

30

32

35

36

40

42

45

48

49

54

56

63

64

72

81

Кликни
мышко
й по
любом
у числу




Игра «Весёлые шифровки»

Найди, какое число спрятано на месте квадрата


?




$$\bigcirc + \bigcirc = \triangle$$




$$\heartsuit : 9 = \square$$




$$\text{pentagon} + \text{pentagon} = \text{parallelogram}$$



$$\text{parallelogram} - \bigcirc = \heartsuit$$



$$\text{parallelogram} : \triangle = 8$$



$$8 \times 3 = \text{pentagon}$$

ПРОВЕРКА



Реши хитрые задачи

Мальчик помогал отцу пилить дрова. Каждое бревно они распиливали на 5 частей. Один распил занимал у них 2 минуты. Сколько времени им потребовалось,

ПРОВЕРКА




На лужайке бегают цыплята. Белых - несколько, а пёстрых в 2 раза больше, чем белых. Всего цыплят 18. Сколько цыплят

ПРОВЕРКА

6, а пёстрых - 12.



Реши и выбери правильный ответ: Динозавр с тремя рогами – это аллозавр – 15, трицератопс – 28, тираннозавр – 56



Указание

$\times 6$



$: 3$



$\times 7$



$: 9$

$\times 2$



Трицератопс

С тремя рогами
Динозавр



Источники:

Шаблоны корпорации Майкрософт

<http://www.pngmart.com/files/7/Triceratop-PNG-Photo.png>