





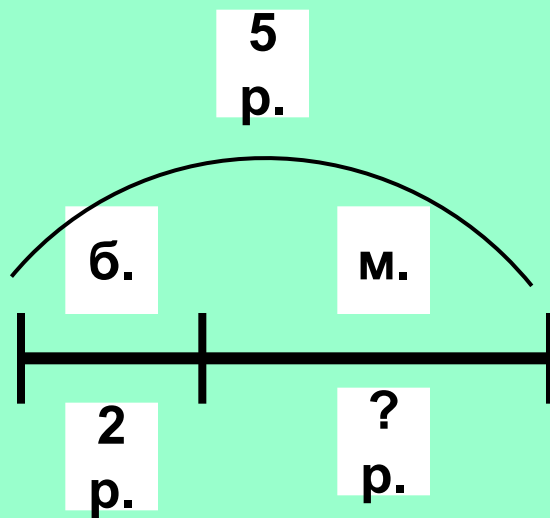
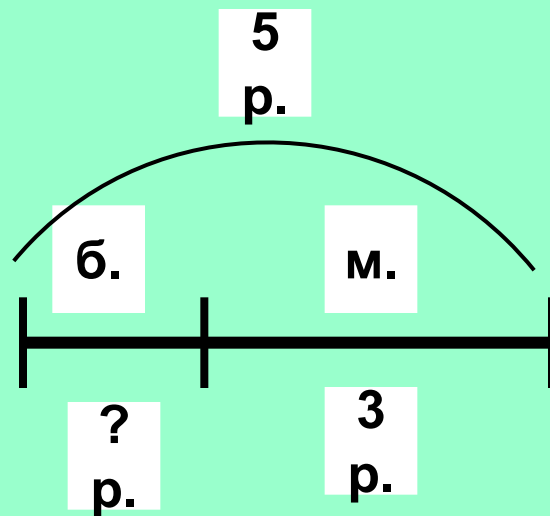
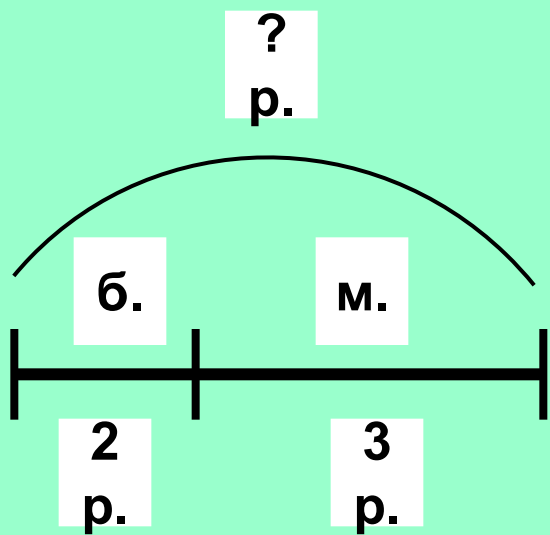
ОТВЕТ

решение

вопрос

условие





В одном компьютерном классе 8 кактусов, а в другом - на 3 кактуса больше.

Сколько кактусов в другом классе?

- 1) **11 кактусов**
- 2) **5 кактусов**
- 3) **13 кактусов**

**В волейбольную секцию
записались 17 человек, а в
баскетбольную - 8.**

**На сколько меньше человек
записалось в баскетбольную секцию,
чем в волейбольную?**

- 1) на 8 человек**
- 2) на 11 человек**
- 3) на 9 человек**



Маша в лесу нашла 7 лисичек, а Миша 5 лисичек.

Сколько грибов нашли ребята в лесу?



Выбери правильный ответ.

- 1) 2 гриба;**
- 2) 11 грибов;**
- 3) 12 грибов.**

В вазе лежало 14 бананов, а груш – 9.
На сколько бананов больше чем груш?

Выбери правильный ответ:

- 1) На 5;
- 3) На 23.
- 4) На 7;



Сколько яблок в двух вазах, если в первой 17 яблок, а во второй – 20?

Выберите верный ответ:

- *37 яблок;*
- *3 яблока;*
- *36 яблок.*

*Когда за завтраком съели 8 бутербродов,
на тарелке осталось 7 бутербродов.
сколько всего бутербродов приготовили на
завтрак?*

Выберите верный ответ:

1. 1 бутерброд;
2. 15 бутербродов;
3. 10 бутербродов

