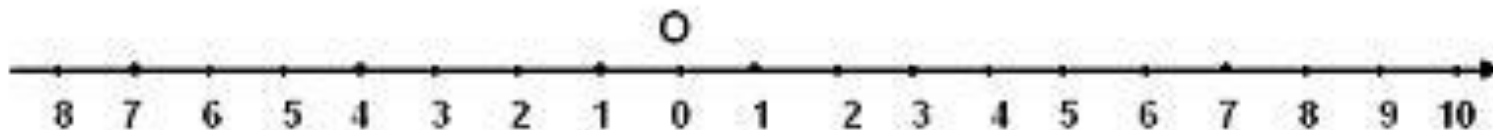
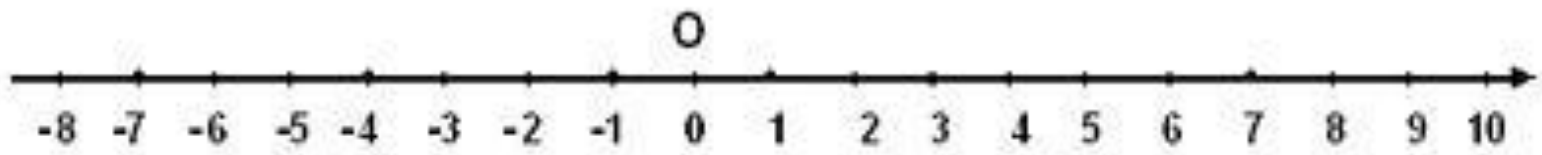



Знакомство с координатной прямой

- **Практическая работа.** Начертите горизонтальную прямую.
- Отметьте на ней точку O (примерно посередине).
- Будем называть эту точку *начало отсчёта*
- 3. Выберите единичный отрезок и отложите его вправо и влево от начала отсчета
- (одну или две клетки)
- 4. Под каждой точкой подпишите соответствующее число.





**Прямая с выбранным
на ней началом
отсчета, единичным
отрезком и
направлением
называется
*координатной прямой.***



Задание №3 Изобразите
на координатной прямой

ТОЧКИ

$E(-4)$, $P(4)$, $E(-2)$, $A(3)$, T
 (5) , $E(1)$, $Д(0)$, $P(-5)$, $K(2)$,
 $H(-3)$

Задание №4 Найди ошибку”.

На координатной прямой
отмечены точки А, В, С, D.

А (2), В (- 3), С (- 2), D (- 4).

