

# Оставь обратные задачи

- Было
- Пришли
- Стало

$$16 + 8 = 24$$

$$24 - 8 = 16$$

$$24 - 16 = 8$$


**16**



# Составить задачу

У Тани – 4 монеты по 10 руб.

У Кати – 17 руб.



$10 \times 4 = 40$  (р.) – у Тани.

~~$40$~~   $\pm 17 = \underline{57}$  (р.) – вместе.



# (9 €3) + 5 = 11(н.)

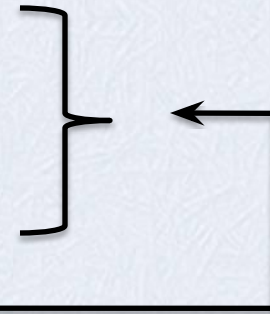
- Гуппи – 9 рыб  
меченосцев - ?, на 3 меньше  
неонов - **?**, на 5 больше

- 1)  $9 - 3 = 6$  (м.)  
2)  $6 + 5 = 11$  (н.)



$$12 + (12 + 4) = 28 \text{ (кг)}$$

- Пряников - 12 кг  
печенья - ?, на 4 больше  
конфет - ? \_\_\_\_\_



Пр. + печ. = кон.


$$12 \quad \underline{16}$$

- 1)  $12 + 4 = 16$  (кг) – печенье.
- 2)  $12 + 16 = 28$  (кг) – конфет.




Составь и реши задачу.

7



?

•  $7 \times 3 = 21$



# Составь и реши задачу


Было – ?

Положили – **15 и 5**

Стало - **23 и 17**

**Ст. – п. = было**

$$40 = 15 + 25 = 20$$



**цена**  
Ластик стоит 5 рублей. Сколько  
**количество**  
стоят 3 таких ластика?

**стоимость**  
 $5 \times 3 = 15 \text{ (руб.)}$

**Цена**

**Количество**

**Стоимость**



# Реши задачу

- У Коли было 5 монет по 5 рублей. После того как мама дала ему ещё несколько рублей, у Коли стало 62 рубля. Сколько денег мама дала Коле?






# Реши задачи

- Карандаш стоит 4 рубля. Сколько уплатят за 3 таких карандаша?
- $4 \times 3 = 12$  (руб.)
- На скворечник требуется 8 планок. Сколько нужно планок для 2 таких же скворечников?
- $8 \times 2 = 16$  (п.)
- На одной полке 10 книг. Сколько книг на 4 таких полках?
- $10 \times 4 = 40$  (к.)



- Было – 56
- Взяли – 3 по 10
- Осталось - ?

$$56 - 10 \times 3 = 26$$



# Оставь задачу по краткой записи

цена	количество	стоимость
8	3	?
10	7	?
?	5	15
2	?	20



В книге 50 страниц. Первый рассказ занимает 13 страниц, второй 27 страниц. Сколько страниц занимает третий рассказ?

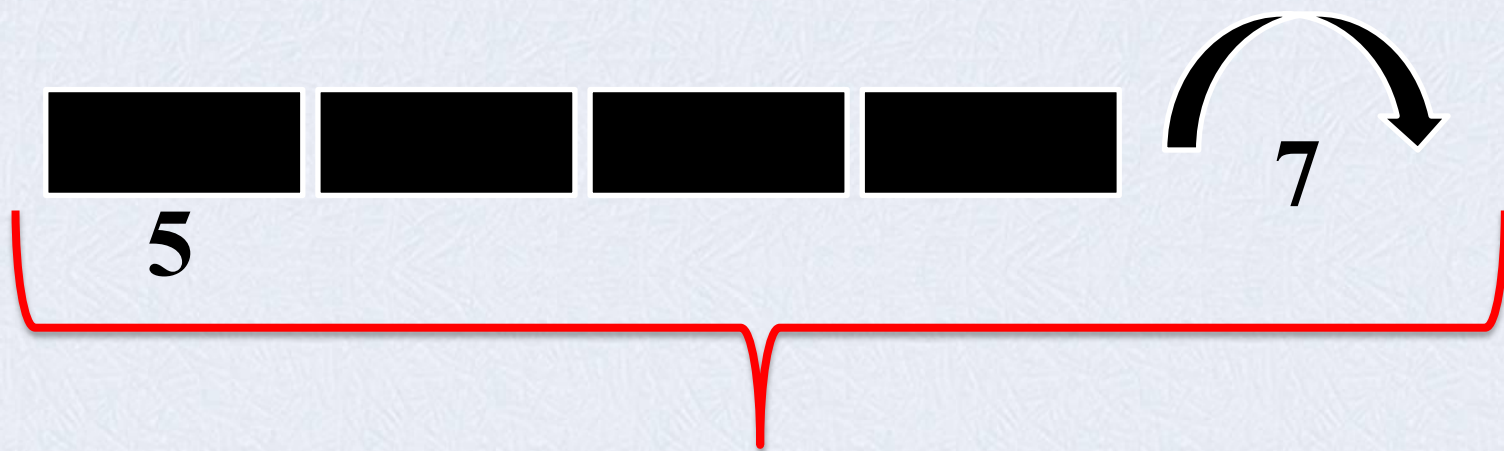
$$13 + 27$$

?

50



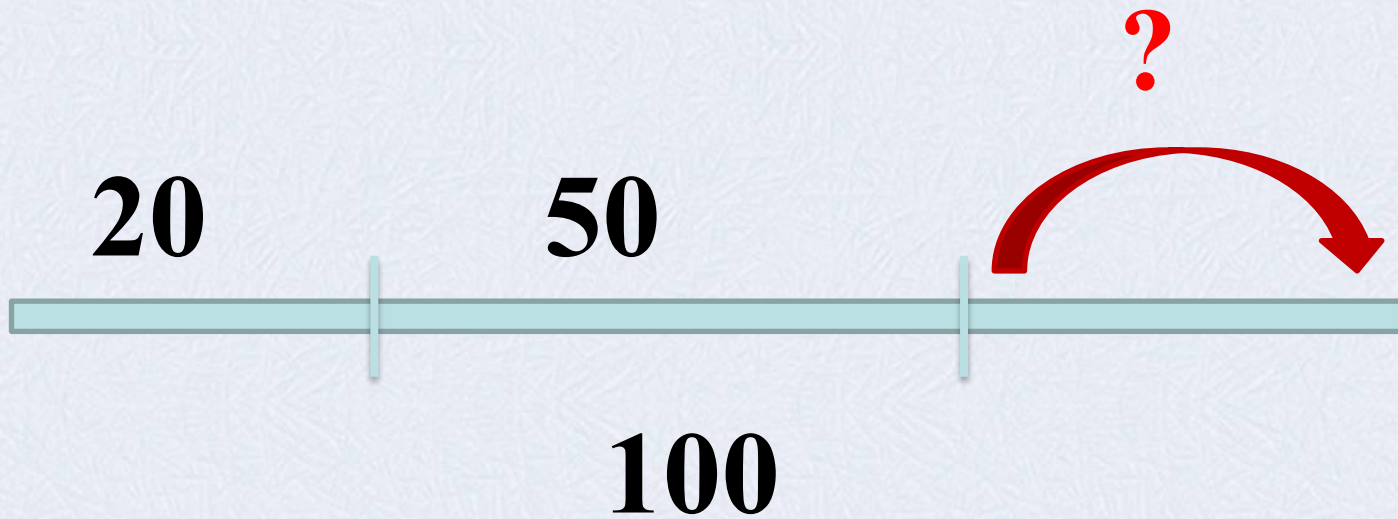
# Составь задачу по чертежу



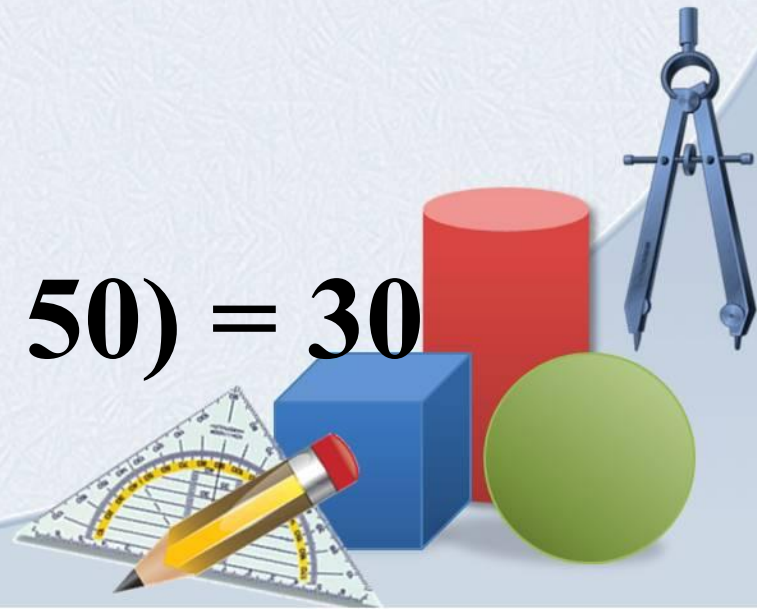
?

$$\bullet 5 \times 4 + 7 = 27$$





$$100 - (20 + 50) = 30$$



- ~~43~~ Вани ~~27~~ ~~43~~ ~~16~~ (с.), а Кати 27. На сколько у ~~Кати~~ ~~14~~ ~~май~~ ~~37~~ (ов) меньше, чем у Вани?

- Когда в корзину положили 14 грибов, там стало 51 гриб. Сколько грибов было в

корзине?

$$11 \times 3 = 33 \text{ (с.)}$$

- В ряду 11 стульев. Сколько стульев в 3 таких рядах?

- ~~15~~ : ~~5~~ = ~~3~~ (л.) Цена леденца 3 рублей. Сколько леденцов можно купить на 15 рублей?

