




# ЛОГИК МЭСЬЭЛЭ.

Керпе 10-ел яши, э куян 2 елга кимрэк яши.  
Куян ничэ ел яши?



Усак бер көнгэ 66 л су эчэ, э каен 60 л су эчэ.  
Усак каенга караганда ничэ л га күбрэк су эчэ?



Дилэрэ һәм Дилэрэ эбилэрэнэ кунакка кайтты.  
Динэ авылда 1 атна, э Дилэрэ 7 көн торды.  
Кайсы озаграк торды?




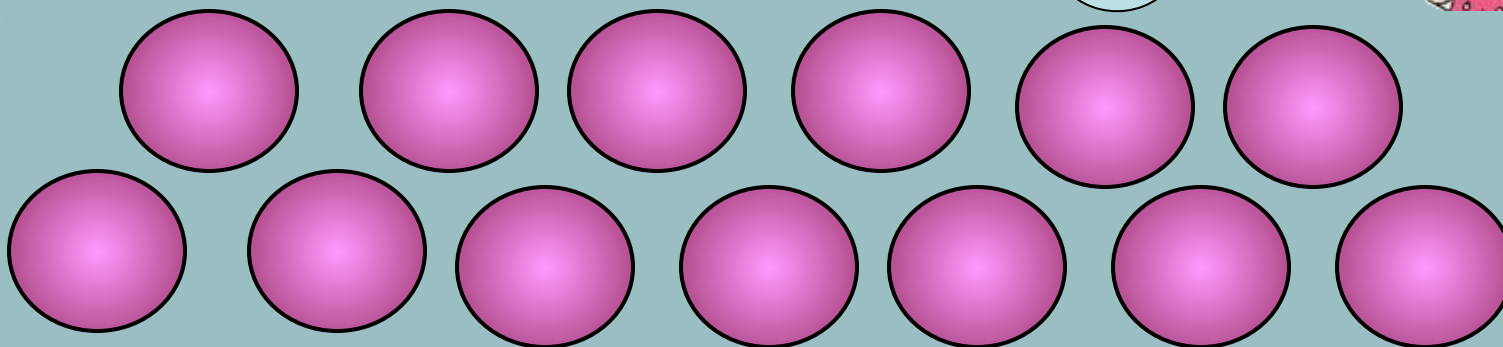
Алсуга 1 яшь, э Сылуга 12 ай.  
Кайсы олырак Алсумы, Сылуме?





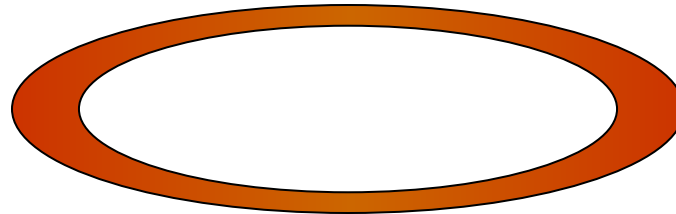
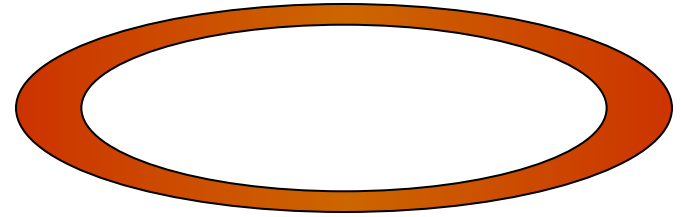
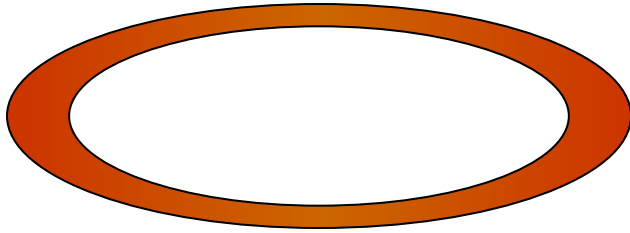

13 шарны 4 кә бүлүргә  
мөмкинме?

Мин юк  
дип  
уйлыйм!



# Помидорларны тигез итеп тарелкаларга

бүлэргә





## кагыйдә 1:



«13 не 4 кә бүлгәч, 3 килеп чыга һәм калдыкта 1 кала» яки

« Бүленүче 13, бүлүче 4, өлеш 3, калдык 1 »

$$13 : 4 = 3 \text{ (кал. 1)}$$



## Кагыйдә 2:




Бүлгәндә, калдык һәрвакытта да  
бүлүчедән кечерәк булырга тиеш..

$$13 : 4 = 3 \text{ (кал.1) }$$

Болынга 21 бал корты очып йөри иде. Ничэшәр бал корты 4 чәчәккә куна .





**11 алманы 4 яшикка  
урнаштырырга.**



НӘТІЖӘ:

