

ПРЕЗЕНТАЦИЯ ОТКРЫТОГО ЗАНЯТИЯ В ПОДГОТОВИТЕЛЬНОЙ К ШКОЛЕ ГРУППЕ НА ТЕМУ: «ПУТЕШЕСТВИЕ В СКАЗКУ «ЦВЕТИК - СЕМИЦВЕТИК»»

Подготовила воспитатель МБДОУ
Алексеевского детского сада
«Сказка»: Сазонова М.А.



**КОМУ: ДЕТСКИЙ САД «СКАЗКА»,
ПОДГОТОВИТЕЛЬНАЯ ГРУППА «ОБЛАЧКО»
ОТ КОГО: ВОЛШЕБНИКА ИЗ СТРАНЫ МАТЕМАТИКИ**




«Здравствуйте, ребята. Я забрал из сказки к себе, в Математическое королевство ту, у которой был цветок с волшебными лепестками, исполняющим желания. Если вы хотите её вернуть, вам нужно собрать все лепестки от цветка, попасть в мой дворец и расколдовать её. Удача улыбнётся только дружным ребятам. Волшебник страны Математики».



СКАЗКА «ЦВЕТИК - СЕМИЦВЕТИК»

Катаев Валентин Петрович



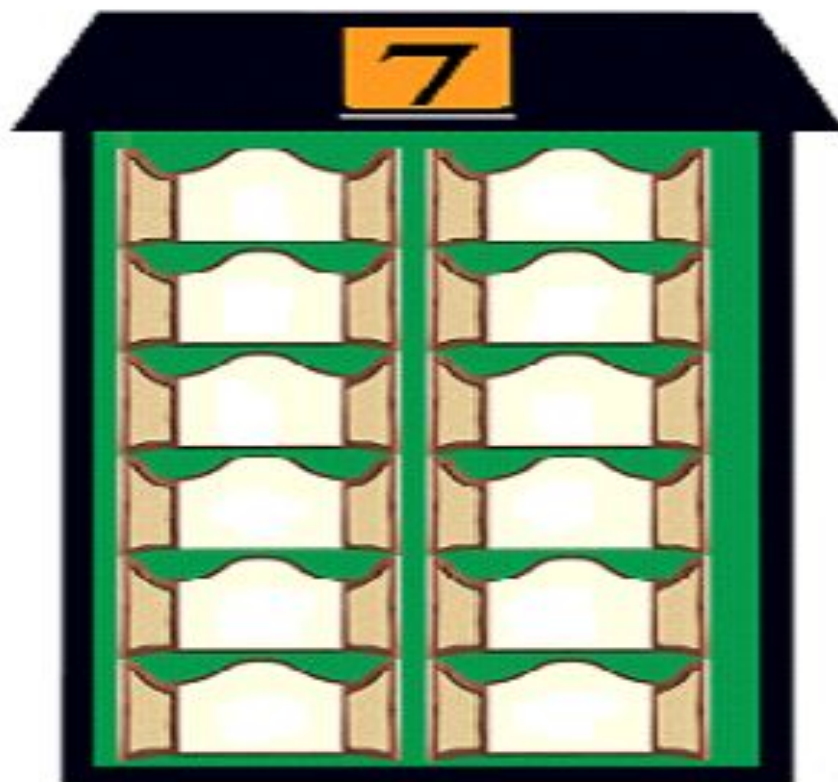
ПЕРВОЕ ЗАДАНИЕ: МАТЕМАТИЧЕСКАЯ РАЗМИНКА



- ❖ вспомните порядковый счет от 1 до 20
- ❖ выложите цифры от 10 до 1
- ❖ посчитайте от 2 до 8, от 4 до 7, от 5 до 9



ВТОРОЕ ЗАДАНИЕ: ВСПОМНИ СОСТАВ ЧИСЛА 7, ЗАСЕЛИ ДОМИК



ТРЕТЬЕ ЗАДАНИЕ: ОТВЕТИТЬ НА ВОПРОСЫ.



- ответить на вопросы:
- -сколько месяцев в году?
- -сколько дней в неделе?
- -какой день недели сегодня?
- -какой день стоит между средой и пятницей?
- -какая фигура имеет 3 угла?
- - назови соседей числа 5 и 7?
- -сколько носов у 5 котов?
- -сколько лап у 3 кур?
- -назовите четные числа?



ЧЕТВЕРТОЕ ЗАДАНИЕ: ФИЗКУЛЬТМИНУТКА «МЫ СТАРАЛИСЬ...»



- Мы старались, мы старались, И немного утомились. Сделать мы теперь должны Упражнение для спины. (*Вращение корпусом вправо и влево.*)
- Мы работаем руками, Мы летим под облаками. Руки вверх и руки вниз. Кто летит быстрее всех? (*Дети имитируют движения крыльев.*)
- Чтобы ноги не болели, раз – присели, два – присели, три, четыре, пять и шесть. (*Приседания.*)
- Мы идем, идем, идем (*Ходьба на месте.*) И садимся мы потом.



ПЯТОЕ ЗАДАНИЕ: СОСТАВЬ И РЕШИ ЗАДАЧУ.




ШЕСТОЕ ЗАДАНИЕ: ОРИЕНТИРОВКА В ПРОСТРАНСТВЕ.

Расставь правильно
геометрические фигуры:

- 1) Круг в середину;
- 2) Поставьте треугольник в верхний левый угол;
- 3) Квадрат в нижний правый угол;
- 4) Трапецию в нижний левый угол;
- 5) Многоугольник в верхний правый угол;
- 6) Овал между трапецией квадратом;
- 7) Ромб между треугольником и многоугольником.



СЕДЬМОЕ ЗАДАНИЕ: ВЫПОЛНИ ГРАФИЧЕСКИЙ ДИКТАНТ.



□ Отступаем от края две клеточки и ставим точку.

□ От точки

3→, 2↓, 10→, 2↓, 1←,
2↓, 2←, 2↑, 7←, 2↓,
3←, 6↑.



ВСПОМНИ ВОЛШЕБНЫЕ СЛОВА ВМЕСТЕ С ЖЕНЕЙ...

*Лети, лети, лепесток,
Через запад на восток,
Через север, через юг,
Через север, через юг,
Возвращаясь, сделав круг.
Лишь коснешься ты земли -
Быть по моему вели...
Желаю всем счастья,
здоровья, мира!*



ВЫБЕРИТЕ КАРТИНКУ

- ✓ Какое у тебя настроение?
- ✓ Объясни почему.

1)



2)



3)



До новых встреч!



