

*Игровая образовательная  
ситуация с элементами ФЭМП  
с детьми средней группы  
«Путешествие в математику»*

*Воспитатель: Коренская Татьяна Александровна*

Жил-был царь. И была у него дочка-красавица. Вот уехал как-то царь по своим царским делам, а дочка дома осталась. Вышла она в сад погулять, а тут ветер налетел, подхватил царевну и унес в тридевятое царство, в тридесятое государство.






Поехал ее искать жених-Иван Царевич. Едет  
день, едет два.





Подъезжает к  
избушке на куриных  
ножках. Там Баба-яга  
живет. Рассказал  
Иван Царевич про  
свою беду. Баба-  
яга  
помочь обещала, но  
прежде предложила  
Ивану выполнить её  
задания: «Сможешь  
выполнить задания,  
найдешь царевну!»





5






7



3









# Найди четыре предмета такой же формы







Найди четыре предмета  
такой же формы



5



7





3





Найди четыре предмета  
такой же формы

Four light blue squares arranged in a 2x2 grid, with a red triangle in the center. This is a visual puzzle where the goal is to find four objects that match the shape of the squares.





Найди четыре предмета  
такой же формы





5



7



3








5



7



3



Рассмотри  
картинку.  
Какие  
геометричес  
кие фигуры  
ты видишь?



5



7



3



Посмотри на картинку.  
Сколько на картинке кругов ,треугольников,  
квадратов?

