



Тема урока:

Число 10.




И



И


О

ЭТО






и




10

ЭТО






и



10

ЭТО






и




10

ЭТО






и



10

это






и




10

ЭТО






и



10

ЭТО



$$9 + 1 = 10$$

Цифра вроде буквы О –
Это ноль иль ничего.
Круглый ноль такой
хорошенький!


Но не значит
ничего ~~с~~ ~~а~~ ~~в~~ ~~а~~ ~~р~~ ~~я~~ ~~д~~ ~~о~~ ~~м~~
рядом с
ним

Единицу примостим,
Он побольше станет
весить,

Потому что это –

0 1 2 3 4 5 6 7 8 9 10

10





12/10/2015 08:20 PM

4. Запиши пропущенные числа.

0 1 5 9

0 2 3 8

8 6 4 2 0

9 7 5 3 1 0

5. Дорисуй фишки. Дополни записи.

7 7 это 4 и

7 7 это и

7 7 это и

6. Влиши знак «+» или «-».

3 2 = 5 4 1 = 3 6 2 = 8

3 2 = 1 4 1 = 5 6 2 = 4

Проверь свою работу.

Урок 25. Работаем с числом 10

1. Сколько?



10



2. Дорисуй фишки. Дополни записи.

10

10 = 8 +

10

10 = +

3. Вычисли. Соедини линиями примеры с одинаковыми ответами.

$6 + 2 = 8$ $5 + 4 =$ $5 + 1 =$

$6 + 1 =$ $7 - 1 =$ $9 - 1 = 8$

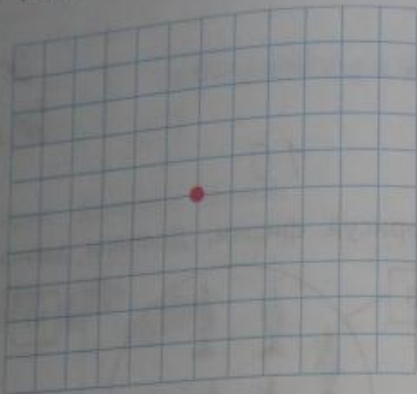
$4 + 2 =$ $7 + 1 = 8$ $8 + 1 =$

$7 + 2 =$ $9 - 2 =$ $5 + 2 =$

8

08/10/2015 11:05 AM

4. Отступи от кружка 3 клетки вправо, 3 клетки влево, 3 клетки вверх и 3 клетки вниз. Отметь полученные точки. Соедини соседние точки по линейке.



- * Выполни такое же задание, отступив от кружка 4 клетки, 5 клеток.

5. Обведи предмет, который не относится к данной группе.




6. У курочки-наседки малые детки: Жёлтых два, а чёрных восемь.
— Сколько всех? — у вас мы спросим.
Нарисуй фишки. Вычисли.



				=			
--	--	--	--	---	--	--	--

Урок 26. Измеряем длину в дециметрах

1. Отметь знаком ✓ самый длинный карандаш. Проверь себя измерением.



2. Проведи цветным карандашом отрезок длиной 10 см.



3. Начерти отрезок длиной 1 дм.



4.

1	1	2	2	3	3	4	5		
---	---	---	---	---	---	---	---	--	--

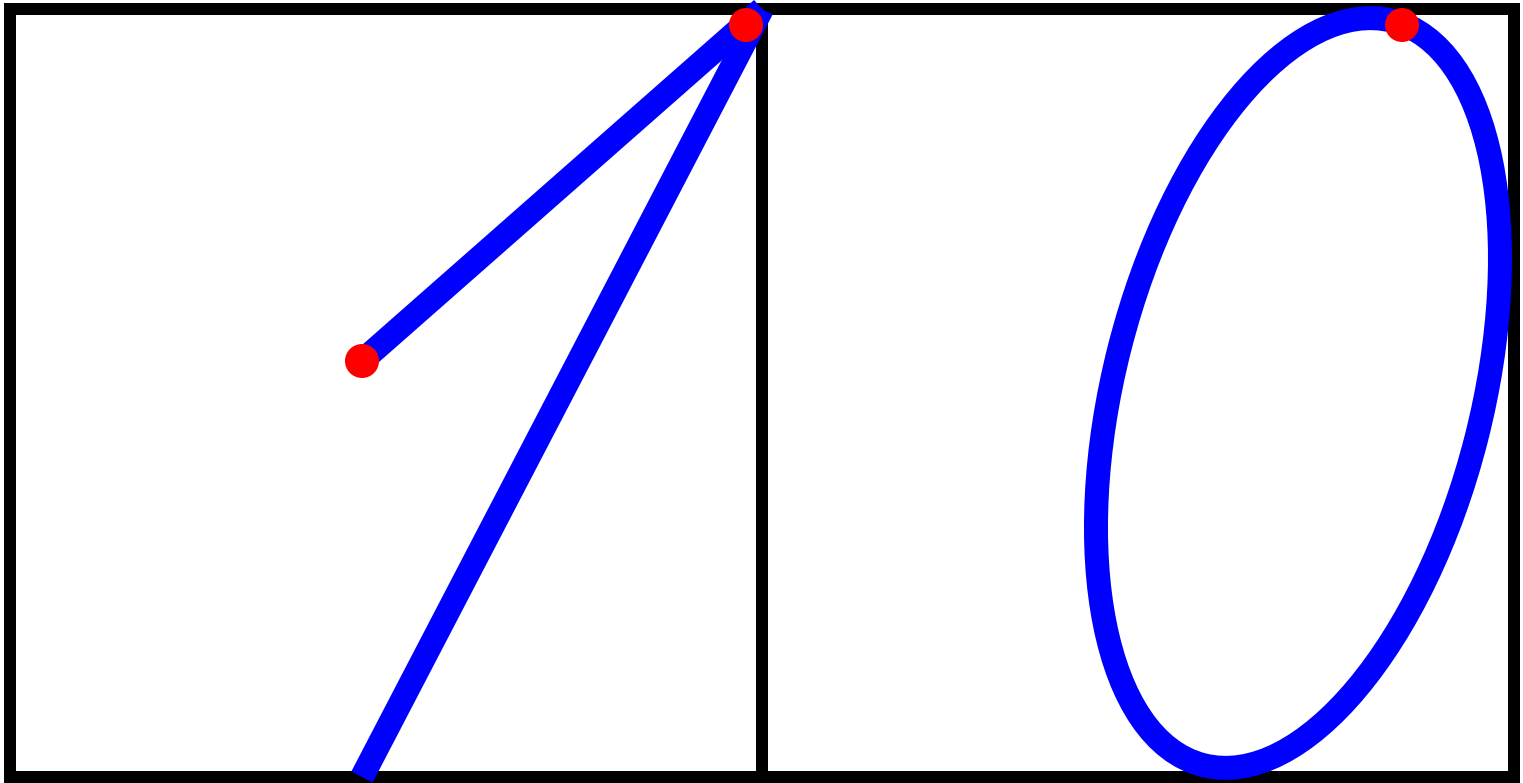
- | | | | | | | | |
|---|---|---|---|----|----|--|--|
| 6 | 7 | 8 | 9 | 10 | 11 | | |
|---|---|---|---|----|----|--|--|

5. Составь и реши задачу.



		=	
--	--	---	--

08/10/2015 11:05 AM



10 1 2 3 4 5 6 7 8 9
9 8 7 6 5 4 3 2 1

