


# Тема: «Решаем задачи»



Автор презентации:  
Красова И.А.,  
Учитель начальных классов  
г.о. Мытищи, 2018г.



В хоре 7 кузнечиков  
Песни распевали.  
Вскоре 5 кузнечиков  
Голос потеряли.  
Сосчитай без лишних слов,  
Сколько в хоре голосов?

2






В сад я к бабушке пошел  
И копеечу нашел.  
Что купил я? Шапку, кепку,  
Ложку, плошку, гайку, лейку –  
Все купил я за копейку.



6





# Компоненты задачи:

**Условие**

**Вопрос**

**Решение**

**Ответ**

# ТЕМА УРОКА

1

2

3

4

5

6

**Р**

**Е**

**Ш**

**А**

**Е**

**М**

7

8

9

10

11

12

**З**

**А**

**Д**

**А**


**Ч**

**И**

2 На одном кусте 5 ягод, на другом — 4 ягоды.  
Сколько ягод на двух кустах?  
Как решить задачу?



$$\boxed{5} + \boxed{4} = \boxed{9}$$



▶ На кусте 6 ягод. Созрели 3 ягоды.  
Сколько ягод ещё не созрели?  
▶ Как решить задачу?



$$\boxed{6} - \boxed{3} = \boxed{3}$$



Подбери решение к задаче.

Катя нарисовала 8 цветов.  
Из них 1 мак, а остальные —  
розы. Сколько роз нарисовала  
Катя?

$$8 + 1 = 9$$

Даша нарисовала 8 роз и 1 мак.  
Сколько цветов нарисовала Даша?

$$8 - 1 = 7$$



4.

Сколько пирожных? Сколько конфет?



На сколько меньше пирожных, чем конфет?

На сколько больше пирожных, чем конфет?

На какой из этих вопросов нельзя ответить?

Объясни.

6 см

Найди расстояние между точками одного цвета.

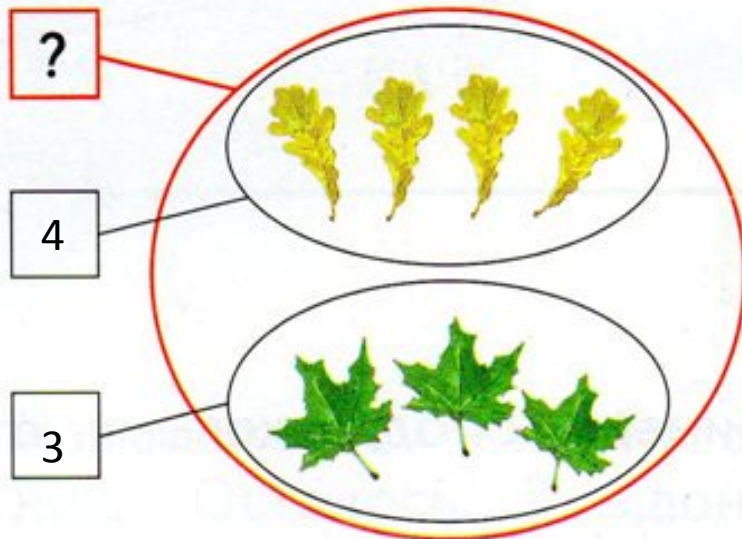


- Измерьте расстояние между **синими** точками. 6 см
- Измерьте расстояние между **желтыми** точками. 5 см
- Измерьте расстояние между **красными** точками. 6 см

1.

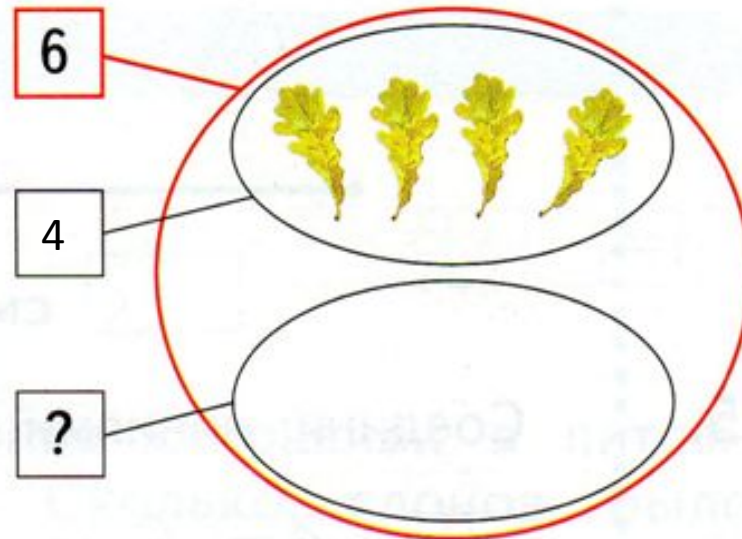
Придумай условие. Ответь на вопрос.

Сколько всего листьев?



$$4 + 3 = 7$$

Сколько зелёных листьев?



$$6 - 4 = 2$$

2. Выбери карточку с задачей. Реши задачу.









Посадили 7 яблонь и 2 груши.  
Сколько деревьев посадили?

Посадили 9 деревьев.  
Из них 7 яблонь и 2 груши.



|   |   |   |   |   |
|---|---|---|---|---|
| 7 | + | 2 | = | 9 |
|---|---|---|---|---|

3. Сколько рублей стоит каждый букет?

|   |      |   |  |   |   |
|---|------|---|--|---|---|
|  | 1 р. |  |  |  |  |
|  | 2 р. | <input type="radio"/>   | <input type="radio"/>  | <input type="radio"/>   | <input type="radio"/>   |
|  | 3 р. | <input type="radio"/>   | <input type="radio"/>  | <input type="radio"/>   | <input checked="" type="radio"/>  |
|  | 4 р. | <input type="radio"/>   | <input type="radio"/>  | <input type="radio"/>   | <input type="radio"/>   |

Отметь знаком  самый дорогой букет.

# Итог урока

Что нового вы узнали на  
уроке?