






Тема урока: РЕШЕНИЕ
ЗАДАЧ.



Цель: повторить
решение
задач изученных видов.



Подготовила
Аушева Е.В., МБОУ СШ 35



Задача 1.

В поход пошли 24 мальчика, а девочек в 3 раза меньше, чем мальчиков. Сколько всего детей пошло в поход?

Решение:

$$1) 24 : 3 = 8 \text{ (дев.)} - \text{ в походе}$$

$$2) 24 + 8 = 32 \text{ (реб.)} - \text{ всего}$$

Ответ: 32 ребенка.



Задача 2.

Ящик с грушами и три одинаковых ящика с яблоками весят 39 кг. Сколько весит один ящик с яблоками, если ящик с грушами весит 15 кг?

Решение:

1) $39 - 15 = 24$ (кг) - весят 3 ящика с яблоками

2) $24 : 3 = 8$ (кг) - весит один ящик с яблоками

Ответ: 8 кг.



Задача 3.

Альбом стоит 50 руб., а ручка — в 10 раз дешевле. Сколько стоят альбом и ручка вместе?

Решение:

1) $50:10 = 5(\text{руб.})$ — ручка

2) $50 + 5 = 55(\text{руб.})$ - альбом и ручка

Ответ: 55 рублей.



Задача 4.

В книжный магазин привезли 160 книг. Из них 90 поставили на верхнюю полку, 20 на среднюю, а остальные на нижнюю. Сколько книг поставили на нижнюю полку?

Решение:

1) $90 + 20 = 110(\text{к.})$ – на 2х полках.

2) $160 - 110 = 50(\text{к.})$ – на третьей полке.

Ответ: 50 книг.



Задача 5.

В один день Аня прочитала 21 страницу, во второй — в 3 раза меньше, чем в первый, а в третий — на 16 страниц больше, чем во второй день. Сколько страниц прочитала Аня в третий день?

23 страницы



Задача 6.

У Веры было 40 рублей, а у Оксаны на 1 рубль больше. Сколько ручек они смогут купить, если одна ручка стоит 9 рублей?




9 ручек.

Задача 7.

У Маши было 100 рублей.
Она купила мороженое за
35 рублей
и молоко за 43 рубля.
Сколько денег осталось у
Маши?

22 рубля.



Задача 8.

**Для школы закупили 30
столов.**

**10 столов поставили в
столовую,
остальные – распределили по
классам.**

**В каждый класс
поставили по 4 стола.**

**В скольких классах
поставили новые столы?**

В 5 классах.



Задача 9.

Чему равны
площадь
и периметр
квадрата,
если его сторона
6 см?

36 кв.см
24 см



Задача 10.

В коробку можно положить 8
карандашей. Сколько карандашей
можно положить в 5 таких же коробок ?
А в 9?



40 карандашей.
72 карандаша.

ОЦЕНИ свою работу на уроке.

