

РЕШЕНИЕ ЗАДАЧ

Цели урока:

- совершенствовать умение решать задачи;
- выбирать схемы, соответствующие тексту задачи;
- совершенствовать вычислительные навыки.

УСТНЫЙ СЧЕТ

$16 - 8$

$13 - 6$

$12 - 9$

$17 - 8$

$15 - 9$

$11 - 7$

$13 - 8$

$11 - 9$


9 3 6 7 8 2 4

5

И Н Й И С Т К

И

СИНИЙ КИТ





20 м



на 13 м больше

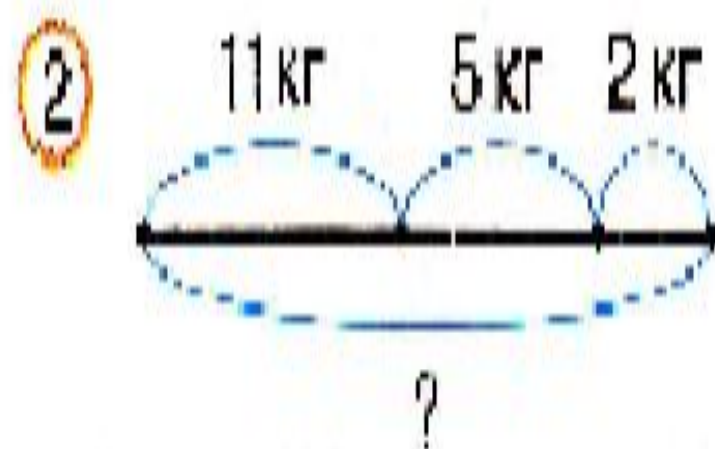
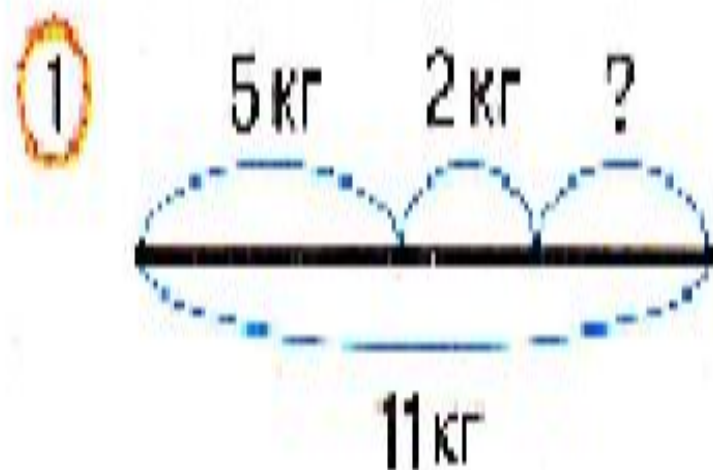
$$20 + 13 = 33 \text{ (м)} -$$

длина синего

кита

Маша для обитателей зоопарка купила 5 кг капусты, 2 кг свёклы и морковь. Сколько килограммов моркови купила Маша, если масса всех овощей 11 килограммов?

- Выбери схему, соответствующую задаче.



- Что обозначают выражения?

1) $11 - 5$ 2) $5 + 2$ 3) $11 - 2$ 4) $11 - (5 + 2)$

38

**34, 40, 20, 5,
18, 32, 35, 4,
7, 6**



Работа по учебнику

№ 246 (2)

Реши

самостоятельно

Домашнее задание

№ 249