



Цена

Количество

Стоимость

?

8 шт.

48 руб.

5 руб.

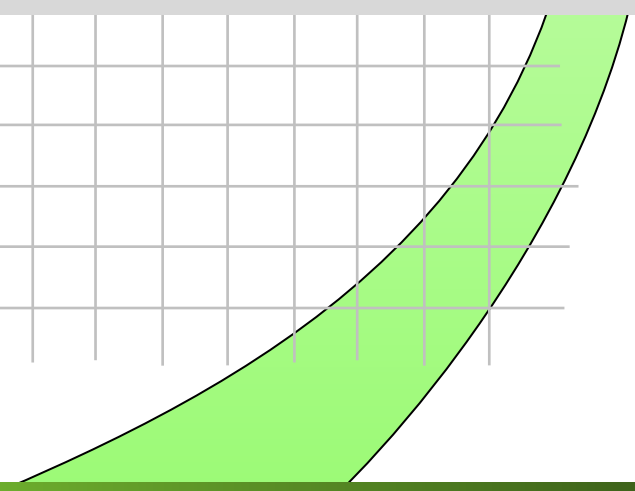

?

35 руб.

6 руб.

9 шт.

?





У Лены 5 тетрадей, а у Коли 3 тетради.


В корзине 5 рыжиков и 4 груздя. На сколько груздей меньше, чем рыжиков?

Папа принёс два арбуза. Один из них весит 3кг. Сколько весит второй арбуз?

Во сколько раз Вова старше Пети, если Вове 10 лет, а Пете 5?



Решение задач





В мастерской изготовили 40 больших столов, а маленьких в 8 раз меньше, чем больших. Сколько всего столов изготовили?

В мастерской изготовили 40 больших столов, а маленьких на 8 меньше, чем больших. Сколько всего столов изготовили?



1) $40:8=5$ (ст.) – маленьких

2) $40+5=45$ (ст.) – всего

Ответ: 45 столов

1) $40 - 8=32$ (ст.)-маленьких

2) $40+32=72$ (ст.)-всего

Ответ: 72 стола





$$40+40:8=45(\text{с.т.})$$

$$40+(40-8)=72(\text{с.т.})$$






Составь задачи по выражениям:

1) $8+8 \cdot 2$

2) $8+(8+2)$





**Мы шагаем по дорожке.
Раз, два! Раз, два!
Дружно хлопаем в ладоши.
Раз, два! Раз, два!
Поднимаем ручки
К солнышку, к тучке!**





6 игрушечных машинок стоят 48 рублей. Сколько рублей стоит одна такая машинка? 4 машинки?






Реши уравнения:

$$23 + x = 31$$

$$k - 17 = 33$$

$$45 - a = 9$$





$$6 \cdot 9 \quad 36:6 \quad (50-38):4 \quad 27:9$$


$$24:4$$


$$7 \cdot 6 \quad 48:6 \quad 16:(80-76) \quad 15:5$$

$$18:6$$

$$6 \cdot 9=54 \quad 36:6=6 \quad (50-38):4=3$$

$$7 \cdot 6=42 \quad 48:6=8 \quad 16:(80-76)=4$$


$$27:9=3 \quad 24:4=6$$


$$15:5=3 \quad 18:6=3$$



Спасибо за работу!

