




# Сложение и вычитание в пределах 9



# Продолжите ряд на три числа



**+4**



# Найдите значения выражений

$$4 + 5 = 9$$

$$3 + 2 = 5$$

$$8 - 3 = 5$$

$$6 + 3 = 9$$

$$10 - 1 = 9$$

$$4 + 1 = 5$$



# Сравни

$$5 < 9$$



A visual comparison of two groups of jam jars. The left group, enclosed in a rounded rectangle, contains 5 jars of jam in black pots with pink lids. The right group, also enclosed in a rounded rectangle, contains 9 jars of jam in glass jars with white lids and peach slices. Orange arrows point from the 5 jars on the left to the 9 jars on the right, illustrating the comparison 5 &lt; 9.

# Кролик заготовил варенье...



-?

**В > К**



-?

1

8

2

7

3

6

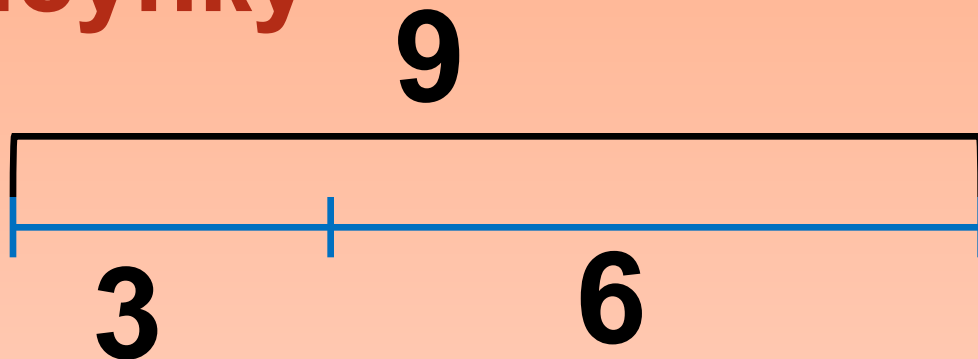
4

5

**9 банок**



# Составьте числовые выражения по рисунку




$$6 + 3 = 9$$

$$9$$

$$3 + 6 = 9$$

$$9 - 3 = 6$$

$$9 - 6 = 3$$





**В кружку сорвала Марина**

**Девять ягодок малины.**

**Пять дала своей подружке.**

**Сколько ягод стало в кружке?**



**Составьте выражение к задаче**

$$9 - 5 = 4$$

# Составьте задачу по выражению



$$7 + 2$$







**Задания подготовлены по книге «Устные упражнения на уроках математики. 1 класс» (авт. Л.Г. Петерсон, И.Г. Липатникова)  
Презентация выполнена Старицкой Е.В., учителем начальных классов  
ГБОУ школы №345 Невского района Санкт-Петербурга**