



**Урок математики во 2в классе.
Тема. Состав числа 14.**


Учитель Мельникова Л.С.


$$6+4$$


$$11-5$$



$$8+5$$


$$7+4$$


$$12-6$$


$$5+6$$


$$11-8$$


$$9+4$$

 Увеличить

 Увеличить

 Увеличить

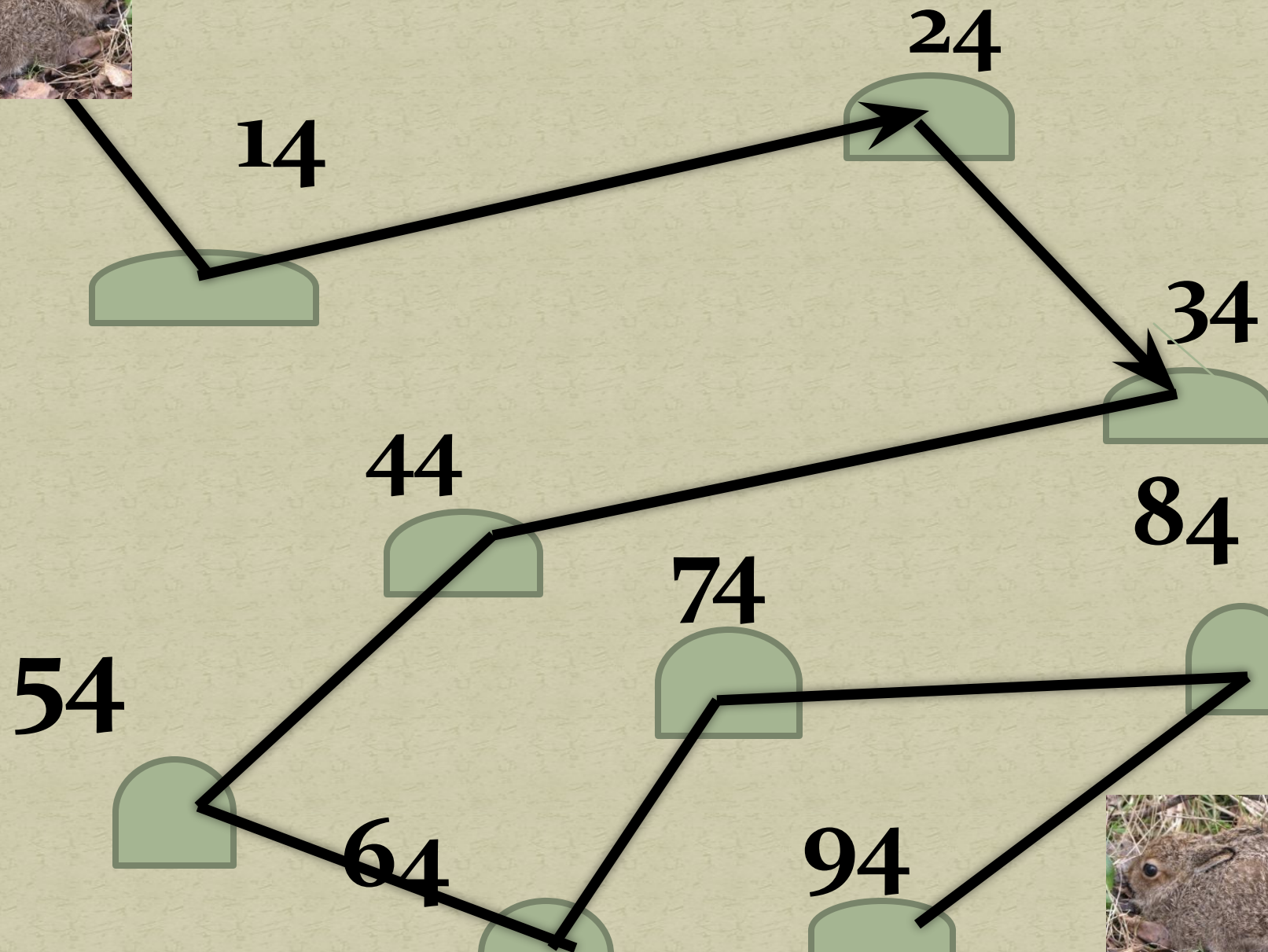


Помоги белочке!



© Alex Bannykh * www.ClipartOf.com/31420





Два зайчика нашли 14 грибов.
Сколько нашёл каждый?

14



Ушастик

10 + 4 О ●

9 + 5 П

8 + 6 Я

7 + 7 Т

6 + 8 К

5 + 9 И



Шустрик

У кого больше опят ?



$$7+7$$

$$8+6$$

$$9+5$$

Ушастик



Шустрик




$$7+3+4$$

$$8+2+4$$

$$9+1+5$$





1

2

3

4

5

6

7

8

9

10

11

12

13





Сколько морковок у зайчат?



$$4 + 3 = 7$$

$$5 + 2 = 7$$



$$7 + 7 = 14$$





C

+



H

+



M

+