





На сколько больше?
На сколько меньше?



Определи, не пересчитывая, всем ли мальчикам хватит по одной лопатке. А по одному ведру?





Кого больше? На сколько?

Как сделать, чтоб стало столько же?

На сколько больше? На сколько меньше?

- Обведи и раскрась шарик парами:
красный — синий, красный — синий.



Каких шариков больше и на сколько?

