

**ОТКРЫТЫЙ УРОК ПО ТЕМЕ В 3 КЛАССЕ**

**« ЗАКРЕПЛЕНИЕ ТАБЛИЧНОГО  
УМНОЖЕНИЯ И ДЕЛЕНИЯ »**

**ПРОЗВЕНЕЛ ЗВОНОК  
ВЕСЕЛЫЙ.**

**МЫ НАЧАЛИ РАБОТУ. ЗВОНОК ГОТОВЫ.  
БУДЕМ СЛУШАТЬ И ПОМОГАТЬ,**



**РАССУЖДАТЬ  
И ДРУГ ДРУГУ ПОМОГАТЬ!**

2 22 222 ... ..

**Какую закономерность заметили?**

**Напишите и продолжите ряд**



2 22 222 2222 22222  
222222



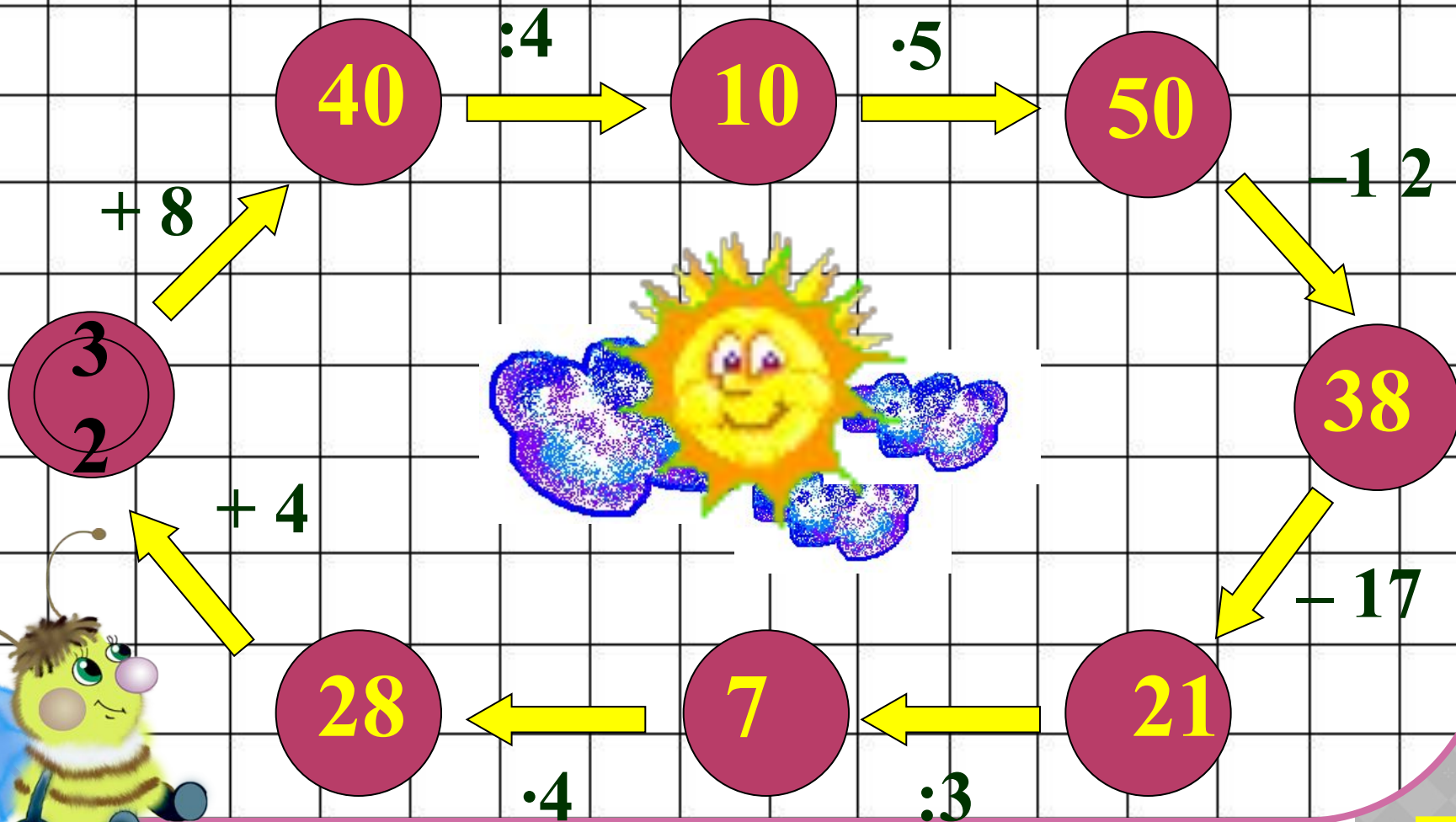
# УСТНЫЙ СЧЁТ



*Что мы знаем - будем  
повторять,  
Что забыли - будем вспоминать.  
В математике любая работа  
Не обходится без устного счета.*



# Игра «Разгони тучи!»



$$30 : 5 \times 3 - 18 : 9 =$$

1

6

$$36 : 4 + (47 - 37) \times$$

5

9

$$58 - 16 : 4 \times 7$$

2

0


$$- 10 =$$



Оля купила тетради. Ей дали сдачу 4 монеты по 5 рублей. Сколько рублей Оля получила сдачи?



20  
рублей







Маша раздала 18  
тетрадей 6 ученикам.  
По сколько тетрадей  
получил каждый  
ученик? по 3 тетради



**Бабушке 60 лет.  
Внук в 10 раз  
моложе бабушки.  
Сколько лет внуку?**

**6  
ЛЕТ**

Выбери правильное  
решение.

$$6 \cdot 4$$

$$6 \cdot 5$$

$$6 \cdot 6$$



Как-то раз в лесу  
густом  
Ёж построил себе дом.  
Пригласил лесных  
зверей,  
Сосчитайте их скорей:  
6 зайчат, 6 лисят,  
6 весёлых медвежат,  
6 бельчат, 6 бобров.



$6 \times 2 =$

$21 : 3 =$

$3 \times 6 =$

$6 \times 6 =$

$3 \times 5 =$

$24 : 4 =$


$18 : 2 =$

$3 \times 8 =$

$32 : 8 =$

$7 \times 5 =$

$35 : 7 =$



$6 \times 2 = 12$

$21 : 3 = 7$

$3 \times 6 = 18$

$6 \times 6 = 36$

$5 \times 3 = 15$

$24 : 4 = 6$

$18 : 2 = 9$

$3 \times 8 = 24$

$32 : 8 = 4$

$7 \times 5 = 35$

$35 : 7 = 5$





4 5 6 7 9 12 15 18 24 35 36

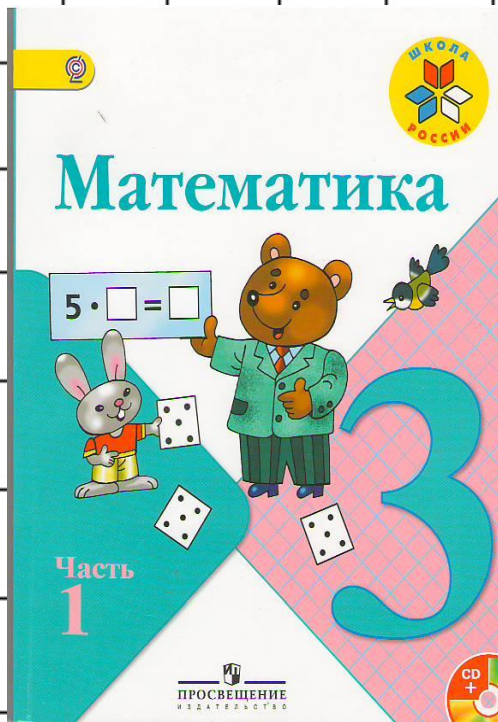
ЗАКРЕПЛЕНИЕ






# Закрепление табличного умножения и деления





Решить примеры  
с.68, №4

Решить задачу  
С.69, № 1








## **ФИЗМИНУТКА**

- Сколько раз ногою топнем? (12:4)
- Сколько раз в ладоши хлопнем? (36:9)
- Сколько будем приседать? (15:5)
- Сколько руки поднимать? (12:2)
- Сколько раз подпрыгнем мы? (40:8)
- Лучше всех мы, посмотри!



# РАБОТА С КАРТОЧКАМИ



1. Проверка таблицы умножения и деления.

2. Найдите площадь и периметр прямоугольника со сторонами 5 см и 3 см.





Д / З



с. 69, №3



# САМООЦЕНКА РЕЗУЛЬТАТОВ ДЕЯТЕЛЬНОСТИ



**Красный** - работаю отлично, со всеми заданиями справляюсь. Могу помочь товарищу.

**Зеленый** - работаю хорошо, иногда нуждаюсь в помощи.

**Желтый** - работать было интересно, но были проблемы, прошу помощи.





**Я - молодец!**

**Мы - команда!**

**Поработали**

**отлично!**

**Супер класс!**






**Спасибо за урок!**



*МОЛОДЦЫ!*





## ЗАДАЧА 1

- ⦿ На кормушке сидело 2 синицы и 6 снегирей. Во сколько раз больше сидело снегирей, чем синиц?





# РЕШИТЬ УРАВНЕНИЯ



$$21 - x = 14$$
$$= 63$$


$$x + 9$$


$$10 + x = 100$$
$$= 64$$

$$x : 8$$

$$12 : x = 6$$
$$= 25$$

$$x * 5$$





$$? \cdot 8 = 24 \quad 7 \cdot ? = 28 \quad 21 : ? = 7$$

$$24 : ? = 6 \quad ? \cdot 9 = 36 \quad 9 \cdot ? = 27$$

$$20 : ? = 5 \quad 18 : ? = 9 \quad 45 : ? = 9$$



