

УРОК ПО МАТЕМАТИКЕ 1

КЛАСС

ЗНАКОМСТВО С ЗАДАЧАМИ

- Учитель начальных классов МБОУ Школы № 47
- г.о. Самара
- Любаева Юлия Ивановна.

Задача

Условие

На полянке 3 тигрёнка шили костюм. К ним пришёл ещё 1 тигрёнок.



Вопрос

Сколько стало тигрят?


Решение

$$3 + 1 = 4$$

Ответ

На полянке стало 4 тигрёнка.

2) Определи, на какие части разбили фигуры. Допиши равенства и подбери для них подходящие схемы.

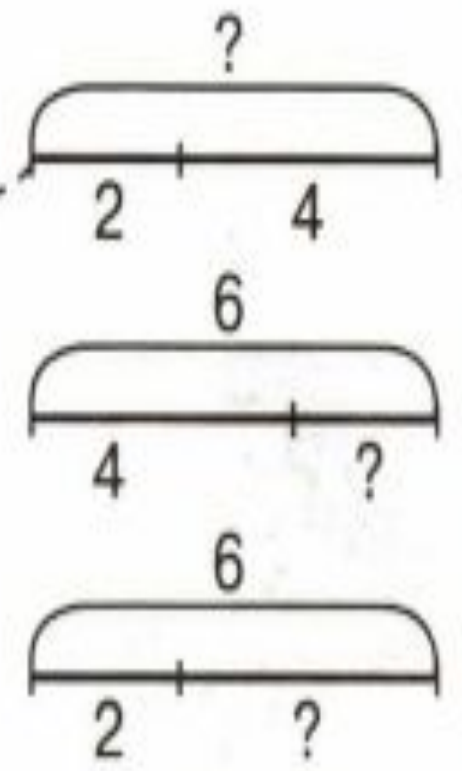


$$2 + 4 = \square$$

$$\square + \square = \square$$

$$\square - \square = \square$$

$$\square - \square = \square$$



Составь по каждой схеме рассказ и поставь вопрос со словом «сколько?»

3 а) Составь задачу из следующих текстов. Зачеркни лишние тексты.

У Тани 4 гриба.

У Тани 4 гриба, а у Саши – 2 гриба.

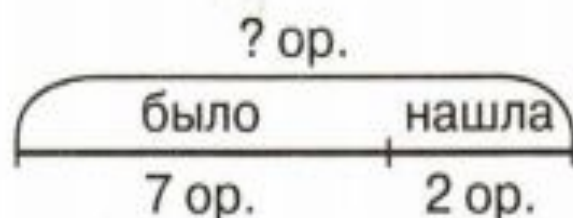
На сколько яблок больше, чем груш?

Сколько грибов у Тани и Саши вместе?



- 4) Что нужно найти в задаче – часть или целое? Составь выражение, запиши решение и ответ.

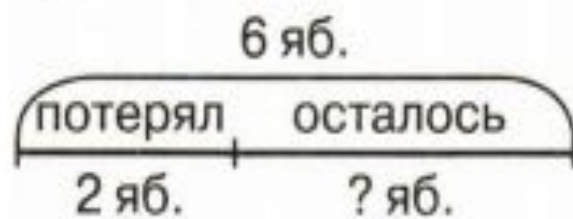
а) У Белки было семь орехов. Она нашла ещё 2 ореха. Сколько орехов стало у Белки?



--	--	--	--

Задача									
.									
Ответ:									

б) Ёжик нёс 6 яблок. Два яблока он потерял. Сколько яблок осталось у Ёжика?



--	--	--	--

Задача									
.									
Ответ:									