

*5 марта.*

*\*Классная работа.*

*\*5 5 5 5 5*

**А теперь только**

**вперёд**

**Начинаем устный счёт.**

# УСТНЫЙ СЧЁТ



**Прочитайте числа и назовите  
«лишнее» число в каждом ряду:**

а) 90, 30, 40, 51, 60;

б) 88, 64, 55, 11, 77, 33;

в) 47, 27, 87, 74, 97, 17.

# ✦ ✦ Найди примеры с ответом 12

$16 - 6$

$20 - 8 = 12$

$6 + 6 = 12$

$7 + 5 = 12$

$6 + 9$

$12 - 0 = 12$

$8 + 3$

$5 + 6$

$7 + 4$



Сторона квадрата 4 см.  
Чему равен его  
периметр?

**9 18 27 36 45 54**

\* Птицы страшные  
летали,  
Братца милого украли.  
Ничего с ним не  
случится -  
Выручит его сестрица



# *Гуси - лебеди*





Жили были мужик да баба. У них была дочка, да маленький сынок . Мать с отцом ушли на работу, а девочке приказали смотреть за братцем. Девочка забыла, что ей приказали .



Посадила она братца под окошко, а сама побежала на улицу и заигралась.

Вдруг налетели гуси- лебеди, слуги Бабы- яги .



Унесли они мальчика.




Вернулась девочка, а братца нет. Увидела она вдалеке метнулись гуси- лебеди и пропали за тёмным лесом.



Бросилась Машенька их догонять,  
да не знает, куда бежать.

-Ох, ребята, помогите, братца моего спасите!  
Лес ведь тот не простой, дружит с математикой.  
Проблему эту не решить без вас,  
помощи прошу у вас.

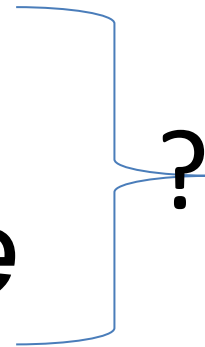


Побежала она в лес. Бежит ,бежит , видит печь стоит .

- Печка, печка, скажи куда гуси- лебеди полетели?
- Испеклись мои пирожки: 15 с яблоками , а с картошкой на 8 больше. Сколько всего пирожков узнай и скорее доставай? Решись задачку , помогу и тропинку укажу .

*Яб. – 15 п.*

*К. - ?, на 8 п. больше*




*1)  $15+8=23$ (п.)- с картошкой*

*2)  $15 + 23 = 38$  (п.)*

*Ответ: 38 пирожков всего .*










Достала пирожки девочка . Указала печка ей тропинку и побежала она дальше.

# Физминутка

**для глаз**







Побежала девочка дальше, стоит яблоня.

- Яблонька, яблонька, скажи, куда гуси-лебеди полетели?
- Подскажу , если узнаешь сколько яблок на мне каждый год вырастает .Ты примеры в столбик реши и ответы все сложи.

## Реши примеры в столбик

$$73 - 55 = 18$$

$$62 - 47 = 15$$

$$23 + 19 = 42$$

$$91 - 66 = 25$$

## Реши примеры в столбик

$$73 - 55 =$$

$$62 - 47 =$$

$$23 + 19 =$$

$$91 - 66 =$$

*Мы отлично  
потрудились*

*И немного утомились*

*Приготовьтесь, все  
ребятки!*

*Танцевальная зарядка!*



- Винт должна ты прокрутить и  
примеры все решить. Начинай  
с большого круга ,только верно  
всё реши, стемнеет скоро  
поспеши.

## Реши уравнения

I ряд

$$y - 54 = 15$$

II ряд

$$a + 17 = 30$$

III ряд

$$43 - x = 20$$




Отпустила Баба- Яга мальчика.

Увидел он свою сестричку, обнял крепко- крепко .




Пришли они домой .А тут и папа с мамой  
вернулись


# Самооценка:



**Все задания смог решить**



**-надо потренироваться  
в решении примеров**



**-не уверен в своих  
знаниях**

**Спасибо вам за  
хорошую работу и за  
радость, которую мы  
друг другу доставили!**

