




Именованные числа



Математика

Числа , полученные при измерении.

4 класс 1 четверть

Меры длины

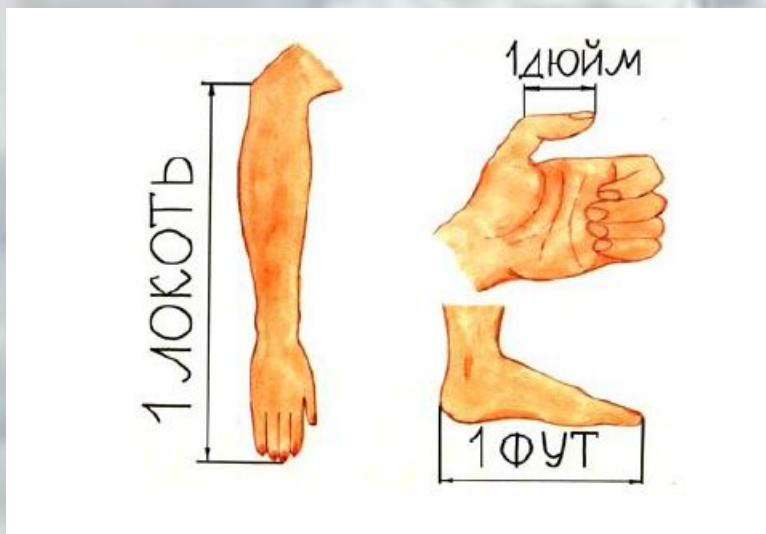


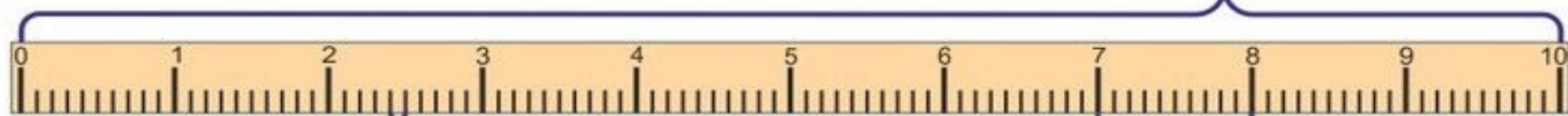
ТАБЛИЦА МЕР ДЛИНЫ



$$1 \text{ км} = 1\,000 \text{ м}$$

1 км

1 м



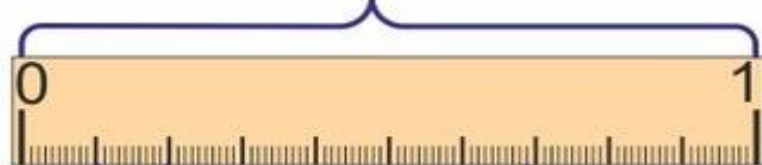
1 см

1 дм

$$1 \text{ м} = 10 \text{ дм} = 100 \text{ см}$$

$$1 \text{ дм} = 10 \text{ см} = 100 \text{ мм}$$

$$1 \text{ см} = 10 \text{ мм}$$



1 см

1 мм

Меры длины



СМ=



ММ



ДМ=



СМ



ДМ =



ММ



М=



СМ



КМ=



М

СМ-сантиметр
ММ-миллиметр
М-метр
ДМ-дециметр
КМ-километр
обозначения мер
длины

Ход урока.

Вспомним известные меры длины.



Задание.

Сравнение единиц измерения длины.

1м * 1см

1дм * 1см

2м50см * 2м05см

3м02см * 3м2дм



Измерь, какой длины верёвочка у мальчика.

? CM



У кого письмо длиннее? Сравни.



Мышка хочет побыстрее добежать до сыра. Какая дорожка короче? Измерь их и сравни.

