

**Презентация к уроку
по учебному предмету
«Математика»**

в 1-ом классе на тему

**«Вычитание из чисел
вида:**

8- □, 9- □».

Подготовила учитель нач.кл.

Порохова Кристина Владимировна

МБОУ НОШ № 17 г.Пятигорска

Ставропольского края



**Путешествие
на планету**

**Помогите!!!
Спасите!!!
Наша планета
гибнет!!!
Высылаем
карту!!!**



Карта путешествия



Полёт на планету



Планета Ч




Волшебный лес



старт



Путь домой




Дворец смекалки



Водопады мудрости

Старт. Посадка.

- Экипаж должен путешествовать в ракете. Чтобы в нее попасть, надо преодолеть 8 ступенек.




Обратный отсчёт .
Пуск....



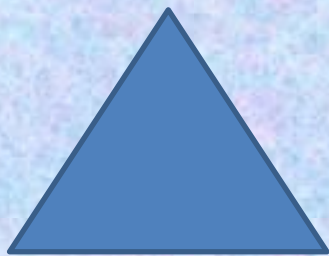


Выберите правильный путь к планете Ч



3 у, 4 у, 5 у, 6 у.





Как называются

какая фигура?

следующая?

Начертите.

Здравствуйте, Земляне! Вы
на планете Ч. Это озеро
Неизвестности, оно мелеет.
Помогите нам спасти озеро!



8	
7	1
6	2
5	4
4	4

Чтобы
вычитать
различные
числа

9	
8	1
7	2
3	6
4	5

$$8 - 1 = 7$$

из 8 и 9,

$$9 - 8 = 1$$

$$8 - 6 = 2$$

нужно знать

$$9 - 2 = 7$$

$$8 - 4 = 4$$

состав чисел.



$$9 - 5 = 4$$

Спасибо, ребята. Наше
озеро спасено, Ура!


А теперь я
провожу Вас в
наш
волшебный
сад.




В нашем саду
поселились цветы
вредители, от них
гибнет сад. Но мы
не можем их
найти, они умело
маскируются.
Помогите!




На ваших столах
листики, номер
задачи
соответствует
номеру цветка.
Найдите те, что
задачами не
называются, это и
есть вредители.



1. В одной книге 6 сказок. Сколько сказок в другой книге?



2. У Ани 3 матрёшки, а у Иры на 4 больше.




3. В одной книге 6 сказок, в другой 2. Сколько сказок в обеих книгах?




4. У Ани матрёшки, а у Иры на 4 больше. Сколько матрёшек у Иры?



5. Вася купил 7 тетрадей, а Петя 3. Сколько стоит ручка?



3. В одной книге 6 сказок, в другой 2. сколько сказок в обеих книгах?



1 к. – 6

с.

}

?

2 к. = 2 (с.)

с.

Спасибо,
ребята!
Наш сад
спасён!



А это Водопады
Мудрости, они
высыхают и скоро
совсем исчезнут.
Помогите нам спасти
их!



$$8 \dots \dots$$
$$= 1$$

$$\dots - 6 = 2$$

$$8 \dots 5 =$$

3

$$8 - \dots = 6$$

$$9 \dots \dots =$$

6

$$\dots - 1 = 8$$

$$9 \dots 4 =$$

5

$$9 - \dots = 7$$

Спасибо, Ребята!



$$8 - 7 = 1$$

$$8 - 6 = 2$$

$$8 - 5 = 3$$

$$8 - 2 = 6$$

$$9 - 3 = 6$$

$$9 - 1 = 8$$

$$9 - 4 = 5$$

$$9 - 2 = 7$$



А это Дворец
смекалки. Помогите
сохранить его!



• По двору ходят куры. У всех кур Петя насчитал 6 ног.

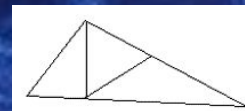
• Сколько кур?

3


• В семье четверо детей: сестёр столько же, сколько братьев и сестёр. Сколько сестёр?

2

Сколько треугольников на рисунке?



5



Спасибо,
земляне, за
спасение нашей
планеты, вот вам
короткий путь
возвращения
домой!

- 8 уменьши на 5
- найди разность 9 и 4
- 4 увеличь на 5
- 9 уменьши на 2
- найди сумму 3 и 5





11

12

7

8

10

9

6

5

3

1

4

2



Наше путешествие закончилось!
На какой планете мы побывали?
Почему планета Ч?

**ВЕРНО! ПЛАНЕТА
ЧИСЕЛ**

Оцените наше пътешествие на планету Ч .

