

# *Математика*

## Тема: «Увеличение и уменьшение числа на несколько единиц»

КС(к)ОУ»Калининская специальная (коррекционная)  
общеобразовательная школа – интернат

Учитель: Яблокова В.Н.

*Мальвина учит Буратино считать*



# *Устный счет*



# Посчитайте и найдите ошибки

$$16 - 6 = 10$$

$$10 + 5 = 15$$

$$17 - 2 = 15$$

$$9 + 10 = 19$$

$$7 + 3 = 10$$

$$18 + 2 = 20$$





# *Пальчиковая гимнастика*



# *Чистописание*

*8 декабря.*

*Классная работа.*

*15 15*

*5, 15, 7, 11, 17, 2, 19, 1, 4.*

Проверь.

*1, 2, 4, 5, 7, 11, 15, 17, 19.*

# *Увеличить на 3*





# *Наш весёлый снеговик*







# *Физкультминутка*



# Составьте и решите задачу



—



—

?, на 5 снежинок больше

выбери правильное решение

$$10 \text{ сн} + 5 \text{ сн} = 15 \text{ сн.}$$

Ответ: 15 снежинок.

$$10 \text{ сн} - 5 \text{ сн} = 5 \text{ сн.}$$

Ответ: 5 снежинок



Запиши решение задачи.

- У Буратино было 16 ёлочных игрушек, а у Мальвины на 4 игрушки меньше. Сколько игрушек было у Мальвины?











# Проверь.


- **16игр.-4игр.=12игр.**
- **Ответ: 12 игрушек.**



Найди недостающую фигуру

й

		
		
		?



## Итог урока.

*Мне понравилось....*

*Я сумел....*

*Было трудно....*

*У меня получилось .....*

*Я не смог....*

