

Урок - обобщение



**Жеребцова Ирина Дмитриевна,
учитель начальных классов
г. Тарко-Сале, ЯНАО**

Отгадай загадку

**Знают взрослые и дети,
Что упал с другой планеты-
Фиолетовый зверёк,
Детям маленький дружок!**



ЛУНТИК

Дорогие ребята!

«Мы с дядюшкой Шером просим вас о помощи! Недавно мы построили 2-х этажную школу для всех жителей нашей планеты, но братья гусеницы Пупсень и Вупсень заколдовали её. Чтобы расколдовать школу, необходимы ваши знания и умения! Помогите нам пожалуйста!»


Ваш друг, Лунтик.

УСТНЫЙ СЧЕТ:

- | | |
|---|---|
| 1. Найди сумму чисел 3 и 16. | 5. От суммы чисел 80 и 4 надо отнять 3. |
| 2. Первый множитель 5, второй 7. Найдите произведение. | 6. На сколько 9 десятков больше 3 единиц? |
| 3. Из какого числа надо вычесть 5, чтобы получилось 43? | 7. Найди произведение чисел 7 и 9. |
| 4. Уменьшаемое 27, вычитаемое 8. Найдите разность. | 8. Первое слагаемое 45. Чему равно второе слагаемое, если сумма равна 50? |

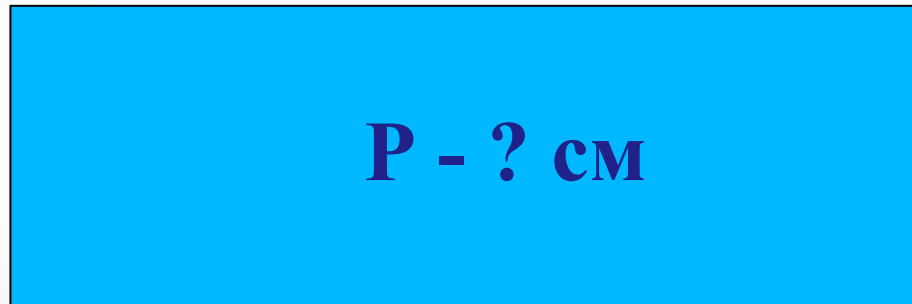
19, 35, 48, 19, 81, 87, 63, 5.

**Первый этаж школы
восстановлен!**





Найдите периметр прямоугольника.

6 см



8 см

Два этажа школы восстановлены!
Молодцы!



Реши примеры в тетради

$17 + 20 = \bigcirc$

$93 - 30 = \bigcirc$

$82 + 7 = \bigcirc$

$78 - 9 = \bigcirc$


$42 - 3 = \bigcirc$

$100 - 50 = \bigcirc$

$39 + 1 = \bigcirc$

$66 + 5 = \bigcirc$



А вот и крыша!



Реши задачу

Старшеклассники сделали к празднику 90 игрушек. 37 игрушек они подарили первоклассникам, 26 игрушек отнесли в детский сад, а остальные игрушки отдали своим братьям и сёстрам. Сколько игрушек ребята отдали своим братьям и сёстрам?


С окошками-то куда веселее!



Задание на внимательность

В комнате горело 50 свечей, 20 из них задули. Сколько свечей в комнате?

С окошками-то куда веселее!





**Лунтик и его друзья
благодарят вас, ребята!**