

# Переведи.

- 8 см 3 мм = **83** мм
- 14 мм = **1** см **4** мм
- 200 см = **2** м
- 67 дм = **6** м **7** дм
- 55 см = **5** дм **5** см
- 73 мин = **1** ч **13** мин



# Найди ошибку

$9 \times 4 = 36$

$64 : 8 = 8$

$7 \times 9 = 63$

$9 : 3 = 3$

$32 : 4 = 8$

$5 \times 9 = 45$

$9 \times 9 = 81$

$36 : 6 = 6$

$42 : 6 = 8$

7

7

28


54

32



# Найди ошибки

- $7\text{ дм } 3\text{ см} = 73 \text{ см}$
- $6\text{ дм} = 600 \text{ мм}$
- $34 \text{ мм} = 3 \text{ см } 4 \text{ мм}$
- $57 \text{ дм} = 5 \text{ см } 7 \text{ дм}$
- $80 \text{ см} = 800 \text{ мм}$
- $1 \text{ ч } 4 \text{ мин} = 64 \text{ мин}$
- $74 \text{ мин} = 1 \text{ ч } 14 \text{ мин}$



# Найди ошибку


- $7 \text{ см} = 70 \text{ мм}$
- $32 \text{ дм} =$   **$3 \text{ м } 2 \text{ дм}$**
- $400 \text{ мм} = 40 \text{ см}$
- $51 \text{ мм} = 5 \text{ см } 1 \text{ мм}$
- $3 \text{ м} =$   **$300 \text{ см}$**
- $1 \text{ м} = 100 \text{ см}$

**$100 \text{ см}^2$**



# Составь равенства или неравенства

$$9 \times 3 = 3 \times 9$$
$$9 \times 3 > 30 - 6 <$$
$$= 30 - 3$$



$17 \quad \bullet \quad 26 = 43$



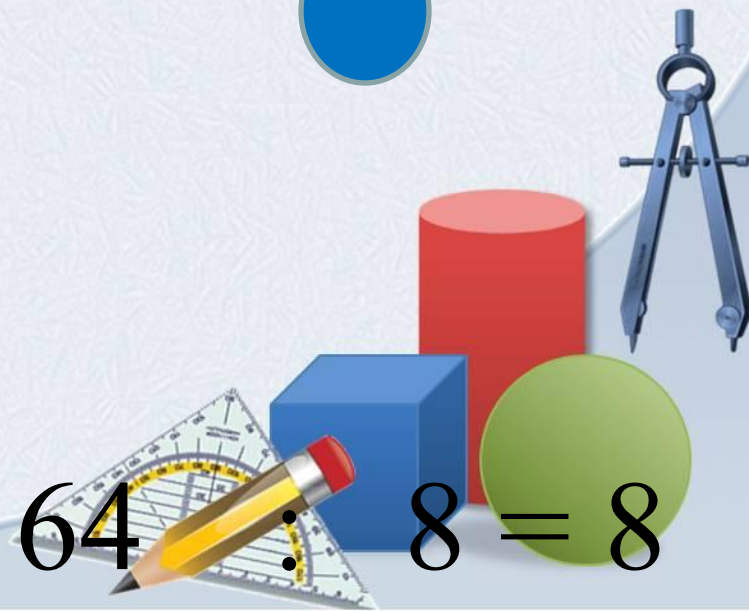
$7 \quad \bullet \quad 8 = 56$



$27 \quad \bullet \quad 3 = 9$



$63 \quad \bullet \quad 28 = 35$



$64 : 8 = 8$

# НАЙТИ ЗНАЧЕНИЯ ВЫРАЖЕНИЙ

**$a : 7$**

***При  $a = 49$***

***При  $a = 35$***

***При  $a = 56$***


***При  $a = 63$***

**$bx 8$**

***При  $b = 9$***

***При  $b = 8$***

***При  $b = 7$***



# Сравни

- 2 дм 4 см  $<$  42 см
- 5 см 5 мм  $<$  5 дм
- 8 см  $>$  18 мм
- 3 м 4 дм  $=$  34 дм
- 2 м  $=$  200 см
- 1 ч 15 мин  $<$  115 мин





$$24 \cdot \square = C$$


- Если  $C = 24$ ,  
то  $24 : 24 = 1$
- Если  $C = 3$ ,  
то  $24 : 3 = 8$
- Если  $C = 6$ ,  
то  $24 : 6 = 4$

- Если  $C = 8$ ,



# Переведи.

- 8 см 3 мм = **83** мм
- 14 мм = **1** см **4** мм
- 200 мм = **2** м
- 67 дм = **6** м **7** дм
- 55 см = **5** дм **5** см
- 61 мин = **1** ч **1** мин



# Исправь ошибку

•  $6 \times 4 = 24$

•  $5 \times 9 = 45$

•  $36 : 6 =$  **6**


**9**

•  $8 \times 6 =$  **48**

•  $63 : 7 = 9$

•  $7 \times 7 = 49$

•  $32 : 4 = 8$



# Сравни

•  $42:6 < 56:7$

=

•  $3 \times 7 < 6 \times 4$

<

•  $45:5 = 36:4$

>

•  $7 \times 7 > 53-5$


<

•  $7 \times 9 > 25+34$

>


•  $8 \times 6 < 7 \times 7$

•  $4 \text{ м} \quad 40 \text{ дм}$



# Вырази:

- 104 см = **1** м **4** см
- 45 дм = **4** м **5** дм
- 90 см = **9** дм
- 15 мм = **1** см **5** мм
- 64 мин = **1** ч **4** мин
- 70 мин = **1** ч **10** мин




Найти разность 67 и С

$$67 - c$$

- $c = 60$

- $c = 49$

- $c = 9$




Найти сумму  $a$  и 39

$$a + 39$$

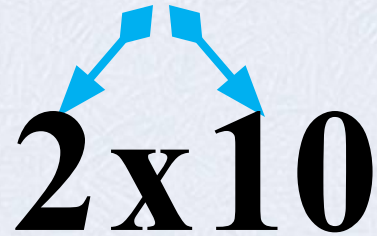
- $a = 57$

- $a = 8$

- $a = 1$




$$80 : 20 = 4$$



2 x 10

$$80 : 10 : 2 = 4$$





$$18 \times 4 = 72$$

+

40

32

$$( 50 + 35 ) : 5 = 17$$

*10*

*7*

**+**