






Устный счет

(математика, 1 класс)



Дорогие друзья!
Приглашаю вас в
Страну Математики.
Вас ждут волшебные
задания.
Удачи!



Восстанови ряд чисел

0 1 2 3 4 5 6 7 8 9 10

11 12 13 14 15 16 17 18 19 20



Веселый счет



7



5



2



Сосчитай сколько предметов



Прочитай числа:

17

8

10

15

4

20

7

11

Назови числа,
которые:
больше 9,



17

8

10

15

4

20

7

11

Назови числа,
которые:
меньше 11



Назови «соседей» числа

8 9 10

5 6 7

3 4 5

? 8 9

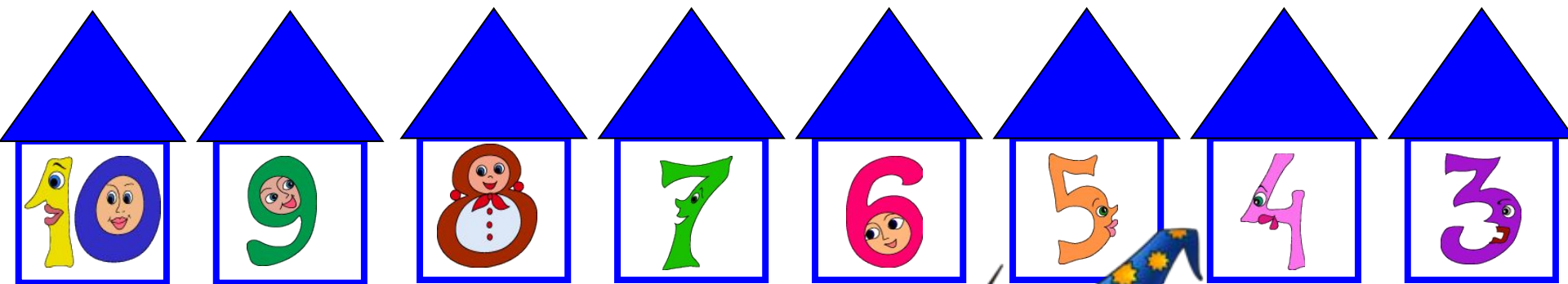
? 2 3

6 7 8



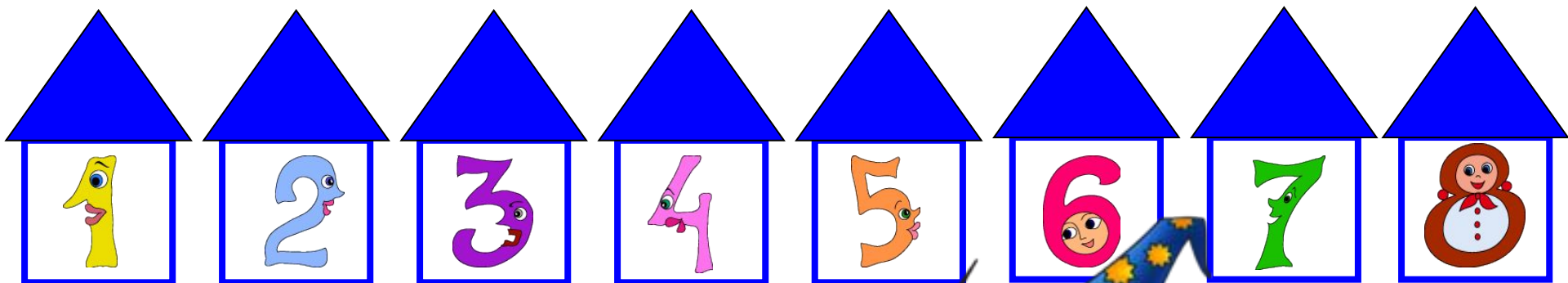
Помоги Волшебнику расселить
числа в домики по убыванию:

6 8 3 10 5 7 4 9



Помоги Волшебнику расселить
числа в домики по возрастанию:

2 5 7 1 3 6 8 4



Куда катится каждый клубок?

7



7



6



5 + 3

5



4

10 - 3



9

9

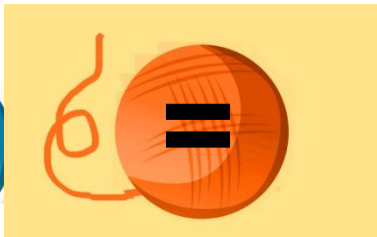
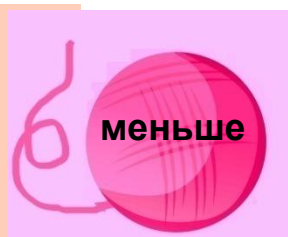

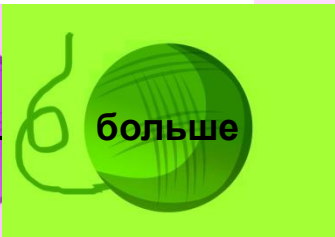


8

8




4 + 4







Сколько треугольников?

8




Назови геометрические фигуры




Волшебный поезд


Найди номер последнего вагона




+



+



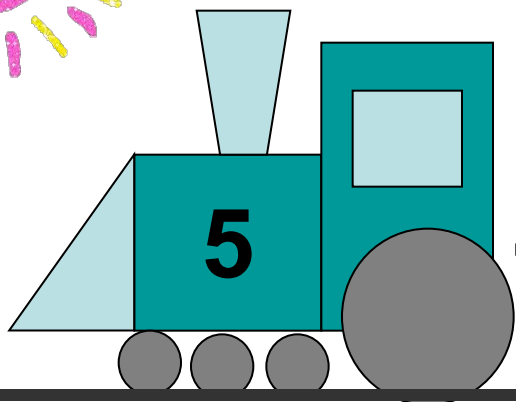
=




- 1
- 2
- 3
- 4
- 5
- 6
- 7
- 8
- 9
- 10

Волшебный поезд


Найди номер последнего вагона




+



-



=



1 2 3 4 5 6 7 8 9 10

Волшебный поезд

Найди номер последнего вагона

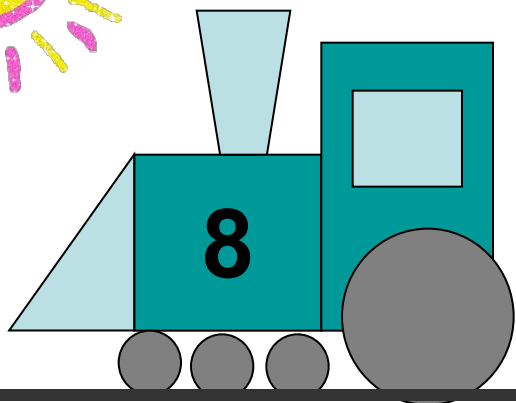


$$10 - 3 + 2 = 9$$


1 2 3 4 5 6 7 8 9 10

Волшебный поезд


Найди номер последнего
вагона




-



-



=

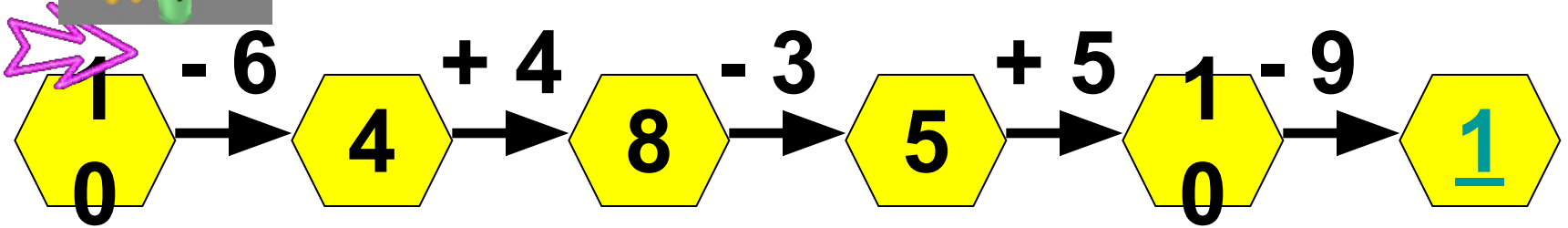


1 2 3 4 5 6 7 8 9 10

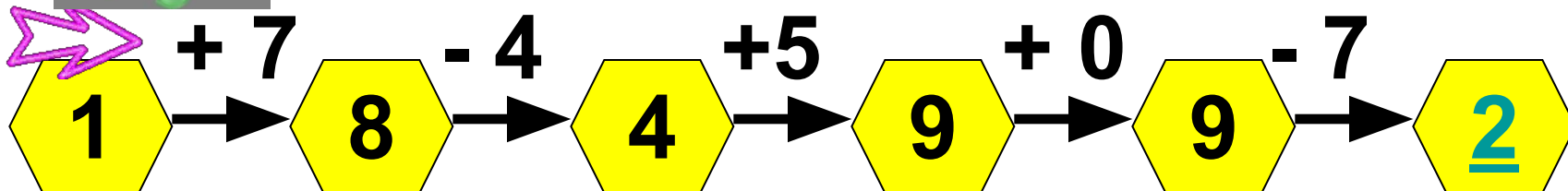
Волшебная цепочка



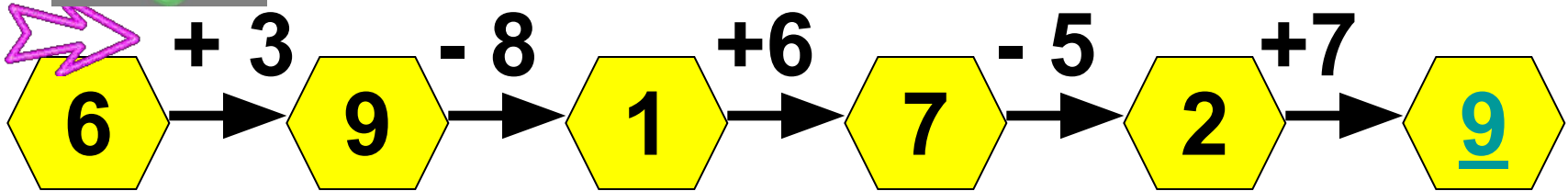
Помоги пчелке



Помоги пчелке



Помоги пчелке



Спасибо!



Выбери правильный ответ

У бабы Яги на носу 3 бородавки, а у Кощея Бессмертного – на 6 бородавок больше. Сколько бородавок теснится на носу у Кощея Бессмертного?



Выбери правильный ответ:

Василиса Премудрая
загадала царю **10**
загадок. Царь отгадал **6**.
Сколько загадок царю
осталось отгадать ?



Выбери правильный ответ:

В первой волшебной книге содержится **9** заклинаний, а во второй на **2** меньше. Сколько заклинаний содержится во второй книге?



Выбери правильный ответ:

Большой рейсовый ковер-самолёт вмещает **5** пассажиров. Сколько пассажиров может перевезти ковер-самолет за два рейса?



Выбери правильный ответ:

У чародея **7** колдовских книг и **3** волшебные палочки. На сколько у чародея больше книг, чем волшебных палочек?



10

4

8



Молодцы!



Спасибо!



Спасибо!

