



2 класс





*В каждом задании
найди правильный
ответ и нажми на
него!*



В каком числе
4 десятка и 7 единиц?



Умница

Я
расстроен

...

74

17

47



Какое число меньше, чем 70,
на 1?



Так
держаться


!

Подумай!

59

71

69



Найди сумму чисел 8 и
50.

Молодец!


Неверно.



42

58

55



Найди разность чисел 94
и 4.

Верно.


...Т
быть.



98

90

54



**Найди число, в котором 5
десятков,
а единиц на 2 меньше.**



Порадова


Эх,...



53

52

35



Какое число увеличили на 7,
если получили 30?



Внимательные


Умница!



29

23

37



**Какое число уменьшили на 9,
если получили 21?**

Ты победитель!


не спеши



30

12

11



Оцени свою работу:

Быстро и без ошибок.

Медленно, но без ошибок.

**Допустил 1
ошибку.**

**Допустил более 2
ошибок.**

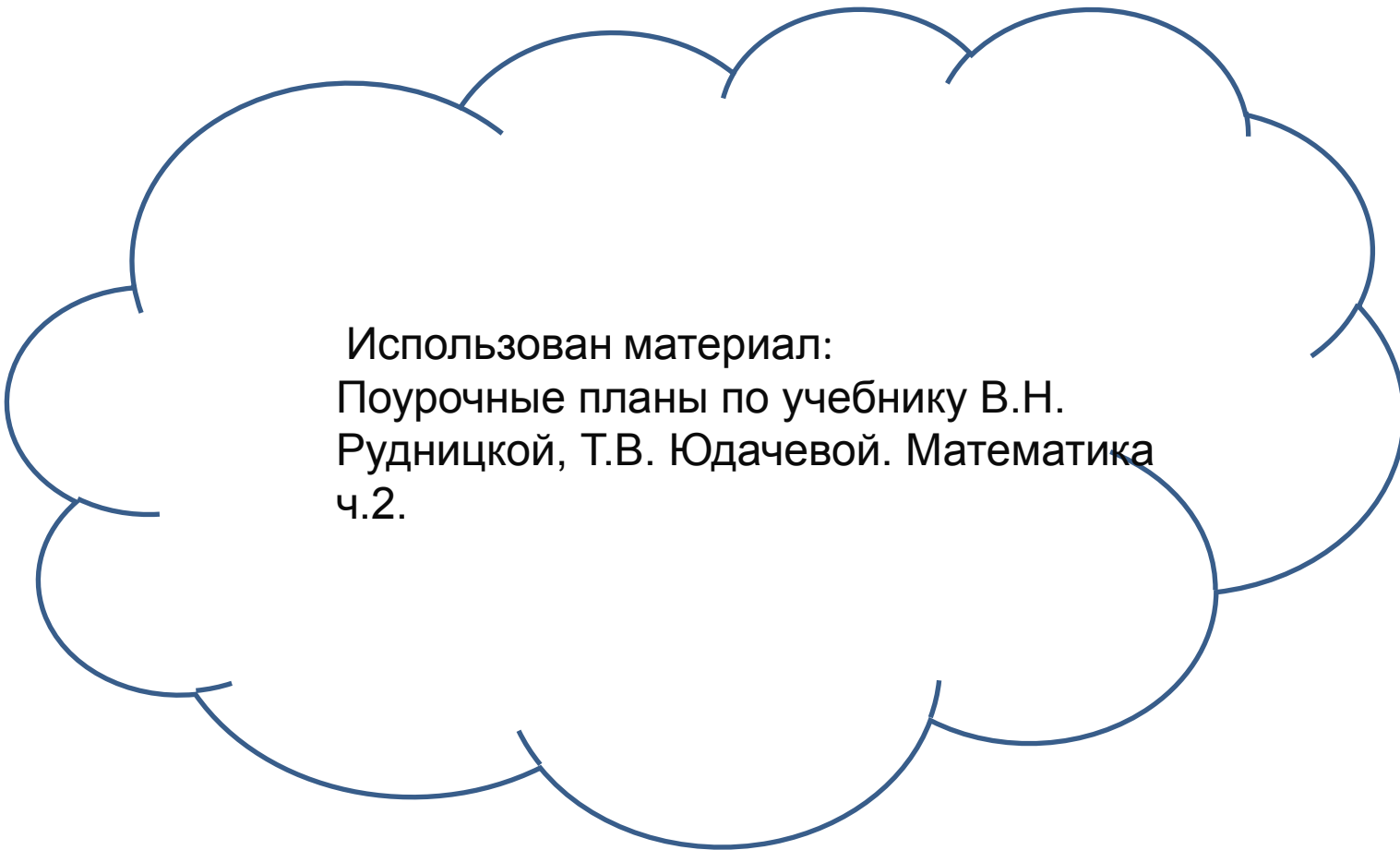
Твоя отметка

5.

Твоя отметка

**4. Довтори состав
чисел. И попробуй
еще раз.**





Использован материал:
Поурочные планы по учебнику В.Н.
Рудницкой, Т.В. Юдачевой. Математика
ч.2.

В работе использованы:

Анимированные изображения:

<http://lisyonok.ucoz.ru/index/0-97>

Программное обеспечение:

для создания презентации - Microsoft Office PowerPoint 2007;

Музыка и фигуры из коллекции Microsoft Office PowerPoint 2007.

Инструкция по работе с презентацией.

Пояснительная записка.