




# ТЕСТ

## «Преобразования величин»





В каких единицах ты  
выразишь площадь  
комнаты?


№

1

В метрах

В  
сантиметрах

В  
квадратных  
метрах





# Выбери пару равных

№


2




3 кг 40 г и 3040 г

13 ц и 13000 кг

5 т 80 кг и 5800 кг






Масса девяти  
холодильников  
2 т 7 ц. Чему равна масса  
такого  
ика?

30 ц

300 кг

300 ц





Найди площадь квадрата,  
если его периметр равен 1 м  
60 см.


№  
4




16 дм<sup>2</sup>

160 см<sup>2</sup>

16 м<sup>2</sup>





Выбери знак, пропущенный  
в записи:  $500 \text{ дм}^2 \dots 9 \text{ м}^2$ .


№


5

>

<

=







Миша пробежал дистанцию за 1 минуту 45 секунд, Серёжа – за 145 секунд, а Толя – за 115 секунд. Кто из них занял 1 место?

Толя

Серёж  
а

Миша






Выбери пару величин,  
которую можно сравнить.



63км и 6300мм

43м и 34 м<sup>2</sup>

85кг и 82 км







**Выбери запись величин в порядке возрастания.**


**№**

**8**

**1 сут, 2 мин, 25 ч,  
130с.**

**130с, 2 мин, 25  
сут.**

**2 мин, 130с, 1 сут,  
25ч.**





Книга стоит 120рублей 20 копеек,  
она в 4 раза дороже блокнота.  
Сколько стоит блокнот?

№1

0

30руб. 20коп.

480руб.  
80коп.

30руб.  
5коп.

