




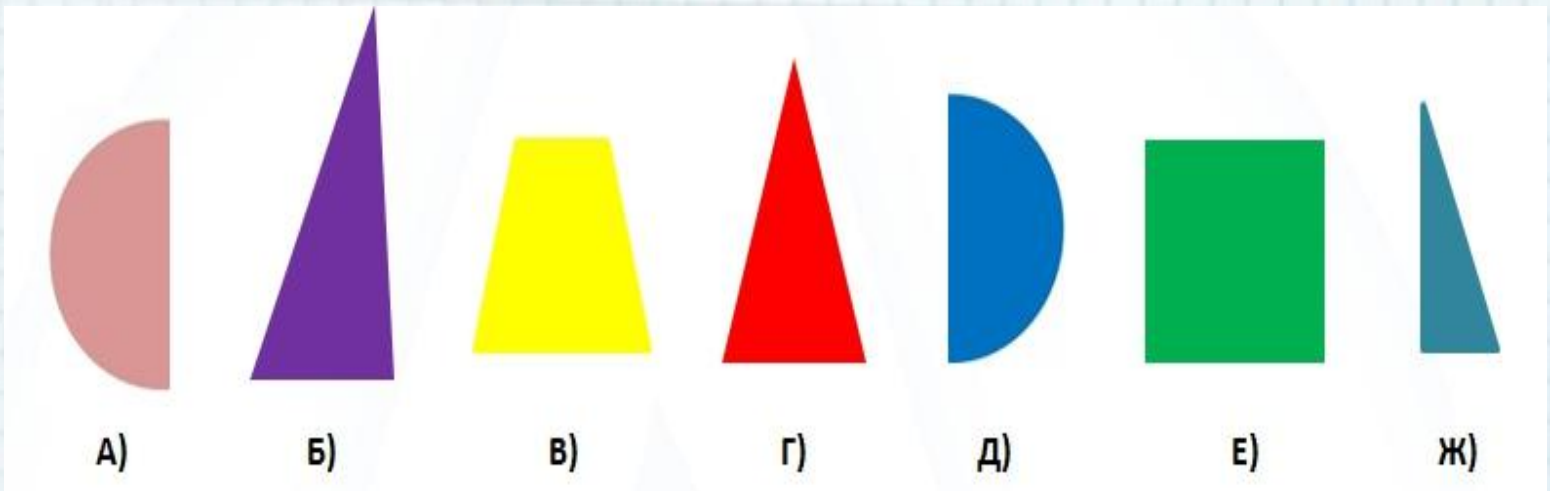
«Весёлая математика»

1 3 5 7 9
2 4 6 8






На рисунке изображены части фигур. Только из двух частей можно составить круг. Укажите их:





Укажите количество окошек в вагончике, который едет четвертым с конца?
(тележка с подарками считается вагончиком)



Укажите числа, которые
в сумме дают число,
расположенное в
середине звездочки:






**Выберите число,
которое обозначает
количество карандашей
на картинке:**

- А) 5
- Б) 8
- В) 6
- Г) 7





Укажите картинку, на которой предметов больше, чем 4, но меньше, чем 7:





Найдите закономерность и продолжите ряд:



А

Б

В





Три кошки кушали из разных мисок.
Рыжая кошка кушала не из синей и не
из красной миски. Белая кошка – не из
красной и не из зеленой миски. Из
какой миски кушала черная кошка?



- А) из синей
- Б) из красной
- В) из зелёной



Какая из ленточек не тонкая и не короткая (одновременно)?



А



Б



В





**Рассмотрите рисунок и
сосчитайте количество
геометрических фигур:**

